

## Education Consultant India Ltd.

### Notations :

- Options shown in green color and with ✓ icon are correct.
- Options shown in red color and with ✗ icon are incorrect.

Question Paper Name:	Assistant Teacher Primary 14th November 2019 Shift 2
Subject Name:	ASSISTANT TEACHER PRIMARY
Creation Date:	2019-11-14 16:55:43
Duration:	120
Total Marks:	200
Display Marks:	Yes
Share Answer Key With Delivery Engine:	No
Actual Answer Key:	Yes
Calculator:	None
Magnifying Glass Required?:	No
Ruler Required?:	No
Eraser Required?:	No
Scratch Pad Required?:	No
Rough Sketch/Notepad Required?:	No
Protractor Required?:	No
Show Watermark on Console?:	Yes
Highlighter:	No
Auto Save on Console?:	No

### Mental Ability

Group Number :	1
Group Id :	9983671361
Group Maximum Duration :	0
Group Minimum Duration :	0
Revisit allowed for view? :	No
Revisit allowed for edit? :	No
Break time:	0
Group Marks:	20
Revisit allowed for group Instructions? :	Yes
Maximum Instruction Time:	0
Minimum Instruction Time:	0

### Mental Ability

Section Id :	9983671760
Section Number :	1
Section type :	Online
Mandatory or Optional:	Mandatory
Number of Questions:	20
Number of Questions to be attempted:	20
Section Marks:	20

Display Number Panel: Yes  
Group All Questions: No

Sub-Section Number: 1  
Sub-Section Id: 9983672184  
Question Shuffling Allowed : Yes

Question Number : 1 Question Id : 99836742253 Question Type : MCQ Option Shuffling : Yes Display Question Number : Yes  
Single Line Question Option : No Option Orientation : Vertical  
Correct Marks : 1 Wrong Marks : 0.25

A series is given with one term missing. Select the correct alternative from the given ones that will complete the series.

JR13, MO27, PL55, SI111, ?

Options :

1. ✓ VF223
2. ✗ UF223
3. ✗ VF221
4. ✗ WF223

Question Number : 1 Question Id : 99836742253 Question Type : MCQ Option Shuffling : Yes Display Question Number : Yes  
Single Line Question Option : No Option Orientation : Vertical  
Correct Marks : 1 Wrong Marks : 0.25

एक अनुक्रम दिया गया है, जिसमें से एक पद लुप्त है। दिए गए विकल्पों में से वह सही विकल्प चुनिए, जो अनुक्रम को पूरा करे।

JR13, MO27, PL55, SI111, ?

Options :

1. ✓ VF223
2. ✗ UF223
3. ✗ VF221
4. ✗ WF223

Question Number : 2 Question Id : 99836742254 Question Type : MCQ Option Shuffling : Yes Display Question Number : Yes  
Single Line Question Option : No Option Orientation : Vertical  
Correct Marks : 1 Wrong Marks : 0.25

A series is given with one term wrong. Select that wrong term from the given alternatives.

17KT, 19PZ, 21UF, 29ZL, 31ER

Options :

1. ✗ 19PZ
2. ✓ 21UF
3. ✗ 31ER
4. ✗ 17KT

Question Number : 2 Question Id : 99836742254 Question Type : MCQ Option Shuffling : Yes Display Question Number : Yes  
Single Line Question Option : No Option Orientation : Vertical  
Correct Marks : 1 Wrong Marks : 0.25

एक अनुक्रम दिया गया है, जिसमें से एक पद गलत है। दिए गए विकल्पों में से उस गलत पद को चुनिए।

17KT, 19PZ, 21UF, 29ZL, 31ER

Options :

1. ✖ 19PZ
2. ✔ 21UF
3. ✖ 31ER
4. ✖ 17KT

Question Number : 3 Question Id : 99836742255 Question Type : MCQ Option Shuffling : Yes Display Question Number : Yes  
Single Line Question Option : No Option Orientation : Vertical

Correct Marks : 1 Wrong Marks : 0.25

In the following question options, letter pairs are given. The letters on left side of (-) is related to the letters on the right side of (-) with some Logic/Rule/Relation. Three are similar on basis of same Logic/Rule/Relation. Select the odd one out from the given alternatives.

Options :

1. ✖ KT - PG
2. ✔ LM - NO
3. ✖ NG - MT
4. ✖ HR - SI

Question Number : 3 Question Id : 99836742255 Question Type : MCQ Option Shuffling : Yes Display Question Number : Yes  
Single Line Question Option : No Option Orientation : Vertical

Correct Marks : 1 Wrong Marks : 0.25

नीचे दिए गए प्रश्न विकल्पों में, अक्षर युग्म दिए गए हैं। (-) के बायीं ओर दिये गये अक्षर (-) के दायीं ओर दिये गये अक्षर से किसी तर्क/नियम/संबंध से संबंधित है। तीन उसी एक तर्क/नियम/संबंध के आधार पर समान हैं। दिए गए विकल्पों में से विषम को चुनिए।

Options :

1. ✖ KT - PG
2. ✔ LM - NO
3. ✖ NG - MT
4. ✖ HR - SI

Question Number : 4 Question Id : 99836742256 Question Type : MCQ Option Shuffling : Yes Display Question Number : Yes  
Single Line Question Option : No Option Orientation : Vertical

Correct Marks : 1 Wrong Marks : 0.25

In the following question, select the related words from the given alternatives.

Den : Lion : Nest : ?

Options :

1. ✖ Cat
2. ✖ Crocodile
3. ✔ Bird
4. ✖ Dog

Question Number : 4 Question Id : 99836742256 Question Type : MCQ Option Shuffling : Yes Display Question Number : Yes  
Single Line Question Option : No Option Orientation : Vertical

Correct Marks : 1 Wrong Marks : 0.25

निम्नलिखित प्रश्न में दिए गए विकल्पों में से संबंधित शब्दों को चुनिए।

गुफा : शेर :: घोंसला : ?

Options :

1. ✖ बिल्ली
2. ✖ मगरमच्छ

3. ✓ पक्षी

4. ✗ कुत्ता

Question Number : 5 Question Id : 99836742257 Question Type : MCQ Option Shuffling : Yes Display Question Number : Yes  
Single Line Question Option : No Option Orientation : Vertical

Correct Marks : 1 Wrong Marks : 0.25

In the following question, select the related word pair from the given alternatives.

Field : Farmer :: ?

Options :

1. ✗ Theatre : Scientist

2. ✓ Factory : Worker

3. ✗ Servant : House

4. ✗ Restaurant : Doctor

Question Number : 5 Question Id : 99836742257 Question Type : MCQ Option Shuffling : Yes Display Question Number : Yes  
Single Line Question Option : No Option Orientation : Vertical

Correct Marks : 1 Wrong Marks : 0.25

निम्नलिखित प्रश्न में दिए गए विकल्पों में से संबंधित शब्द युग्म को चुनिए

खेत : किसान :: ?

Options :

1. ✗ थियेटर : वैज्ञानिक

2. ✓ फैक्टरी : मजदूर

3. ✗ नौकर : घर

4. ✗ भोजनालय : चिकित्सक

Question Number : 6 Question Id : 99836742258 Question Type : MCQ Option Shuffling : Yes Display Question Number : Yes  
Single Line Question Option : No Option Orientation : Vertical

Correct Marks : 1 Wrong Marks : 0.25

In a certain code language, 'TRAINERS' is written as 'WWDNQJUX'. What is the code for 'GAMBLING' in that code language?

Options :

1. ✗ KFPAGONQL

2. ✗ LEPAGONQL

3. ✗ JEQAGONQL

4. ✓ JFPAGONQL

Question Number : 6 Question Id : 99836742258 Question Type : MCQ Option Shuffling : Yes Display Question Number : Yes  
Single Line Question Option : No Option Orientation : Vertical

Correct Marks : 1 Wrong Marks : 0.25

एक विशिष्ट कोड भाषा में, 'TRAINERS' को 'WWDNQJUX' लिखा जाता है। इस कोड भाषा में 'GAMBLING' का कोड क्या है?

Options :

1. ✗ KFPAGONQL

2. ✗ LEPAGONQL

3. ✗ JEQAGONQL

4. ✓ JFPAGONQL

Question Number : 7 Question Id : 99836742259 Question Type : MCQ Option Shuffling : Yes Display Question Number : Yes  
Single Line Question Option : No Option Orientation : Vertical

**Correct Marks : 1 Wrong Marks : 0.25**

Pointing towards a woman, a man said "She is the daughter of brother of my father's only daughter". How is that woman related to that man?

**Options :**

1. ✓ Daughter
2. ✗ Wife
3. ✗ Aunt
4. ✗ Sister

**Question Number : 7 Question Id : 99836742259 Question Type : MCQ Option Shuffling : Yes Display Question Number : Yes**  
**Single Line Question Option : No Option Orientation : Vertical**

**Correct Marks : 1 Wrong Marks : 0.25**

एक महिला की ओर संकेत करते हुए, एक पुरुष ने कहा "वह मेरे पिता की एकमात्र पुत्री के भाई की पुत्री है"। वह महिला उस पुरुष से किस प्रकार संबंधित है?

**Options :**

1. ✓ पुत्री
2. ✗ पत्नी
3. ✗ बुआ
4. ✗ बहन

**Question Number : 8 Question Id : 99836742260 Question Type : MCQ Option Shuffling : Yes Display Question Number : Yes**  
**Single Line Question Option : No Option Orientation : Vertical**

**Correct Marks : 1 Wrong Marks : 0.25**

Eight persons A, B, C, D, E, F, G and H are sitting around a circular table facing towards the centre. C is third to the right of A. F is sitting opposite to G. H is the immediate neighbour of C and G. D is third to the left of E. If A is to the immediate left of G, then who is sitting opposite to H?

**Options :**

1. ✓ B
2. ✗ A
3. ✗ C
4. ✗ D

**Question Number : 8 Question Id : 99836742260 Question Type : MCQ Option Shuffling : Yes Display Question Number : Yes**  
**Single Line Question Option : No Option Orientation : Vertical**

**Correct Marks : 1 Wrong Marks : 0.25**

आठ व्यक्ति A, B, C, D, E, F, G तथा H केन्द्र की ओर मुख करके एक वृत्ताकार मेज के ईर्द - गिर्द बैठे हुए हैं। C, A के दायीं ओर तीसरा है। F, G के विपरीत बैठा है। H, C तथा G का निकटतम पड़ोसी है। D, E के बायीं ओर तीसरा है। यदि A, G के तुरंत बायीं ओर है, तो H के विपरीत कौन बैठा है?

**Options :**

1. ✓ B
2. ✗ A
3. ✗ C
4. ✗ D

**Question Number : 9 Question Id : 99836742261 Question Type : MCQ Option Shuffling : Yes Display Question Number : Yes**  
**Single Line Question Option : No Option Orientation : Vertical**

**Correct Marks : 1 Wrong Marks : 0.25**

There are eight floors in a building. 1 is the lowermost floor, then 2 is just above 1, then 3 is just above 2 and so on till 8. Eight boys B1, B2, B3, B4, B5, B6, B7 and B8 lives on these eight floors. None of them lives on the same floor. B2 lives on a even numbered floor. Only B4 lives between B1 and B5. B8 lives on the lowermost floor. B1 lives above B5. B4 lives on a odd numbered floor. B2, B3 and B6 don't live below B7. B2 lives just above B6. If B3 lives on the fifth floor and three of the four given options follows a same logic, then which of the following option doesn't follow that logic?

**Options :**

1. ✖ B1, B3
2. ✖ B3, B7
3. ✔ B8, B4
4. ✖ B5, B6

**Question Number : 9 Question Id : 99836742261 Question Type : MCQ Option Shuffling : Yes Display Question Number : Yes**  
**Single Line Question Option : No Option Orientation : Vertical**

**Correct Marks : 1 Wrong Marks : 0.25**

एक इमारत में आठ मंजिलें हैं। 1 सबसे नीचे वाली मंजिल है, फिर 2, 1 के ठीक ऊपर है, फिर 3, 2 के ठीक ऊपर है तथा 8 तक इसी प्रकार है। आठ लड़के B1, B2, B3, B4, B5, B6, B7 तथा B8 इन आठ मंजिलों पर रहते हैं। उनमें से कोई भी समान मंजिल पर नहीं रहता है। B2 सम संख्या वाली मंजिल पर रहता है। केवल B4, B1 तथा B5 के बीच में रहता है। B8 सबसे नीचे वाली मंजिल पर रहता है। B1, B5 के ऊपर रहता है। B4 विषम संख्या वाली मंजिल पर रहता है। B2, B3 तथा B6, B7 के नीचे नहीं रहते हैं। B2, B6 के ठीक ऊपर रहता है। यदि B3 पांचवीं मंजिल पर रहता है तथा दिए गए चार विकल्पों में से तीन एक समान तर्क का अनुसरण करते हैं, तो निम्नलिखित में से कौन सा विकल्प उस तर्क का अनुसरण नहीं करता है?

**Options :**

1. ✖ B1, B3
2. ✖ B3, B7
3. ✔ B8, B4
4. ✖ B5, B6

**Question Number : 10 Question Id : 99836742262 Question Type : MCQ Option Shuffling : Yes Display Question Number : Yes**  
**Single Line Question Option : No Option Orientation : Vertical**

**Correct Marks : 1 Wrong Marks : 0.25**

In the following question below are given some statements followed by some conclusions based on those statements. Taking the given statements to be true even if they seem to be at variance from commonly known facts. Read all the conclusions and then decide which of the given conclusion logically follows the given statements.

**Statements:**

- I. No car is chair.
- II. No ball is chair.

**Conclusions:**

- I. Some ball are car.
- II. Some chair are not ball.

**Options :**

1. ✖ Only conclusion I follows
2. ✔ Only conclusion II follows
3. ✖ Both conclusion I and II follows
4. ✖ Neither conclusion I and II follows

**Question Number : 10 Question Id : 99836742262 Question Type : MCQ Option Shuffling : Yes Display Question Number : Yes**  
**Single Line Question Option : No Option Orientation : Vertical**

**Correct Marks : 1 Wrong Marks : 0.25**

नीचे दिए गए प्रश्न में कुछ कथन और उनके बाद उन कथनों पर आधारित कुछ निष्कर्ष दिए गए हैं। दिए गए कथनों को सही माने, चाहे उनमें सामान्य ज्ञात तथ्यों से भिन्नता हो। सभी निष्कर्ष पढ़ें और फिर निर्धारित करें कि दिए गए कौन से निष्कर्ष, दिए गए कथनों के आधार पर युक्तिसंगत हैं।

कथन:

- I. कोई कार, कुर्सी नहीं है।
- II. कोई गेंद, कुर्सी नहीं है।

निष्कर्ष:

- I. कुछ गेंद, कार हैं।
- II. कुछ कुर्सी, गेंद नहीं हैं।

Options :

- 1. ✖ केवल निष्कर्ष I अनुसरण करता है
- 2. ✔ केवल निष्कर्ष II अनुसरण करता है
- 3. ✖ दोनों निष्कर्ष I तथा II अनुसरण करते हैं
- 4. ✖ न तो निष्कर्ष I तथा II अनुसरण करते हैं

Question Number : 11 Question Id : 99836742263 Question Type : MCQ Option Shuffling : Yes Display Question Number : Yes  
Single Line Question Option : No Option Orientation : Vertical

Correct Marks : 1 Wrong Marks : 0.25

In the following question below are given some statements followed by some conclusions based on those statements. Taking the given statements to be true even if they seem to be at variance from commonly known facts. Read all the conclusions and then decide which of the given conclusion logically follows the given statements.

Statements:

- I. No L is R.
- II. No R is M.
- III. All M are N.

Conclusions:

- I. No N is R.
- II. Some M are L.
- III. No R is L.

Options :

- 1. ✖ Only conclusion I follows
- 2. ✔ Only conclusion III follows
- 3. ✖ Both conclusion I and II follows
- 4. ✖ Neither conclusion I, II and III follows

Question Number : 11 Question Id : 99836742263 Question Type : MCQ Option Shuffling : Yes Display Question Number : Yes  
Single Line Question Option : No Option Orientation : Vertical

Correct Marks : 1 Wrong Marks : 0.25

नीचे दिए गए प्रश्न में कुछ कथन और उनके बाद उन कथनों पर आधारित कुछ निष्कर्ष दिए गए हैं। दिए गए कथनों को सही माने, चाहे उनमें सामान्य ज्ञात तथ्यों से भिन्नता हो। सभी निष्कर्ष पढ़ें और फिर निर्धारित करें कि दिए गए कौन से निष्कर्ष, दिए गए कथनों के आधार पर युक्तिसंगत हैं।

कथन:

- I. कोई L, R नहीं है।
- II. कोई R, M नहीं है।
- III. सभी M, N हैं।

निष्कर्ष:

- I. कोई N, R नहीं है।
- II. कुछ M, L हैं।
- III. कोई R, L नहीं है।

Options :

1. ✖ केवल निष्कर्ष I अनुसरण करता है
2. ✔ केवल निष्कर्ष III अनुसरण करता है
3. ✖ दोनों निष्कर्ष I तथा II अनुसरण करते हैं
4. ✖ न तो निष्कर्ष I, II तथा III अनुसरण करता है

Question Number : 12 Question Id : 99836742264 Question Type : MCQ Option Shuffling : Yes Display Question Number : Yes  
Single Line Question Option : No Option Orientation : Vertical

Correct Marks : 1 Wrong Marks : 0.25

If  $24 N 16 A 4 = 12$  and  $14 A 18 N 12 = 20$ , then  $48 N 16 A 15 = ?$

Options :

1. ✖ 43
2. ✔ 47
3. ✖ 51
4. ✖ 59

Question Number : 12 Question Id : 99836742264 Question Type : MCQ Option Shuffling : Yes Display Question Number : Yes  
Single Line Question Option : No Option Orientation : Vertical

Correct Marks : 1 Wrong Marks : 0.25

यदि  $24 N 16 A 4 = 12$  तथा  $14 A 18 N 12 = 20$  हो, तो  $48 N 16 A 15 = ?$

Options :

1. ✖ 43
2. ✔ 47
3. ✖ 51
4. ✖ 59

Question Number : 13 Question Id : 99836742265 Question Type : MCQ Option Shuffling : Yes Display Question Number : Yes  
Single Line Question Option : No Option Orientation : Vertical

Correct Marks : 1 Wrong Marks : 0.25

If '+' means '×', '-' means '÷', '÷' means '-' and '×' means '+', then which of the following equation is not correct?

Note: For this question, discrepancy is found in question/answer. So, this question is ignored for all candidates.

Options :

1.  $13 \times 16 \div 43 - 39 + 78 = -57$
2.  $4 \times 16 + 42 - 21 \div 14 = 22$
3.  $13 \times 19 + 2 \div 16 - 4 = 43$
4.  $46 \times 11 - 23 + 69 \div 11 = 68$

Question Number : 13 Question Id : 99836742265 Question Type : MCQ Option Shuffling : Yes Display Question Number : Yes  
Single Line Question Option : No Option Orientation : Vertical

Correct Marks : 1 Wrong Marks : 0.25

यदि '+' का अर्थ '×', '-' का अर्थ '÷', '÷' का अर्थ '-' तथा '×' का अर्थ '+' हो, तो निम्नलिखित में से कौन सा समीकरण सही नहीं है?

Note: For this question, discrepancy is found in question/answer. So, this question is ignored for all candidates.

Options :

1.  $13 \times 16 \div 43 - 39 + 78 = -57$
2.  $4 \times 16 + 42 - 21 \div 14 = 22$
3.  $13 \times 19 + 2 \div 16 - 4 = 43$
4.  $46 \times 11 - 23 + 69 \div 11 = 68$



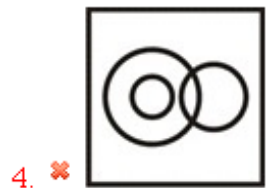

Question Number : 14 Question Id : 99836742266 Question Type : MCQ Option Shuffling : Yes Display Question Number : Yes  
Single Line Question Option : No Option Orientation : Vertical

Correct Marks : 1 Wrong Marks : 0.25

Identify the diagram that best represents the relationship among the given classes.

Mammals, Whale, Elephant

Options :



Question Number : 14 Question Id : 99836742266 Question Type : MCQ Option Shuffling : Yes Display Question Number : Yes  
Single Line Question Option : No Option Orientation : Vertical

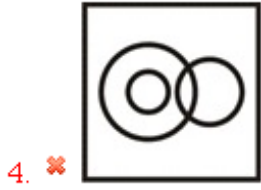
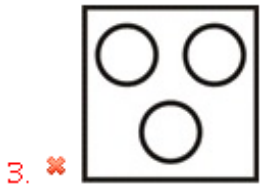
Correct Marks : 1 Wrong Marks : 0.25

वह आरेख चुनिए जो नीचे दिए गए वर्गों के बीच के संबंध का सही निरूपण करता है।

स्तनधारी, व्हेल, हाथी

Options :

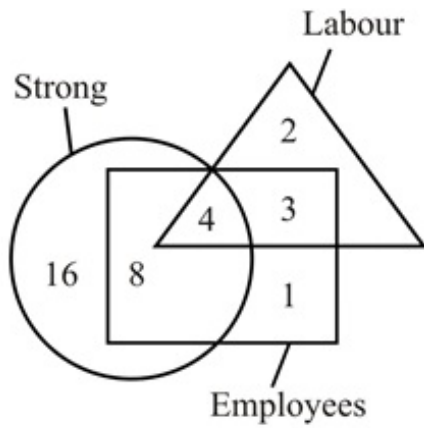




Question Number : 15 Question Id : 99836742267 Question Type : MCQ Option Shuffling : Yes Display Question Number : Yes  
Single Line Question Option : No Option Orientation : Vertical

Correct Marks : 1 Wrong Marks : 0.25

How many employees are strong?



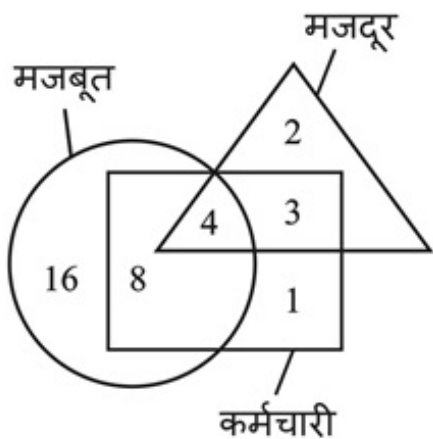
Options :

1. ✖ 28
2. ✖ 16
3. ✔ 12
4. ✖ 20

Question Number : 15 Question Id : 99836742267 Question Type : MCQ Option Shuffling : Yes Display Question Number : Yes  
Single Line Question Option : No Option Orientation : Vertical

Correct Marks : 1 Wrong Marks : 0.25

कितने कर्मचारी मजबूत हैं?



Options :

1. ✖ 28
2. ✖ 16
3. ✔ 12
4. ✖ 20

Question Number : 16 Question Id : 99836742268 Question Type : MCQ Option Shuffling : Yes Display Question Number : Yes  
Single Line Question Option : No Option Orientation : Vertical

Correct Marks : 1 Wrong Marks : 0.25

Ramesh walks 19 km towards west. He turns right and walks 33 km. Now he walks in south direction and walks 14 km. Now he turns left and walks 13 km to reach point J. He again turns left and walks 2 km. He finally turns right and walks 6 km. How far is he now from the starting point and in which direction is point J from the final point?

Options :

1. ✖ 23 km, North east
2. ✖ 21 km, North west
3. ✔ 21 km, South west
4. ✖ 27 km, South west

Question Number : 16 Question Id : 99836742268 Question Type : MCQ Option Shuffling : Yes Display Question Number : Yes  
Single Line Question Option : No Option Orientation : Vertical

Correct Marks : 1 Wrong Marks : 0.25

रमेश पश्चिम की ओर 19 कि.मी. चलता है। वह दायीं ओर मुड़ता है तथा 33 कि.मी. चलता है। अब वह दक्षिण दिशा की ओर चलता है तथा 14 कि.मी. चलता है। अब वह बायीं ओर मुड़ता है तथा 13 कि.मी. चलकर बिंदु J पर पहुँचता है। वह पुनः बायीं ओर मुड़ता है तथा 2 कि.मी. चलता है। वह अंततः दायीं ओर मुड़ता है तथा 6 कि.मी. चलता है। वह आरंभिक बिंदु से अब कितनी दूर है तथा बिंदु J, अंतिम बिंदु से किस दिशा में है?

Options :

1. ✖ 23 कि.मी., उत्तर पूर्व
2. ✖ 21 कि.मी., उत्तर पश्चिम
3. ✔ 21 कि.मी., दक्षिण पश्चिम
4. ✖ 27 कि.मी., दक्षिण पश्चिम

Question Number : 17 Question Id : 99836742269 Question Type : MCQ Option Shuffling : Yes Display Question Number : Yes  
Single Line Question Option : No Option Orientation : Vertical

Correct Marks : 1 Wrong Marks : 0.25

Point L is 10 km to the south of point R. Point G is 12 km to the west of point L. Point M is 13 km to the south of point G. Point T is 4 km to the east of point M. How far is point T from point G?

Options :

1. ✔  $\sqrt{185}$  km
2. ✖  $\sqrt{235}$  km
3. ✖  $\sqrt{195}$  km
4. ✖  $\sqrt{205}$  km

Question Number : 17 Question Id : 99836742269 Question Type : MCQ Option Shuffling : Yes Display Question Number : Yes  
Single Line Question Option : No Option Orientation : Vertical

Correct Marks : 1 Wrong Marks : 0.25

बिंदु L, बिंदु R से 10 कि.मी. दक्षिण में है। बिंदु G, बिंदु L से 12 कि.मी. पश्चिम में है। बिंदु M, बिंदु G से 13 कि.मी. दक्षिण में है। बिंदु T, बिंदु M से 4 कि.मी. पूर्व में है। बिंदु T, बिंदु G से कितनी दूर है?

Options :

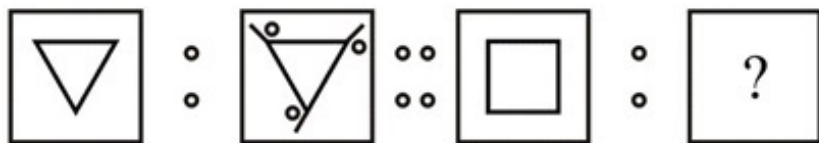
1. ✔  $\sqrt{185}$  कि.मी.
2. ✖  $\sqrt{235}$  कि.मी.
3. ✖  $\sqrt{195}$  कि.मी.

4. ✖ √205 कि.मी.

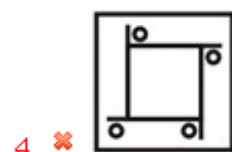
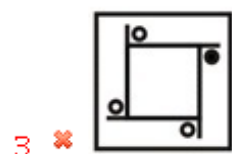
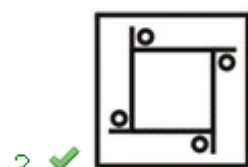
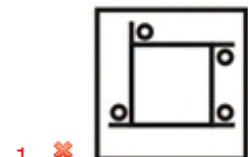
Question Number : 18 Question Id : 99836742270 Question Type : MCQ Option Shuffling : Yes Display Question Number : Yes  
Single Line Question Option : No Option Orientation : Vertical

Correct Marks : 1 Wrong Marks : 0.25

Two figures given on the left side of (::) are related with some logic/rule/relation. Select the missing figure on the right of (::) from the given alternatives based on the same logic/rule/relation.



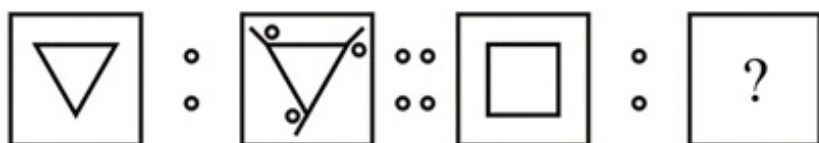
Options :




Question Number : 18 Question Id : 99836742270 Question Type : MCQ Option Shuffling : Yes Display Question Number : Yes  
Single Line Question Option : No Option Orientation : Vertical

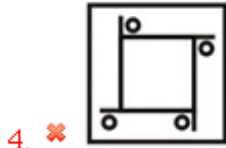
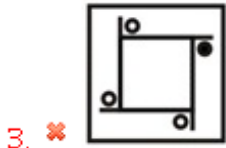
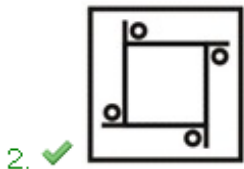
Correct Marks : 1 Wrong Marks : 0.25

(::) के बायीं ओर दी गयी दो आकृतियाँ किसी तर्क/नियम/संबंध से संबंधित हैं। दिये गये विकल्पों में से (::) के दायीं ओर समान तर्क/नियम/संबंध पर आधारित लुप्त आकृति को चुनिये।



Options :









Question Number : 19 Question Id : 99836742271 Question Type : MCQ Option Shuffling : Yes Display Question Number : Yes  
Single Line Question Option : No Option Orientation : Vertical

Correct Marks : 1 Wrong Marks : 0.25

Arrange the given words in the sequence in which they occur in the dictionary.

1. SEALED
2. SEARCH
3. SEWAGE
4. SECURE

Options :

1.  2,1,4,3
2.  2,1,3,4
3.  1,2,4,3
4.  1,2,3,4





Question Number : 19 Question Id : 99836742271 Question Type : MCQ Option Shuffling : Yes Display Question Number : Yes  
Single Line Question Option : No Option Orientation : Vertical

Correct Marks : 1 Wrong Marks : 0.25

दिए गए शब्दों को उस क्रम में व्यवस्थित करें जिस क्रम में वे शब्दकोश में होते हैं।

1. SEALED
2. SEARCH
3. SEWAGE
4. SECURE

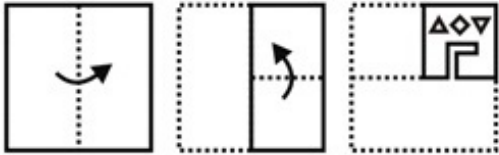
Options :

1.  2,1,4,3
2.  2,1,3,4
3.  1,2,4,3
4.  1,2,3,4

Question Number : 20 Question Id : 99836742272 Question Type : MCQ Option Shuffling : Yes Display Question Number : Yes  
Single Line Question Option : No Option Orientation : Vertical

Correct Marks : 1 Wrong Marks : 0.25

A piece of paper is folded and punched as shown below in the question figures. From the given answer figures, indicate how it will appear when opened?



Options :



Question Number : 20 Question Id : 99836742272 Question Type : MCQ Option Shuffling : Yes Display Question Number : Yes  
Single Line Question Option : No Option Orientation : Vertical

Correct Marks : 1 Wrong Marks : 0.25

नीचे दिखाए गए प्रश्न आकृतियों के अनुसार कागज को मोड़कर छेदने तथा खोलने के बाद वह किस उत्तर आकृति जैसा दिखाई देगा?



Options :





### General Awareness

Group Number :	2
Group Id :	9983671362
Group Maximum Duration :	0
Group Minimum Duration :	0
Revisit allowed for view? :	No
Revisit allowed for edit? :	No
Break time:	0
Group Marks:	20
Revisit allowed for group Instructions? :	Yes
Maximum Instruction Time:	0
Minimum Instruction Time:	0

### General Awareness

Section Id :	9983671761
Section Number :	1
Section type :	Online
Mandatory or Optional:	Mandatory
Number of Questions:	20
Number of Questions to be attempted:	20
Section Marks:	20
Display Number Panel:	Yes
Group All Questions:	No

Sub-Section Number:	1
Sub-Section Id:	9983672185
Question Shuffling Allowed :	Yes

Question Number : 21 Question Id : 99836742273 Question Type : MCQ Option Shuffling : Yes Display Question Number : Yes  
Single Line Question Option : No Option Orientation : Vertical

Correct Marks : 1 Wrong Marks : 0.25

Lai Haraoba is celebrated in \_\_\_\_\_.

Options :

1.  Nagaland
2.  Mizoram

3. ✓ Manipur  
4. ✗ Meghalaya

Question Number : 21 Question Id : 99836742273 Question Type : MCQ Option Shuffling : Yes Display Question Number : Yes  
Single Line Question Option : No Option Orientation : Vertical

Correct Marks : 1 Wrong Marks : 0.25

लाइ हरोबा \_\_\_\_\_ में मनाया जाता है।

Options :

1. ✗ नागालैंड  
2. ✗ मिजोरम  
3. ✓ मणिपुर  
4. ✗ मेघालय

Question Number : 22 Question Id : 99836742274 Question Type : MCQ Option Shuffling : Yes Display Question Number : Yes  
Single Line Question Option : No Option Orientation : Vertical

Correct Marks : 1 Wrong Marks : 0.25

Adhai din-ka-jhonpra is situated in \_\_\_\_\_.

Options :

1. ✗ Uttar Pradesh  
2. ✗ Madhya Pradesh  
3. ✓ Rajasthan  
4. ✗ Maharashtra

Question Number : 22 Question Id : 99836742274 Question Type : MCQ Option Shuffling : Yes Display Question Number : Yes  
Single Line Question Option : No Option Orientation : Vertical

Correct Marks : 1 Wrong Marks : 0.25

अढ़ाई दिन-का-झोंपड़ा \_\_\_\_\_ में स्थित है।

Options :

1. ✗ उत्तर प्रदेश  
2. ✗ मध्य प्रदेश  
3. ✓ राजस्थान  
4. ✗ महाराष्ट्र

Question Number : 23 Question Id : 99836742275 Question Type : MCQ Option Shuffling : Yes Display Question Number : Yes  
Single Line Question Option : No Option Orientation : Vertical

Correct Marks : 1 Wrong Marks : 0.25

For which of the following crops 'Fair and Remunerative Price (FRP)' is announced by Cabinet Committee on Economic Affairs?

Options :

1. ✗ Raw jute  
2. ✗ Copra  
3. ✗ Rice  
4. ✓ Sugarcane

Question Number : 23 Question Id : 99836742275 Question Type : MCQ Option Shuffling : Yes Display Question Number : Yes  
Single Line Question Option : No Option Orientation : Vertical

Correct Marks : 1 Wrong Marks : 0.25

निम्नलिखित में से किस फसल के लिए आर्थिक मामलों की कैबिनेट समिति द्वारा 'फेयर एंड रेमुनेरेटिव प्राइस (एफ.आर.पी.)' की घोषणा की जाती है?

Options :



1. ✖ कच्चा जूट
2. ✖ खोपरा
3. ✖ चावल
4. ✔ गन्ना

Question Number : 24 Question Id : 99836742276 Question Type : MCQ Option Shuffling : Yes Display Question Number : Yes  
Single Line Question Option : No Option Orientation : Vertical

Correct Marks : 1 Wrong Marks : 0.25

What is the corpus of Contingency Fund authorised by the Parliament?

Options :

1. ✔ Rs. 500 crore
2. ✖ Rs. 1000 crore
3. ✖ Rs. 5000 crore
4. ✖ Rs. 100 crore

Question Number : 24 Question Id : 99836742276 Question Type : MCQ Option Shuffling : Yes Display Question Number : Yes  
Single Line Question Option : No Option Orientation : Vertical

Correct Marks : 1 Wrong Marks : 0.25

संसद द्वारा अधिकृत आकस्मिक निधि का कोष क्या है?

Options :

1. ✔ 500 करोड़ रुपये
2. ✖ 1000 करोड़ रुपये
3. ✖ 5000 करोड़ रुपये
4. ✖ 100 करोड़ रुपये

Question Number : 25 Question Id : 99836742277 Question Type : MCQ Option Shuffling : Yes Display Question Number : Yes  
Single Line Question Option : No Option Orientation : Vertical

Correct Marks : 1 Wrong Marks : 0.25

Methanoic acid is found in -----.

Options :

1. ✖ Tamarind
2. ✖ Tomato
3. ✖ Lemon
4. ✔ Ant Sting

Question Number : 25 Question Id : 99836742277 Question Type : MCQ Option Shuffling : Yes Display Question Number : Yes  
Single Line Question Option : No Option Orientation : Vertical

Correct Marks : 1 Wrong Marks : 0.25

मेथेनॉइक अम्ल ----- में पाया जाता है।

Options :

1. ✖ इमली
2. ✖ टमाटर
3. ✖ नींबू
4. ✔ चींटी के डंक

Question Number : 26 Question Id : 99836742278 Question Type : MCQ Option Shuffling : Yes Display Question Number : Yes  
Single Line Question Option : No Option Orientation : Vertical

Correct Marks : 1 Wrong Marks : 0.25

Electric power can be transmitted over long distances without much loss of energy using -----.

Options :

1. ✓ AC
2. ✗ DC
3. ✗ Both AC and DC
4. ✗ Neither AC nor DC

Question Number : 26 Question Id : 99836742278 Question Type : MCQ Option Shuffling : Yes Display Question Number : Yes  
Single Line Question Option : No Option Orientation : Vertical

Correct Marks : 1 Wrong Marks : 0.25

----- का उपयोग करके विद्युत शक्ति को सुदूर स्थानों पर बिना अधिक ऊर्जा क्षय के प्रेषित किया जा सकता है।

Options :

1. ✓ AC
2. ✗ DC
3. ✗ AC तथा DC दोनों
4. ✗ न तो AC और न ही DC

Question Number : 27 Question Id : 99836742279 Question Type : MCQ Option Shuffling : Yes Display Question Number : Yes  
Single Line Question Option : No Option Orientation : Vertical

Correct Marks : 1 Wrong Marks : 0.25

Which of the following statements regarding Protochordata is correct?

- I. These animals are bilaterally symmetrical, triploblastic and have a coelom.
- II. Protochordates have notochord that provides a place for muscles to attach for ease of movement.

Options :

1. ✗ Only I
2. ✗ Only II
3. ✓ Both I and II
4. ✗ Neither I nor II

Question Number : 27 Question Id : 99836742279 Question Type : MCQ Option Shuffling : Yes Display Question Number : Yes  
Single Line Question Option : No Option Orientation : Vertical

Correct Marks : 1 Wrong Marks : 0.25

प्रोटोकॉर्डेटा के संबंध में निम्नलिखित में से कौन सा कथन सही है?

- I. ये द्विपार्श्वसममित, त्रिकोरकी एवं देहगुहा युक्त जंतु हैं।
- II. प्रोटोकॉर्डेटस जंतुओं में नोटोकॉर्ड होता है जो पेशियों को जुड़ने का स्थान प्रदान करती है जिससे चलन में आसानी होती है।

Options :

1. ✗ केवल I
2. ✗ केवल II
3. ✓ I तथा II दोनों
4. ✗ न तो I और न ही II

Question Number : 28 Question Id : 99836742280 Question Type : MCQ Option Shuffling : Yes Display Question Number : Yes  
Single Line Question Option : No Option Orientation : Vertical

Correct Marks : 1 Wrong Marks : 0.25

Panchpatmali deposits in Koraput district in Odisha is famous for which of the following mineral?

Options :

1. ✓ Bauxite
2. ✗ Iron

3. ✖ Zinc
4. ✖ Potash

Question Number : 28 Question Id : 99836742280 Question Type : MCQ Option Shuffling : Yes Display Question Number : Yes  
Single Line Question Option : No Option Orientation : Vertical

Correct Marks : 1 Wrong Marks : 0.25

ओडिशा में कोरापुट जिले में पंचलाटमाली भंडार निम्न में से किस खनिज के लिए प्रसिद्ध है?

Options :

1. ✔ बॉक्साइट
2. ✖ लोहा
3. ✖ जिंक
4. ✖ पोटाश

Question Number : 29 Question Id : 99836742281 Question Type : MCQ Option Shuffling : Yes Display Question Number : Yes  
Single Line Question Option : No Option Orientation : Vertical

Correct Marks : 1 Wrong Marks : 0.25

Mettur dam is built on which of the following rivers in India?

Options :

1. ✖ Krishna river
2. ✖ Godavari river
3. ✔ Cauvery river
4. ✖ Chambal river

Question Number : 29 Question Id : 99836742281 Question Type : MCQ Option Shuffling : Yes Display Question Number : Yes  
Single Line Question Option : No Option Orientation : Vertical

Correct Marks : 1 Wrong Marks : 0.25

भारत में मेट्टूर बांध निम्नलिखित नदियों में से किस नदी पर बनाया गया है?

Options :

1. ✖ कृष्णा नदी
2. ✖ गोदावरी नदी
3. ✔ कावेरी नदी
4. ✖ चंबल नदी

Question Number : 30 Question Id : 99836742282 Question Type : MCQ Option Shuffling : Yes Display Question Number : Yes  
Single Line Question Option : No Option Orientation : Vertical

Correct Marks : 1 Wrong Marks : 0.25

Which of the following statements regarding Forest soil is incorrect?

Options :

1. ✖ They are loamy and silty in valley sides and coarse grained in the upper slopes.
2. ✔ In the snow covered areas of Himalayas, these soils experience denudation and are basic with low humus content.
3. ✖ These soils are found in the hilly and mountainous areas where sufficient rain forests are available.
4. ✖ The soils texture varies according to the mountain environment where they are formed.

Question Number : 30 Question Id : 99836742282 Question Type : MCQ Option Shuffling : Yes Display Question Number : Yes  
Single Line Question Option : No Option Orientation : Vertical

Correct Marks : 1 Wrong Marks : 0.25

वन की मिट्टी के संदर्भ में कौन-सा कथन गलत है?

Options :

1. ✖ वे घाटी के किनारों में चिकनी तथा गाढ़-भरी होती है तथा ऊपरी ढलानों में दानेदार होती है
2. ✔ हिमालय के बर्फ से ढके क्षेत्रों में, ये मिट्टी निरवारण का अनुभव करती है तथा निम्न धरण मात्रा के साथ क्षारीय होती है
3. ✖ ये मिट्टी पहाड़ी तथा पर्वतीय क्षेत्रों में पाई जाती है, जहाँ पर्याप्त वर्षा वाले वन उपलब्ध हैं।
4. ✖ मिट्टी कि बनावट पहाड़ों के वातावरण के अनुसार बदल जाती है जहाँ वे निर्मित होती है

Question Number : 31 Question Id : 99836742283 Question Type : MCQ Option Shuffling : Yes Display Question Number : Yes  
Single Line Question Option : No Option Orientation : Vertical

Correct Marks : 1 Wrong Marks : 0.25

Satyashodhak Samaj was founded by \_\_\_\_\_.

Options :

1. ✖ Ghasidas
2. ✔ Jyotirao Phule
3. ✖ Dr. B. R. Ambedkar
4. ✖ Sri Narayan Guru

Question Number : 31 Question Id : 99836742283 Question Type : MCQ Option Shuffling : Yes Display Question Number : Yes  
Single Line Question Option : No Option Orientation : Vertical

Correct Marks : 1 Wrong Marks : 0.25

सत्यशोधक समाज की स्थापना \_\_\_\_\_ ने की थी।

Options :

1. ✖ घासीदास
2. ✔ ज्योतिराव फुले
3. ✖ डॉ. बी. आर. अम्बेडकर
4. ✖ श्री नारायण गुरु

Question Number : 32 Question Id : 99836742284 Question Type : MCQ Option Shuffling : Yes Display Question Number : Yes  
Single Line Question Option : No Option Orientation : Vertical

Correct Marks : 1 Wrong Marks : 0.25

The inscriptions of the Pallavas mention 'Sabha' which was an assembly of \_\_\_\_\_.

Options :

1. ✔ Brahmin Land owners
2. ✖ Soldiers
3. ✖ Merchants
4. ✖ Revenue collectors

Question Number : 32 Question Id : 99836742284 Question Type : MCQ Option Shuffling : Yes Display Question Number : Yes  
Single Line Question Option : No Option Orientation : Vertical

Correct Marks : 1 Wrong Marks : 0.25

पल्लवों के अभिलेखों में 'सभा' की चर्चा है, जो एक \_\_\_\_\_ कि सभा थी।

Options :

1. ✔ ब्रह्मण भूस्वामी (जमीन के मालिक)
2. ✖ सिपाही
3. ✖ व्यापारी
4. ✖ राजस्व संग्रहक

Question Number : 33 Question Id : 99836742285 Question Type : MCQ Option Shuffling : Yes Display Question Number : Yes  
Single Line Question Option : No Option Orientation : Vertical

Correct Marks : 1 Wrong Marks : 0.25

Which government in Britain constituted a Statutory Commission under Sir John Simon?

Options :

1. ✖ David Lloyd George Government
2. ✖ Ramsay MacDonald Government
3. ✖ Clement Attlee Government
4. ✔ Tory Government

Question Number : 33 Question Id : 99836742285 Question Type : MCQ Option Shuffling : Yes Display Question Number : Yes  
Single Line Question Option : No Option Orientation : Vertical

Correct Marks : 1 Wrong Marks : 0.25

ब्रिटेन में किस सरकार ने सर जॉन साइमन के नेतृत्व में एक वैधानिक आयोग का गठन किया था?

Options :

1. ✖ डेविड लॉयड जॉर्ज सरकार
2. ✖ रामसे मैकडोनाल्ड सरकार
3. ✖ क्लिमेंट एटली सरकार
4. ✔ टोरी सरकार

Question Number : 34 Question Id : 99836742286 Question Type : MCQ Option Shuffling : Yes Display Question Number : Yes  
Single Line Question Option : No Option Orientation : Vertical

Correct Marks : 1 Wrong Marks : 0.25

"माई सेडिटियस हार्ट" पुस्तक के लेखक कौन हैं?

Options :

1. ✖ शशि थरूर
2. ✔ अरुंधति रॉय
3. ✖ अमीश त्रिपाठी
4. ✖ लाल कृष्ण आडवाणी

Question Number : 34 Question Id : 99836742286 Question Type : MCQ Option Shuffling : Yes Display Question Number : Yes  
Single Line Question Option : No Option Orientation : Vertical

Correct Marks : 1 Wrong Marks : 0.25

Who is the author of the book "My Seditious Heart"?

Options :

1. ✖ Shashi Tharoor
2. ✔ Arundhati Roy
3. ✖ Amish Tripathi
4. ✖ Lal Krishna Advani

Question Number : 35 Question Id : 99836742287 Question Type : MCQ Option Shuffling : Yes Display Question Number : Yes  
Single Line Question Option : No Option Orientation : Vertical

Correct Marks : 1 Wrong Marks : 0.25

Who was conferred with highest award to honour foreign nationals by the Maldives 'Rule of Nishan Izzuddeen' in 2019?

Options :

1. ✖ Xi Jinping
2. ✔ Narendra Modi
3. ✖ Ram Nath Kovind
4. ✖ Imran Khan

Question Number : 35 Question Id : 99836742287 Question Type : MCQ Option Shuffling : Yes Display Question Number : Yes  
Single Line Question Option : No Option Orientation : Vertical

Correct Marks : 1 Wrong Marks : 0.25

2019 में मालदीव के द्वारा विदेशी नागरिकों को सम्मानित करने के लिए सर्वोच्च पुरस्कार 'निशान इजुद्दीन का शासन' से किसे सम्मानित किया गया?

Options :

- ❌ शी जिनपिंग
- ✅ नरेंद्र मोदी
- ❌ राम नाथ कोविंद
- ❌ इमरान खान

Question Number : 36 Question Id : 99836742288 Question Type : MCQ Option Shuffling : Yes Display Question Number : Yes  
Single Line Question Option : No Option Orientation : Vertical

Correct Marks : 1 Wrong Marks : 0.25

2019 Commonwealth Secretary-General's Innovation for Sustainable Development Award in People's category for developing low-cost breathing support device named as Saans for new-born babies has been awarded to -----

Options :

- ❌ Nithin Chaudhary
- ❌ Suresh Sehgal
- ✅ Nitesh Kumar Jangir
- ❌ Kailasavadiwoo Sivan

Question Number : 36 Question Id : 99836742288 Question Type : MCQ Option Shuffling : Yes Display Question Number : Yes  
Single Line Question Option : No Option Orientation : Vertical

Correct Marks : 1 Wrong Marks : 0.25

2019 के राष्ट्रमंडल महासचिव का नवजात शिशुओं के लिए सांस नामक कम लागत वाले श्वास समर्थन उपकरण विकसित करने के लिए लोगों की श्रेणी में सतत विकास पुरस्कार से ----- को सम्मानित किया गया है।

Options :

- ❌ नितिन चौधरी
- ❌ सुरेश सहगल
- ✅ नितेश कुमार जांगिड़
- ❌ कैलासवादिवु सिवन

Question Number : 37 Question Id : 99836742289 Question Type : MCQ Option Shuffling : Yes Display Question Number : Yes  
Single Line Question Option : No Option Orientation : Vertical

Correct Marks : 1 Wrong Marks : 0.25

From Constitution of which country, Indian Constitution borrowed the provision for 'Procedure for amendment of the Constitution'?

Options :

- ❌ Japan
- ❌ Australia
- ✅ South Africa
- ❌ USA

Question Number : 37 Question Id : 99836742289 Question Type : MCQ Option Shuffling : Yes Display Question Number : Yes  
Single Line Question Option : No Option Orientation : Vertical

Correct Marks : 1 Wrong Marks : 0.25

किस देश के संविधान से, भारतीय संविधान ने "संविधान में संशोधन की प्रक्रिया" उधार लिया था?

Options :

- ❌ जापान
- ❌ ऑस्ट्रेलिया

3. ✓ दक्षिण अफ्रीका

4. ✗ यु.एस.ए.

Question Number : 38 Question Id : 99836742290 Question Type : MCQ Option Shuffling : Yes Display Question Number : Yes  
Single Line Question Option : No Option Orientation : Vertical

Correct Marks : 1 Wrong Marks : 0.25

The President is elected by members of electoral college consisting of \_\_\_\_\_.

- I. Elected members of both the houses of Parliament.
- II. Elected members of the Legislative assemblies of the state.
- III. Elected members of the legislature assemblies of Union Territories of Delhi and Puducherry.
- IV. Nominated members of both houses of Parliament.

Options :

1. ✓ I, II and III

2. ✗ I, II and IV

3. ✗ II, III and IV

4. ✗ I, II, III and IV

Question Number : 38 Question Id : 99836742290 Question Type : MCQ Option Shuffling : Yes Display Question Number : Yes  
Single Line Question Option : No Option Orientation : Vertical

Correct Marks : 1 Wrong Marks : 0.25

राष्ट्रपति का निर्वाचन एक निर्वाचन मंडल के सदस्यों द्वारा किया जाता है जिसमें \_\_\_\_\_ शामिल होते हैं।

- I. संसद के दोनों सदनों के निर्वाचित सदस्या
- II. राज्य विधानसभा के निर्वाचित सदस्या
- III. केंद्रशासित प्रदेशों दिल्ली व पुंडुचेरी विधानसभाओं के निर्वाचित सदस्या
- IV. संसद के दोनों सदनों के मनोनीत सदस्या

Options :

1. ✓ I, II तथा III

2. ✗ I, II तथा IV

3. ✗ II, III तथा IV

4. ✗ I, II, III तथा IV

Question Number : 39 Question Id : 99836742291 Question Type : MCQ Option Shuffling : Yes Display Question Number : Yes  
Single Line Question Option : No Option Orientation : Vertical

Correct Marks : 1 Wrong Marks : 0.25

Who won Cycling's World Road Race at Sudden World Championship 2019?

Options :

1. ✗ Matteo Trentin

2. ✗ Stefan Kung

3. ✗ Milind Somani

4. ✓ Mads Pedersen

Question Number : 39 Question Id : 99836742291 Question Type : MCQ Option Shuffling : Yes Display Question Number : Yes  
Single Line Question Option : No Option Orientation : Vertical

Correct Marks : 1 Wrong Marks : 0.25

सोडेन वर्ल्ड चैम्पियनशिप 2019 में साइक्लिंग की वर्ल्ड रोड रेस किसने जीती?

Options :

1. ✖ मैट्टो ट्रेंटिन
2. ✖ स्टीफन कुंग
3. ✖ मिलिंद सोमानी
4. ✔ मैड्स पेडरसन

Question Number : 40 Question Id : 99836742292 Question Type : MCQ Option Shuffling : Yes Display Question Number : Yes  
Single Line Question Option : No Option Orientation : Vertical

Correct Marks : 1 Wrong Marks : 0.25

Which country won FIFA Women's World Cup 2019?

Options :

1. ✖ Brazil
2. ✖ Portugal
3. ✖ Argentina
4. ✔ USA

Question Number : 40 Question Id : 99836742292 Question Type : MCQ Option Shuffling : Yes Display Question Number : Yes  
Single Line Question Option : No Option Orientation : Vertical

Correct Marks : 1 Wrong Marks : 0.25

फीफा महिला विश्व कप 2019 किस देश ने जीता?

Options :

1. ✖ ब्राजील
2. ✖ पुर्तगाल
3. ✖ अर्जेन्टीना
4. ✔ यु.एस.ए.

#### Arithmetic Ability

Group Number :	3
Group Id :	9983671363
Group Maximum Duration :	0
Group Minimum Duration :	0
Revisit allowed for view? :	No
Revisit allowed for edit? :	No
Break time:	0
Group Marks:	20
Revisit allowed for group Instructions? :	Yes
Maximum Instruction Time:	0
Minimum Instruction Time:	0

#### Arithmetic Ability

Section Id :	9983671762
Section Number :	1
Section type :	Online
Mandatory or Optional:	Mandatory
Number of Questions:	20
Number of Questions to be attempted:	20
Section Marks:	20
Display Number Panel:	Yes



Group All Questions:

No

Sub-Section Number:

1

Sub-Section Id:

9983672186

Question Shuffling Allowed :

Yes

Question Number : 41 Question Id : 99836742293 Question Type : MCQ Option Shuffling : Yes Display Question Number : Yes  
Single Line Question Option : No Option Orientation : Vertical

Correct Marks : 1 Wrong Marks : 0.25

What is the Highest Common Factor of  $3/4$ ,  $5/6$  and  $6/7$ ?

Options :

1. ✖  $3/82$

2. ✖  $1/42$

3. ✔  $1/84$

4. ✖  $1/14$

Question Number : 41 Question Id : 99836742293 Question Type : MCQ Option Shuffling : Yes Display Question Number : Yes  
Single Line Question Option : No Option Orientation : Vertical

Correct Marks : 1 Wrong Marks : 0.25

$3/4$ ,  $5/6$  तथा  $6/7$  का महत्तम समापवर्तक क्या है?

Options :

1. ✖  $3/82$

2. ✖  $1/42$

3. ✔  $1/84$

4. ✖  $1/14$

Question Number : 42 Question Id : 99836742294 Question Type : MCQ Option Shuffling : Yes Display Question Number : Yes  
Single Line Question Option : No Option Orientation : Vertical

Correct Marks : 1 Wrong Marks : 0.25

What is the value of positive square root of  $30 + 10\sqrt{5}$ ?

Options :

1. ✖  $6 + \sqrt{5}$

2. ✔  $5 + \sqrt{5}$

3. ✖  $4 + 2\sqrt{5}$

4. ✖  $2\sqrt{5} + 3$

Question Number : 42 Question Id : 99836742294 Question Type : MCQ Option Shuffling : Yes Display Question Number : Yes  
Single Line Question Option : No Option Orientation : Vertical

Correct Marks : 1 Wrong Marks : 0.25

$30 + 10\sqrt{5}$  का धनात्मक वर्गमूल का मान क्या है?

Options :

1. ✖  $6 + \sqrt{5}$

2. ✔  $5 + \sqrt{5}$

3. ✖  $4 + 2\sqrt{5}$

4. ✖  $2\sqrt{5} + 3$

Question Number : 43 Question Id : 99836742295 Question Type : MCQ Option Shuffling : Yes Display Question Number : Yes  
Single Line Question Option : No Option Orientation : Vertical

Correct Marks : 1 Wrong Marks : 0.25

$3^{11} + 3^{12} + 3^{13} + 3^{14}$  is not divisible by \_\_\_\_\_.

Options :

1. ✖ 10
2. ✖ 8
3. ✔ 7
4. ✖ 12

Question Number : 43 Question Id : 99836742295 Question Type : MCQ Option Shuffling : Yes Display Question Number : Yes  
Single Line Question Option : No Option Orientation : Vertical

Correct Marks : 1 Wrong Marks : 0.25

$3^{11} + 3^{12} + 3^{13} + 3^{14}$ , \_\_\_\_\_ से विभाज्य नहीं है।

Options :

1. ✖ 10
2. ✖ 8
3. ✔ 7
4. ✖ 12

Question Number : 44 Question Id : 99836742296 Question Type : MCQ Option Shuffling : Yes Display Question Number : Yes  
Single Line Question Option : No Option Orientation : Vertical

Correct Marks : 1 Wrong Marks : 0.25

Which of the following is the largest?

- I.  $3/8$
- II.  $5/7$
- III.  $19/25$
- IV.  $16/21$

Options :

1. ✖  $3/8$
2. ✖  $5/7$
3. ✖  $19/25$
4. ✔  $16/21$

Question Number : 44 Question Id : 99836742296 Question Type : MCQ Option Shuffling : Yes Display Question Number : Yes  
Single Line Question Option : No Option Orientation : Vertical

Correct Marks : 1 Wrong Marks : 0.25

निम्नलिखित में से कौन सा सबसे बड़ा है?

- I.  $3/8$
- II.  $5/7$
- III.  $19/25$
- IV.  $16/21$

Options :

1. ✖  $3/8$
2. ✖  $5/7$
3. ✖  $19/25$
4. ✔  $16/21$

Question Number : 45 Question Id : 99836742297 Question Type : MCQ Option Shuffling : Yes Display Question Number : Yes  
Single Line Question Option : No Option Orientation : Vertical

Correct Marks : 1 Wrong Marks : 0.25

If  $A = 1 + \frac{1}{1 + \frac{1}{1 + \frac{1}{9}}}$  and  $B = \frac{1}{3 + \frac{2}{2 + \frac{1}{2}}}$ , then what is the value of  $19(A + B)$ ?

Options :

1. ✓ 34
2. ✗ 30
3. ✗ 25
4. ✗ 200

Question Number : 45 Question Id : 99836742297 Question Type : MCQ Option Shuffling : Yes Display Question Number : Yes  
Single Line Question Option : No Option Orientation : Vertical

Correct Marks : 1 Wrong Marks : 0.25

यदि  $A = 1 + \frac{1}{1 + \frac{1}{1 + \frac{1}{9}}}$  तथा  $B = \frac{1}{3 + \frac{2}{2 + \frac{1}{2}}}$ , तो  $19(A + B)$  का मान क्या है?

Options :

1. ✓ 34
2. ✗ 30
3. ✗ 25
4. ✗ 200

Question Number : 46 Question Id : 99836742298 Question Type : MCQ Option Shuffling : Yes Display Question Number : Yes  
Single Line Question Option : No Option Orientation : Vertical

Correct Marks : 1 Wrong Marks : 0.25

Marked price and selling price of an chair is Rs 1130 and Rs 508.5 respectively. What is the ratio of amount of discount offered on this chair to the selling price of this chair?

Options :

1. ✗ 1343 : 1017
2. ✗ 1243 : 1027
3. ✗ 1343 : 1027
4. ✓ 1243 : 1017

Question Number : 46 Question Id : 99836742298 Question Type : MCQ Option Shuffling : Yes Display Question Number : Yes  
Single Line Question Option : No Option Orientation : Vertical

Correct Marks : 1 Wrong Marks : 0.25

एक कुर्सी का अंकित मूल्य तथा विक्रय मूल्य क्रमशः 1130 रुपये तथा 508.5 रुपये है। इस कुर्सी पर दी गयी छूट की राशि का इस कुर्सी के विक्रय मूल्य से क्या अनुपात है?

Options :

1. ✗ 1343 : 1017
2. ✗ 1243 : 1027

3. ✖ 1343 : 1027

4. ✔ 1243 : 1017

Question Number : 47 Question Id : 99836742299 Question Type : MCQ Option Shuffling : Yes Display Question Number : Yes  
Single Line Question Option : No Option Orientation : Vertical

Correct Marks : 1 Wrong Marks : 0.25

30% of A = 50% of K. If K is 72, then what is the value of 15% of A?

Options :

1. ✖ 16

2. ✖ 24

3. ✖ 22

4. ✔ 18

Question Number : 47 Question Id : 99836742299 Question Type : MCQ Option Shuffling : Yes Display Question Number : Yes  
Single Line Question Option : No Option Orientation : Vertical

Correct Marks : 1 Wrong Marks : 0.25

A का 30% = K का 50%। यदि K 72 है, तो A के 15% का मान क्या है?

Options :

1. ✖ 16

2. ✖ 24

3. ✖ 22

4. ✔ 18

Question Number : 48 Question Id : 99836742300 Question Type : MCQ Option Shuffling : Yes Display Question Number : Yes  
Single Line Question Option : No Option Orientation : Vertical

Correct Marks : 1 Wrong Marks : 0.25

Price of onion is reduced by 40%. Due to this decreased, a man had bought 8 kg onion extra for Rs 480. What is the new and initial price of the onion (in Rs)?

Options :

1. ✔ 24, 40

2. ✖ 26, 43.33

3. ✖ 40.8, 68

4. ✖ 30, 50

Question Number : 48 Question Id : 99836742300 Question Type : MCQ Option Shuffling : Yes Display Question Number : Yes  
Single Line Question Option : No Option Orientation : Vertical

Correct Marks : 1 Wrong Marks : 0.25

प्याज का मूल्य 40% से घटा दिया गया है। इस कमी के कारण, एक व्यक्ति ने 480 रुपये में 8 कि.ग्रा. प्याज अतिरिक्त खरीद लिये। प्याज का नया तथा आरंभिक मूल्य क्या है (रुपये में)?

Options :

1. ✔ 24, 40

2. ✖ 26, 43.33

3. ✖ 40.8, 68

4. ✖ 30, 50

Question Number : 49 Question Id : 99836742301 Question Type : MCQ Option Shuffling : Yes Display Question Number : Yes  
Single Line Question Option : No Option Orientation : Vertical

Correct Marks : 1 Wrong Marks : 0.25

Suresh was promised to receive a payment in form of Rs 1800 and one mobile phone for one year from a company. Due to some reasons after 8 months he left the company and received a payment in the form of Rs 1100 and same mobile phone. If he sells that mobile to his friend at a profit of 65%, then what will be the selling price of the mobile phone for Suresh (in Rs)?

Options :

1. ✖ 525
2. ✖ 485
3. ✖ 615
4. ✔ 495

Question Number : 49 Question Id : 99836742301 Question Type : MCQ Option Shuffling : Yes Display Question Number : Yes  
Single Line Question Option : No Option Orientation : Vertical

Correct Marks : 1 Wrong Marks : 0.25

सुरेश को एक कंपनी से भुगतान के रूप में एक वर्ष के लिए 1800 रुपये तथा एक मोबाईल फोन मिलने का वादा किया गया था। कुछ कारणों की वजह से 8 महीने पश्चात उसने कंपनी छोड़ दी तथा उसे 1100 रुपये तथा समान मोबाईल फोन के रूप में भुगतान मिला। यदि वह उस मोबाईल फोन को अपने मित्र को 65% के लाभ पर बेचता है, तो सुरेश के लिए उस मोबाईल फोन का विक्रय मूल्य क्या होगा (रुपये में)?

Options :

1. ✖ 525
2. ✖ 485
3. ✖ 615
4. ✔ 495

Question Number : 50 Question Id : 99836742302 Question Type : MCQ Option Shuffling : Yes Display Question Number : Yes  
Single Line Question Option : No Option Orientation : Vertical

Correct Marks : 1 Wrong Marks : 0.25

A mixture contains acid and water in the ratio of 7 : 5. If 14 litres of water is added to it, then the ratio of acid and water becomes 4 : 3. What is the quantity of acid in the mixture?

Options :

1. ✖ 416 litres
2. ✖ 306 litres
3. ✖ 236 litres
4. ✔ 392 litres

Question Number : 50 Question Id : 99836742302 Question Type : MCQ Option Shuffling : Yes Display Question Number : Yes  
Single Line Question Option : No Option Orientation : Vertical

Correct Marks : 1 Wrong Marks : 0.25

एक मिश्रण में अम्ल तथा जल 7 : 5 के अनुपात में है। यदि उसमें 14 लीटर जल मिलाया जाए, तो अम्ल तथा जल का अनुपात 4 : 3 हो जाता है। मिश्रण में अम्ल की मात्रा क्या है?

Options :

1. ✖ 416 लीटर
2. ✖ 306 लीटर
3. ✖ 236 लीटर
4. ✔ 392 लीटर

Question Number : 51 Question Id : 99836742303 Question Type : MCQ Option Shuffling : Yes Display Question Number : Yes  
Single Line Question Option : No Option Orientation : Vertical

Correct Marks : 1 Wrong Marks : 0.25

Sum of Rs 84000 is divided among P, Q and R in the ratio of 2 : 5 : 7 respectively. If each of them has received Rs 100 less, then what will be the ratio of the amount received by Q and R respectively?

Options :

1. ✖ 229 : 299
2. ✖ 299 : 479
3. ✔ 299 : 419
4. ✖ 279 : 419

Question Number : 51 Question Id : 99836742303 Question Type : MCQ Option Shuffling : Yes Display Question Number : Yes  
Single Line Question Option : No Option Orientation : Vertical

Correct Marks : 1 Wrong Marks : 0.25

84,000 रुपये की एक राशि को P, Q तथा R के बीच क्रमशः 2 : 5 : 7 के अनुपात में विभाजित किया गया है। यदि उनमें से प्रत्येक को 100 रुपये कम मिलते हैं, तो क्रमशः Q तथा R द्वारा प्राप्त की गई राशि का अनुपात क्या होगा?

Options :

1. ✖ 229 : 299
2. ✖ 299 : 479
3. ✔ 299 : 419
4. ✖ 279 : 419

Question Number : 52 Question Id : 99836742304 Question Type : MCQ Option Shuffling : Yes Display Question Number : Yes  
Single Line Question Option : No Option Orientation : Vertical

Correct Marks : 1 Wrong Marks : 0.25

An amount becomes three times of itself on compound interest (compounding annually) in 4 years. In how many years at the same rate on compound interest (compounding annually) it will become 9 times of itself?

Options :

1. ✖ 16
2. ✔ 8
3. ✖ 12
4. ✖ 10

Question Number : 52 Question Id : 99836742304 Question Type : MCQ Option Shuffling : Yes Display Question Number : Yes  
Single Line Question Option : No Option Orientation : Vertical

Correct Marks : 1 Wrong Marks : 0.25

एक राशि चक्रवृद्धि ब्याज पर (वार्षिक संयोजन पर) 4 वर्षों में स्वयं की तीन गुना हो गयी। समान दर से चक्रवृद्धि ब्याज पर (वार्षिक संयोजन पर) यह राशि कितने वर्षों में स्वयं की 9 गुना हो जाएगी?

Options :

1. ✖ 16
2. ✔ 8
3. ✖ 12
4. ✖ 10

Question Number : 53 Question Id : 99836742305 Question Type : MCQ Option Shuffling : Yes Display Question Number : Yes  
Single Line Question Option : No Option Orientation : Vertical

Correct Marks : 1 Wrong Marks : 0.25

Two trains are moving in the same direction at the speed of 30 km/hr and 110 km/hr, their lengths are 450 metres and 350 metres respectively. What is the time taken by faster train to cross the slower train?

Options :

1. ✔ 36 seconds
2. ✖ 34 seconds
3. ✖ 32 seconds
4. ✖ 38 seconds

Question Number : 53 Question Id : 99836742305 Question Type : MCQ Option Shuffling : Yes Display Question Number : Yes  
Single Line Question Option : No Option Orientation : Vertical

Correct Marks : 1 Wrong Marks : 0.25

दो रेलगाड़ियाँ 30 कि.मी./घंटा तथा 110 कि.मी./घंटा की गति से समान दिशा में चल रही हैं जिनकी लम्बाई क्रमशः 450 मीटर तथा 350 मीटर हैं। तेज गति वाली रेलगाड़ी धीमी गति वाली रेलगाड़ी को पार करने में कितना समय लेगी?

Options :

1. ✓ 36 सेकण्ड
2. ✗ 34 सेकण्ड
3. ✗ 32 सेकण्ड
4. ✗ 38 सेकण्ड

Question Number : 54 Question Id : 99836742306 Question Type : MCQ Option Shuffling : Yes Display Question Number : Yes  
Single Line Question Option : No Option Orientation : Vertical

Correct Marks : 1 Wrong Marks : 0.25

A train travels 10% faster than a car. Both start from point A at the same time and reach point B, 140 km away at the same time. On the way the train takes 10 minutes for stopping at the stations. What is the speed of the train?

Options :

1. ✓ 84 km/hr
2. ✗ 50 km/hr
3. ✗ 74 km/hr
4. ✗ 72 km/hr

Question Number : 54 Question Id : 99836742306 Question Type : MCQ Option Shuffling : Yes Display Question Number : Yes  
Single Line Question Option : No Option Orientation : Vertical

Correct Marks : 1 Wrong Marks : 0.25

एक रेलगाड़ी एक कार से 10% तेज चलती है। दोनों बिंदु A से एक ही समय पर प्रारंभ करते हैं तथा 140 कि.मी. दूर स्थित बिंदु B पर एक ही समय पर पहुँचते हैं। मार्ग में रेलगाड़ी स्टेशनों पर रुकने के लिए 10 मिनट लेती है। रेलगाड़ी की गति क्या है?

Options :

1. ✓ 84 कि.मी./घंटा
2. ✗ 50 कि.मी./घंटा
3. ✗ 74 कि.मी./घंटा
4. ✗ 72 कि.मी./घंटा

Question Number : 55 Question Id : 99836742307 Question Type : MCQ Option Shuffling : Yes Display Question Number : Yes  
Single Line Question Option : No Option Orientation : Vertical

Correct Marks : 1 Wrong Marks : 0.25

Two pipe X and Y alone can fill an empty tank in 105 minutes and 140 minutes respectively, pipe Z can empty at the rate of 4 gallons per minutes. If pipe X, Y and Z are opened together and they fill an empty tank in 84 minutes, then what is the capacity of tank?

Options :

1. ✗ 420 gallon
2. ✓ 840 gallon
3. ✗ 720 gallon
4. ✗ 360 gallon

Question Number : 55 Question Id : 99836742307 Question Type : MCQ Option Shuffling : Yes Display Question Number : Yes  
Single Line Question Option : No Option Orientation : Vertical

Correct Marks : 1 Wrong Marks : 0.25

दो पाइप X तथा Y अकेले एक टैंक को क्रमशः 105 मिनट तथा 140 मिनट में भर सकते हैं। पाइप Z 4 गैलन/मिनट की दर से खाली कर सकता है। यदि पाइप X, Y तथा Z को एक साथ खोला जाता है तथा वे एक खाली टैंक को 84 मिनट में भरते हैं, तो टैंक की क्षमता क्या है?

Options :

1. ✖ 420 गैलन
2. ✔ 840 गैलन
3. ✖ 720 गैलन
4. ✖ 360 गैलन

Question Number : 56 Question Id : 99836742308 Question Type : MCQ Option Shuffling : Yes Display Question Number : Yes  
Single Line Question Option : No Option Orientation : Vertical

Correct Marks : 1 Wrong Marks : 0.25

Sides of a triangle are in the ratio 5 : 5 : 8. If area of the triangle is  $6912 \text{ cm}^2$ , then what is the perimeter of the triangle?

Options :

1. ✖ 216 cm
2. ✔ 432 cm
3. ✖ 108 cm
4. ✖ 864 cm

Question Number : 56 Question Id : 99836742308 Question Type : MCQ Option Shuffling : Yes Display Question Number : Yes  
Single Line Question Option : No Option Orientation : Vertical

Correct Marks : 1 Wrong Marks : 0.25

एक त्रिभुज की भुजाओं के अनुपात में 5 : 5 : 8 है, यदि त्रिभुज का क्षेत्रफल  $6912 \text{ से.मी.}^2$  है, तो त्रिभुज का परिमाण क्या है?

Options :

1. ✖ 216 से.मी.
2. ✔ 432 से.मी.
3. ✖ 108 से.मी.
4. ✖ 864 से.मी.

Question Number : 57 Question Id : 99836742309 Question Type : MCQ Option Shuffling : Yes Display Question Number : Yes  
Single Line Question Option : No Option Orientation : Vertical

Correct Marks : 1 Wrong Marks : 0.25

Radius of a circle is 21 cm. Circumference of this circle is equal to the perimeter of a parallelogram PQRS. PQ = 36 cm and distance between PQ and SR is 20 cm. What is the distance between PS and QR?

Options :

1. ✖ 36 cm
2. ✖ 32 cm
3. ✖ 30 cm
4. ✔ 24 cm

Question Number : 57 Question Id : 99836742309 Question Type : MCQ Option Shuffling : Yes Display Question Number : Yes  
Single Line Question Option : No Option Orientation : Vertical

Correct Marks : 1 Wrong Marks : 0.25

एक वृत्त की त्रिज्या 21 से.मी. है। इस वृत्त की परिधि एक समांतर चतुर्भुज के परिमाण के बराबर है। PQ = 36 से.मी. तथा PQ और SR की दूरी 20 से.मी. है। PS तथा QR के बीच की दूरी क्या है?

Options :

1. ✖ 36 से.मी.
2. ✖ 32 से.मी.
3. ✖ 30 से.मी.

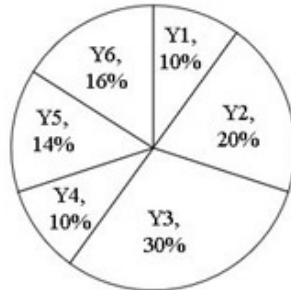


4. ✓ 24 से.मी.

Question Number : 58 Question Id : 99836742310 Question Type : MCQ Option Shuffling : Yes Display Question Number : Yes  
Single Line Question Option : No Option Orientation : Vertical

Correct Marks : 1 Wrong Marks : 0.25

The pie chart given below shows the number of bulbs manufactured by a company in 6 years. The number of bulbs manufactured in a particular years is shows as a percentage of total number of bulbs manufactured in 6 years.



If the total number of bulbs manufactured in 6 years is 100000, then what is the difference in the number of bulbs manufactured in year Y3 and Y5?

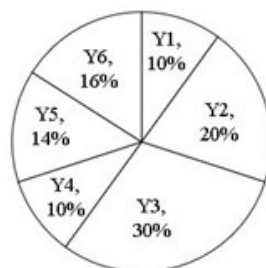
Options :

1. ✗ 10000
2. ✗ 11000
3. ✗ 13000
4. ✓ 16000

Question Number : 58 Question Id : 99836742310 Question Type : MCQ Option Shuffling : Yes Display Question Number : Yes  
Single Line Question Option : No Option Orientation : Vertical

Correct Marks : 1 Wrong Marks : 0.25

नीचे दिया गया वृत्त चित्र एक कंपनी द्वारा 6 वर्षों में बनाए गए बल्ब की संख्या को दर्शाता है। किसी विशिष्ट वर्ष में बनाए गए बल्ब की संख्या को 6 वर्ष में बनाए गए कुल बल्ब की संख्या के रूप में दर्शाया गया है।



यदि 6 वर्षों में बनाए गए कुल बल्बों की संख्या 100000 है, तो Y3 तथा Y5 वर्ष में बनाए गए बल्ब की संख्या के बीच का अंतर क्या है?

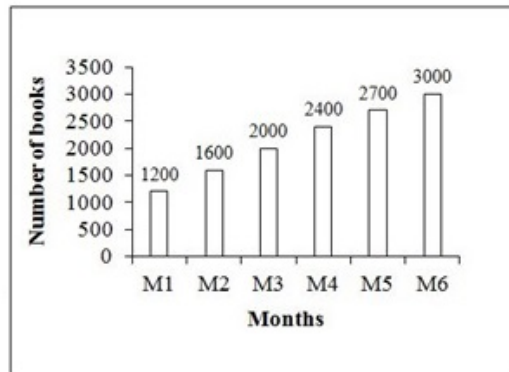
Options :

1. ✗ 10000
2. ✗ 11000
3. ✗ 13000
4. ✓ 16000

Question Number : 59 Question Id : 99836742311 Question Type : MCQ Option Shuffling : Yes Display Question Number : Yes  
Single Line Question Option : No Option Orientation : Vertical

Correct Marks : 1 Wrong Marks : 0.25

The bar graph given below shows the number of books sold by a bookseller in 6 months.



What is the difference in the number of books sold in month M4 and the average number of books sold per month?

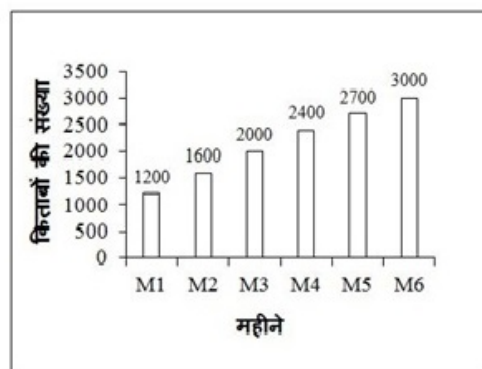
Options :

1. ✖ 240
2. ✔ 250
3. ✖ 260
4. ✖ 270

Question Number : 59 Question Id : 99836742311 Question Type : MCQ Option Shuffling : Yes Display Question Number : Yes  
Single Line Question Option : No Option Orientation : Vertical

Correct Marks : 1 Wrong Marks : 0.25

नीचे दिया गया दण्ड चित्र एक किताब बेचने वाले के द्वारा 6 महीने में बेचे गई किताबों की संख्या को दर्शाता है।



M4 महीने में बेची गई किताबों की संख्या तथा प्रतिमाह बेची गई औसत किताबों की संख्या के बीच का अंतर का क्या है?

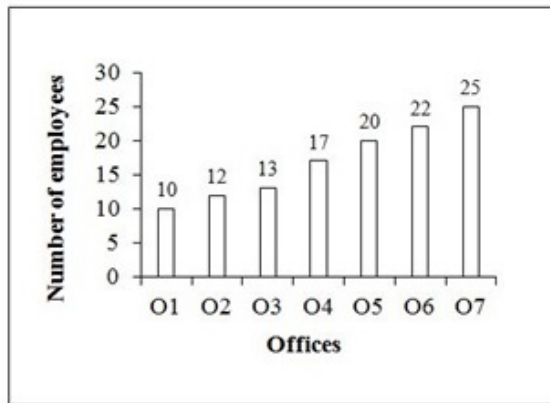
Options :

1. ✖ 240
2. ✔ 250
3. ✖ 260
4. ✖ 270

Question Number : 60 Question Id : 99836742312 Question Type : MCQ Option Shuffling : Yes Display Question Number : Yes  
Single Line Question Option : No Option Orientation : Vertical

Correct Marks : 1 Wrong Marks : 0.25

The bar graph given below shows the number of employees resigning from the seven different offices.



The number of employees resigning from office O6 is what percentage of the number of employees resigning from office O2?

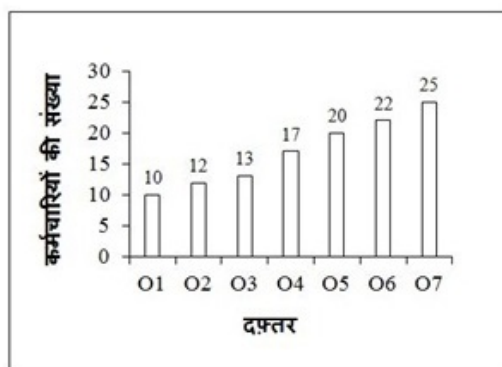
Options :

1. ✓ 183.33 percent
2. ✗ 163.33 percent
3. ✗ 143.33 percent
4. ✗ 203.33 percent

Question Number : 60 Question Id : 99836742312 Question Type : MCQ Option Shuffling : Yes Display Question Number : Yes  
Single Line Question Option : No Option Orientation : Vertical

Correct Marks : 1 Wrong Marks : 0.25

नीचे दिया गया दण्ड चित्र सात विभिन्न दफ्तरों से इस्तीफा देने वाले कर्मचारियों की संख्या को दर्शाता है।



O6 दफ्तर से इस्तीफा देने वाले कर्मचारियों की संख्या, O2 दफ्तर से इस्तीफा देने वाले कर्मचारियों की संख्या का कितना प्रतिशत है?

Options :

1. ✓ 183.33 प्रतिशत
2. ✗ 163.33 प्रतिशत
3. ✗ 143.33 प्रतिशत

#### 4. ✖ 203.33 प्रतिशत

##### General English

Group Number :	4
Group Id :	9983671364
Group Maximum Duration :	0
Group Minimum Duration :	0
Revisit allowed for view? :	No
Revisit allowed for edit? :	No
Break time:	0
Group Marks:	20
Revisit allowed for group Instructions? :	Yes
Maximum Instruction Time:	0
Minimum Instruction Time:	0

##### General English

Section Id :	9983671763
Section Number :	1
Section type :	Online
Mandatory or Optional:	Mandatory
Number of Questions:	16
Number of Questions to be attempted:	16
Section Marks:	20
Display Number Panel:	Yes
Group All Questions:	No

Sub-Section Number:	1
Sub-Section Id:	9983672187
Question Shuffling Allowed :	Yes

Question Number : 61 Question Id : 99836742313 Question Type : MCQ Option Shuffling : Yes Display Question Number : Yes  
Single Line Question Option : No Option Orientation : Vertical

Correct Marks : 1 Wrong Marks : 0.25

Find the part of the given sentence that has an error in it. If there is no error, choose 'No error'.

Find himself (1)/ in difficulty, he (2)/ went to his parents for help (3)/ No error (4)

Options :

1. ✔ Find himself
2. ✖ in difficulty, he
3. ✖ went to his parents for help
4. ✖ No error

Question Number : 61 Question Id : 99836742313 Question Type : MCQ Option Shuffling : Yes Display Question Number : Yes  
Single Line Question Option : No Option Orientation : Vertical

Correct Marks : 1 Wrong Marks : 0.25

Find the part of the given sentence that has an error in it. If there is no error, choose 'No error'.

Find himself (1)/ in difficulty, he (2)/ went to his parents for help (3)/ No error (4)

Options :

1. ✓ Find himself
2. ✗ in difficulty, he
3. ✗ went to his parents for help
4. ✗ No error

Question Number : 62 Question Id : 99836742314 Question Type : MCQ Option Shuffling : Yes Display Question Number : Yes  
Single Line Question Option : No Option Orientation : Vertical

Correct Marks : 1 Wrong Marks : 0.25

Find the part of the given sentence that has an error in it. If there is no error, choose 'No error'.

Raj has hurt (1)/ his ankle and will (2)/ not be able for play today (3)/ No error (4)

Options :

1. ✗ Raj has hurt
2. ✗ his ankle and will
3. ✓ not be able for play today
4. ✗ No error

Question Number : 62 Question Id : 99836742314 Question Type : MCQ Option Shuffling : Yes Display Question Number : Yes  
Single Line Question Option : No Option Orientation : Vertical

Correct Marks : 1 Wrong Marks : 0.25

Find the part of the given sentence that has an error in it. If there is no error, choose 'No error'.

Raj has hurt (1)/ his ankle and will (2)/ not be able for play today (3)/ No error (4)

Options :

1. ✗ Raj has hurt
2. ✗ his ankle and will
3. ✓ not be able for play today
4. ✗ No error

Question Number : 63 Question Id : 99836742315 Question Type : MCQ Option Shuffling : Yes Display Question Number : Yes  
Single Line Question Option : No Option Orientation : Vertical

Correct Marks : 1 Wrong Marks : 0.25

Improve the bracketed part of the sentence. If there is No improvement, choose No improvement.

The man gave her a (hundred-rupee) note.

Options :

1. ✗ hundred-rupees
2. ✗ hundreds-rupee
3. ✗ hundreds-rupees
4. ✓ No improvement

Question Number : 63 Question Id : 99836742315 Question Type : MCQ Option Shuffling : Yes Display Question Number : Yes  
Single Line Question Option : No Option Orientation : Vertical

Correct Marks : 1 Wrong Marks : 0.25

Improve the bracketed part of the sentence. If there is No improvement, choose No improvement.

The man gave her a (hundred-rupee) note.

Options :

1. ✗ hundred-rupees

2. ✖ hundreds-rupee
3. ✖ hundreds-rupees
4. ✔ No improvement

Question Number : 64 Question Id : 99836742316 Question Type : MCQ Option Shuffling : Yes Display Question Number : Yes  
Single Line Question Option : No Option Orientation : Vertical

Correct Marks : 1 Wrong Marks : 0.25

Improve the bracketed part of the sentence. If there is No improvement, choose No improvement.

The lady (find) a broken wooden chair.

Options :

1. ✔ found
2. ✖ finding
3. ✖ is find
4. ✖ No improvement

Question Number : 64 Question Id : 99836742316 Question Type : MCQ Option Shuffling : Yes Display Question Number : Yes  
Single Line Question Option : No Option Orientation : Vertical

Correct Marks : 1 Wrong Marks : 0.25

Improve the bracketed part of the sentence. If there is No improvement, choose No improvement.

The lady (find) a broken wooden chair.

Options :

1. ✔ found
2. ✖ finding
3. ✖ is find
4. ✖ No improvement

Question Number : 65 Question Id : 99836742317 Question Type : MCQ Option Shuffling : Yes Display Question Number : Yes  
Single Line Question Option : No Option Orientation : Vertical

Correct Marks : 1 Wrong Marks : 0.25

A sentence has been given with a blank to be filled with an appropriate word. Choose the correct alternative.

The boy \_\_\_\_\_ the ball out of the room.

Options :

1. ✖ kick
2. ✔ kicked
3. ✖ kicking
4. ✖ is kicked

Question Number : 65 Question Id : 99836742317 Question Type : MCQ Option Shuffling : Yes Display Question Number : Yes  
Single Line Question Option : No Option Orientation : Vertical

Correct Marks : 1 Wrong Marks : 0.25

A sentence has been given with a blank to be filled with an appropriate word. Choose the correct alternative.

The boy \_\_\_\_\_ the ball out of the room.

Options :

1. ✖ kick
2. ✔ kicked
3. ✖ kicking

4. ✖ is kicked

Question Number : 66 Question Id : 99836742318 Question Type : MCQ Option Shuffling : Yes Display Question Number : Yes  
Single Line Question Option : No Option Orientation : Vertical

Correct Marks : 1 Wrong Marks : 0.25

A sentence has been given with a blank to be filled with an appropriate word. Choose the correct alternative.

She lost patience \_\_\_\_\_ her friend.

Options :

1. ✔ with
2. ✖ to
3. ✖ at
4. ✖ from

Question Number : 66 Question Id : 99836742318 Question Type : MCQ Option Shuffling : Yes Display Question Number : Yes  
Single Line Question Option : No Option Orientation : Vertical

Correct Marks : 1 Wrong Marks : 0.25

A sentence has been given with a blank to be filled with an appropriate word. Choose the correct alternative.

She lost patience \_\_\_\_\_ her friend.

Options :

1. ✔ with
2. ✖ to
3. ✖ at
4. ✖ from

Question Number : 67 Question Id : 99836742319 Question Type : MCQ Option Shuffling : Yes Display Question Number : Yes  
Single Line Question Option : No Option Orientation : Vertical

Correct Marks : 1 Wrong Marks : 0.25

Rearrange the parts of the sentence in correct order.

P: She taught  
Q: twice a week  
R: and geometry  
S: me algebra

Options :

1. ✖ PQRS
2. ✖ SRQP
3. ✔ PSRQ
4. ✖ QRSP

Question Number : 67 Question Id : 99836742319 Question Type : MCQ Option Shuffling : Yes Display Question Number : Yes  
Single Line Question Option : No Option Orientation : Vertical

Correct Marks : 1 Wrong Marks : 0.25

Rearrange the parts of the sentence in correct order.

P: She taught  
Q: twice a week  
R: and geometry  
S: me algebra

Options :

1. ✖ PQRS



2. ✖ SRQP
3. ✔ PSRQ
4. ✖ QRSP

Question Number : 68 Question Id : 99836742320 Question Type : MCQ Option Shuffling : Yes Display Question Number : Yes  
Single Line Question Option : No Option Orientation : Vertical

Correct Marks : 1 Wrong Marks : 0.25

Rearrange the parts of the sentence in correct order.

P: the real culprit  
Q: many clues  
R: pointing at  
S: there are

Options :

1. ✔ SQRP
2. ✖ PQRS
3. ✖ SRQP
4. ✖ PSRQ

Question Number : 68 Question Id : 99836742320 Question Type : MCQ Option Shuffling : Yes Display Question Number : Yes  
Single Line Question Option : No Option Orientation : Vertical

Correct Marks : 1 Wrong Marks : 0.25

Rearrange the parts of the sentence in correct order.

P: the real culprit  
Q: many clues  
R: pointing at  
S: there are

Options :

1. ✔ SQRP
2. ✖ PQRS
3. ✖ SRQP
4. ✖ PSRQ

Question Number : 69 Question Id : 99836742321 Question Type : MCQ Option Shuffling : Yes Display Question Number : Yes  
Single Line Question Option : No Option Orientation : Vertical

Correct Marks : 1 Wrong Marks : 0.25

Choose the word that is opposite in meaning to the given word.

Calm

Options :

1. ✖ Obvious
2. ✖ Strengthen
3. ✖ Exclude
4. ✔ Stormy

Question Number : 69 Question Id : 99836742321 Question Type : MCQ Option Shuffling : Yes Display Question Number : Yes  
Single Line Question Option : No Option Orientation : Vertical

Correct Marks : 1 Wrong Marks : 0.25



Choose the word that is opposite in meaning to the given word.

Calm

Options :

1. ✖ Obvious
2. ✖ Strengthen
3. ✖ Exclude
4. ✔ Stormy

Question Number : 70 Question Id : 99836742322 Question Type : MCQ Option Shuffling : Yes Display Question Number : Yes  
Single Line Question Option : No Option Orientation : Vertical

Correct Marks : 1 Wrong Marks : 0.25

Choose the word that means the same as the given word.

Hypocrisy

Options :

1. ✖ Sincerity
2. ✖ Meek
3. ✔ Deception
4. ✖ Timid

Question Number : 70 Question Id : 99836742322 Question Type : MCQ Option Shuffling : Yes Display Question Number : Yes  
Single Line Question Option : No Option Orientation : Vertical

Correct Marks : 1 Wrong Marks : 0.25

Choose the word that means the same as the given word.

Hypocrisy

Options :

1. ✖ Sincerity
2. ✖ Meek
3. ✔ Deception
4. ✖ Timid

Question Number : 71 Question Id : 99836742323 Question Type : MCQ Option Shuffling : Yes Display Question Number : Yes  
Single Line Question Option : No Option Orientation : Vertical

Correct Marks : 1 Wrong Marks : 0.25

In the given question, four words are given out of which one word is correctly spelt. Choose the correctly spelt word.

Options :

1. ✖ Imediatly
2. ✖ Immediatly
3. ✖ Immediatly
4. ✔ Immediately

Question Number : 71 Question Id : 99836742323 Question Type : MCQ Option Shuffling : Yes Display Question Number : Yes  
Single Line Question Option : No Option Orientation : Vertical

Correct Marks : 1 Wrong Marks : 0.25

In the given question, four words are given out of which one word is correctly spelt. Choose the correctly spelt word.

Options :

1. ✖ Immediately
2. ✖ Immediatly
3. ✖ Immediatly
4. ✔ Immediately

Question Number : 72 Question Id : 99836742324 Question Type : MCQ Option Shuffling : Yes Display Question Number : Yes  
Single Line Question Option : No Option Orientation : Vertical

Correct Marks : 1 Wrong Marks : 0.25

In the given question, four words are given out of which one word is incorrectly spelt. Choose the incorrectly spelt word.

Options :

1. ✖ Accompany
2. ✖ Civilised
3. ✖ Government
4. ✔ Discuss

Question Number : 72 Question Id : 99836742324 Question Type : MCQ Option Shuffling : Yes Display Question Number : Yes  
Single Line Question Option : No Option Orientation : Vertical

Correct Marks : 1 Wrong Marks : 0.25

In the given question, four words are given out of which one word is incorrectly spelt. Choose the incorrectly spelt word.

Options :

1. ✖ Accompany
2. ✖ Civilised
3. ✖ Government
4. ✔ Discuss

Question Number : 73 Question Id : 99836742325 Question Type : MCQ Option Shuffling : Yes Display Question Number : Yes  
Single Line Question Option : No Option Orientation : Vertical

Correct Marks : 1 Wrong Marks : 0.25

In the following question, out of the given four alternatives, select the alternative which best expresses the meaning of the Idiom/Phrase.

A dime a dozen

Options :

1. ✖ Straight talks
2. ✖ Speedily
3. ✖ To eat
4. ✔ Anything that is common and easy to get

Question Number : 73 Question Id : 99836742325 Question Type : MCQ Option Shuffling : Yes Display Question Number : Yes  
Single Line Question Option : No Option Orientation : Vertical

Correct Marks : 1 Wrong Marks : 0.25

In the following question, out of the given four alternatives, select the alternative which best expresses the meaning of the Idiom/Phrase.

A dime a dozen

Options :

1. ✖ Straight talks
2. ✖ Speedily

3. ✖ To eat
4. ✔ Anything that is common and easy to get

Question Number : 74 Question Id : 99836742326 Question Type : MCQ Option Shuffling : Yes Display Question Number : Yes  
Single Line Question Option : No Option Orientation : Vertical

Correct Marks : 1 Wrong Marks : 0.25

In the following question, out of the given four alternatives, select the alternative which best expresses the meaning of the Idiom/Phrase.

Clear cut

Options :

1. ✖ Incidentally
2. ✔ Definite
3. ✖ A story which is not true
4. ✖ Inexperienced

Question Number : 74 Question Id : 99836742326 Question Type : MCQ Option Shuffling : Yes Display Question Number : Yes  
Single Line Question Option : No Option Orientation : Vertical

Correct Marks : 1 Wrong Marks : 0.25

In the following question, out of the given four alternatives, select the alternative which best expresses the meaning of the Idiom/Phrase.

Clear cut

Options :

1. ✖ Incidentally
2. ✔ Definite
3. ✖ A story which is not true
4. ✖ Inexperienced

Question Number : 75 Question Id : 99836742327 Question Type : MCQ Option Shuffling : Yes Display Question Number : Yes  
Single Line Question Option : No Option Orientation : Vertical

Correct Marks : 1 Wrong Marks : 0.25

Choose the word that can substitute the given sentence.

A person hired for driving a car.

Options :

1. ✖ Shoal
2. ✖ Posse
3. ✔ Chauffeur
4. ✖ Horde

Question Number : 75 Question Id : 99836742327 Question Type : MCQ Option Shuffling : Yes Display Question Number : Yes  
Single Line Question Option : No Option Orientation : Vertical

Correct Marks : 1 Wrong Marks : 0.25

Choose the word that can substitute the given sentence.

A person hired for driving a car.

Options :

1. ✖ Shoal
2. ✖ Posse

3. ✓ Chauffeur

4. ✗ Horde

Sub-Section Number: 2  
Sub-Section Id: 9983672188  
Question Shuffling Allowed : Yes

Question Id : 99836742328 Question Type : COMPREHENSION Sub Question Shuffling Allowed : Yes Group Comprehension Questions : No

Question Numbers : (76 to 80)

Question Label : Comprehension

Read the following information carefully and answer the given questions.

Climate change and its imperatives across the globe have moved beyond the immediate compulsions of rising mercury levels on planet Earth. It is today a debate among nations on geo-politics and the shift in economic balance from the developed countries to the emerging economies. The rhetoric by global leaders thus needs to be taken with a pinch of salt for it is not all about climate change concerns. The changing axis of economic power to the East and emerging countries of Asia will perhaps take a while to sink in. Developing economies like India are just beginning to take baby steps on the global stage and industry entrepreneurship will have to go a long way. Millions of house-holds in India still have to depend on firewood and kerosene to light up their homes even as scores of Indians die every year for want of basic health amenities. The priority for such a nation is meeting basic needs, providing food, health and education rather than spending large portions of its GDP on importing technologies to cut emissions, scientists argue. India needs to do its bit, but on its own terms and at its own pace.

Sub questions

Question Number : 76 Question Id : 99836742329 Question Type : MCQ Option Shuffling : Yes Display Question Number : Yes Single Line Question Option : No Option Orientation : Vertical

Correct Marks : 1 Wrong Marks : 0.25

Which of the following statements is true?

Options :

1. ✗ The global leaders are the main stakeholders in climate change talks.
2. ✓ Kerosene and wood are the main fuels used in India.
3. ✗ The global leaders are the main stakeholders in global change.
4. ✗ The priority for such a nation is to earn more money.

Question Number : 77 Question Id : 99836742330 Question Type : MCQ Option Shuffling : Yes Display Question Number : Yes Single Line Question Option : No Option Orientation : Vertical

Correct Marks : 1 Wrong Marks : 0.25

Why does the author want the talks about climate change by the global leaders "to be taken with a pinch of salt"?

Options :

1. ✗ The global leaders are not responsible for the climate change.
2. ✗ The talks about the climate change by the global leaders have little to do with developing countries.
3. ✗ The developed countries are more concerned with exporting their technologies that cut emissions.
4. ✓ The talks are sometimes directed towards political and economic gains rather than climate change.

Question Number : 78 Question Id : 99836742331 Question Type : MCQ Option Shuffling : Yes Display Question Number : Yes Single Line Question Option : No Option Orientation : Vertical

Correct Marks : 1 Wrong Marks : 0.25

What should be the stand of India on matters of climate change?

Options :

1. ✖ India should reject any demand for emission cut by the developed countries
2. ✔ Measures should be taken to cut down emissions but not at the cost of development
3. ✖ Measures should be taken to cut down emissions
4. ✖ The matter of climate change should be ignored

Question Number : 79 Question Id : 99836742332 Question Type : MCQ Option Shuffling : Yes Display Question Number : Yes  
Single Line Question Option : No Option Orientation : Vertical

Correct Marks : 1 Wrong Marks : 0.25

Which word means the opposite of emerging?

Options :

1. ✔ Fading
2. ✖ Appear
3. ✖ Arrive
4. ✖ Develop

Question Number : 80 Question Id : 99836742333 Question Type : MCQ Option Shuffling : Yes Display Question Number : Yes  
Single Line Question Option : No Option Orientation : Vertical

Correct Marks : 1 Wrong Marks : 0.25

Which word from the passage is similar in meaning to onset?

Options :

1. ✖ Priority
2. ✖ Importing
3. ✔ Beginning
4. ✖ Amenities

Question Id : 99836742328 Question Type : COMPREHENSION Sub Question Shuffling Allowed : Yes Group Comprehension  
Questions : No

Question Numbers : (76 to 80)

Question Label : Comprehension

Read the following information carefully and answer the given questions.

Climate change and its imperatives across the globe have moved beyond the immediate compulsions of rising mercury levels on planet Earth. It is today a debate among nations on geo-politics and the shift in economic balance from the developed countries to the emerging economies. The rhetoric by global leaders thus needs to be taken with a pinch of salt for it is not all about climate change concerns. The changing axis of economic power to the East and emerging countries of Asia will perhaps take a while to sink in. Developing economies like India are just beginning to take baby steps on the global stage and industry entrepreneurship will have to go a long way. Millions of house-holds in India still have to depend on firewood and kerosene to light up their homes even as scores of Indians die every year for want of basic health amenities.

The priority for such a nation is meeting basic needs, providing food, health and education rather than spending large portions of its GDP on importing technologies to cut emissions, scientists argue. India needs to do its bit, but on its own terms and at its own pace.

Sub questions

Question Number : 76 Question Id : 99836742329 Question Type : MCQ Option Shuffling : Yes Display Question Number : Yes  
Single Line Question Option : No Option Orientation : Vertical

Correct Marks : 1 Wrong Marks : 0.25

Which of the following statements is true?

Options :

1. ✖ The global leaders are the main stakeholders in climate change talks.
2. ✔ Kerosene and wood are the main fuels used in India.

3. ✖ The global leaders are the main stakeholders in global change.
4. ✖ The priority for such a nation is to earn more money.

Question Number : 77 Question Id : 99836742330 Question Type : MCQ Option Shuffling : Yes Display Question Number : Yes  
Single Line Question Option : No Option Orientation : Vertical

Correct Marks : 1 Wrong Marks : 0.25

Why does the author want the talks about climate change by the global leaders "to be taken with a pinch of salt"?

Options :

1. ✖ The global leaders are not responsible for the climate change.
2. ✖ The talks about the climate change by the global leaders have little to do with developing countries.
3. ✖ The developed countries are more concerned with exporting their technologies that cut emissions.
4. ✔ The talks are sometimes directed towards political and economic gains rather than climate change.

Question Number : 78 Question Id : 99836742331 Question Type : MCQ Option Shuffling : Yes Display Question Number : Yes  
Single Line Question Option : No Option Orientation : Vertical

Correct Marks : 1 Wrong Marks : 0.25

What should be the stand of India on matters of climate change?

Options :

1. ✖ India should reject any demand for emission cut by the developed countries
2. ✔ Measures should be taken to cut down emissions but not at the cost of development
3. ✖ Measures should be taken to cut down emissions
4. ✖ The matter of climate change should be ignored

Question Number : 79 Question Id : 99836742332 Question Type : MCQ Option Shuffling : Yes Display Question Number : Yes  
Single Line Question Option : No Option Orientation : Vertical

Correct Marks : 1 Wrong Marks : 0.25

Which word means the opposite of emerging?

Options :

1. ✔ Fading
2. ✖ Appear
3. ✖ Arrive
4. ✖ Develop

Question Number : 80 Question Id : 99836742333 Question Type : MCQ Option Shuffling : Yes Display Question Number : Yes  
Single Line Question Option : No Option Orientation : Vertical

Correct Marks : 1 Wrong Marks : 0.25

Which word from the passage is similar in meaning to onset?

Options :

1. ✖ Priority
2. ✖ Importing
3. ✔ Beginning
4. ✖ Amenities

Group Maximum Duration :	0
Group Minimum Duration :	0
Revisit allowed for view? :	No
Revisit allowed for edit? :	No
Break time:	0
Group Marks:	20
Revisit allowed for group Instructions? :	Yes
Maximum Instruction Time:	0
Minimum Instruction Time:	0

## General Hindi

Section Id :	9983671764
Section Number :	1
Section type :	Online
Mandatory or Optional:	Mandatory
Number of Questions:	16
Number of Questions to be attempted:	16
Section Marks:	20
Display Number Panel:	Yes
Group All Questions:	No

Sub-Section Number:	1
Sub-Section Id:	9983672189
Question Shuffling Allowed :	Yes

Question Number : 81 Question Id : 99836742334 Question Type : MCQ Option Shuffling : Yes Display Question Number : Yes  
Single Line Question Option : No Option Orientation : Vertical

Correct Marks : 1 Wrong Marks : 0.25

दिए गए शब्द की संधि ज्ञात कीजिए।

उत् + नति

Options :

- ✖ उत्ति
- ✔ उन्नति
- ✖ उँनति
- ✖ उत्तनि

Question Number : 81 Question Id : 99836742334 Question Type : MCQ Option Shuffling : Yes Display Question Number : Yes  
Single Line Question Option : No Option Orientation : Vertical

Correct Marks : 1 Wrong Marks : 0.25

दिए गए शब्द की संधि ज्ञात कीजिए।

उत् + नति

Options :

- ✖ उत्ति
- ✔ उन्नति
- ✖ उँनति
- ✖ उत्तनि

Question Number : 82 Question Id : 99836742335 Question Type : MCQ Option Shuffling : Yes Display Question Number : Yes  
Single Line Question Option : No Option Orientation : Vertical

Correct Marks : 1 Wrong Marks : 0.25

दिए गए शब्द का उपसर्ग ज्ञात कीजिए

भरपेट

Options :

1. ✖ भ
2. ✔ भर
3. ✖ प
4. ✖ पेट

Question Number : 82 Question Id : 99836742335 Question Type : MCQ Option Shuffling : Yes Display Question Number : Yes  
Single Line Question Option : No Option Orientation : Vertical

Correct Marks : 1 Wrong Marks : 0.25

दिए गए शब्द का उपसर्ग ज्ञात कीजिए

भरपेट

Options :

1. ✖ भ
2. ✔ भर
3. ✖ प
4. ✖ पेट

Question Number : 83 Question Id : 99836742336 Question Type : MCQ Option Shuffling : Yes Display Question Number : Yes  
Single Line Question Option : No Option Orientation : Vertical

Correct Marks : 1 Wrong Marks : 0.25

दिए गए वाक्य में परिणामवाचक विशेषण ज्ञात कीजिए

राम ने राजू से दो लीटर दूध लाने को कहा।

Options :

1. ✔ दो लीटर
2. ✖ दूध
3. ✖ राम
4. ✖ लाने

Question Number : 83 Question Id : 99836742336 Question Type : MCQ Option Shuffling : Yes Display Question Number : Yes  
Single Line Question Option : No Option Orientation : Vertical

Correct Marks : 1 Wrong Marks : 0.25

दिए गए वाक्य में परिणामवाचक विशेषण ज्ञात कीजिए

राम ने राजू से दो लीटर दूध लाने को कहा।

Options :

1. ✔ दो लीटर
2. ✖ दूध
3. ✖ राम
4. ✖ लाने

Question Number : 84 Question Id : 99836742337 Question Type : MCQ Option Shuffling : Yes Display Question Number : Yes  
Single Line Question Option : No Option Orientation : Vertical

Correct Marks : 1 Wrong Marks : 0.25



दिए गए शब्द का पर्यायवाची ज्ञात कीजिए।

विष

Options :

1. ✖ गहरा
2. ✔ गरल
3. ✖ रात्रि
4. ✖ गर्व

Question Number : 84 Question Id : 99836742337 Question Type : MCQ Option Shuffling : Yes Display Question Number : Yes  
Single Line Question Option : No Option Orientation : Vertical

Correct Marks : 1 Wrong Marks : 0.25

दिए गए शब्द का पर्यायवाची ज्ञात कीजिए।

विष

Options :

1. ✖ गहरा
2. ✔ गरल
3. ✖ रात्रि
4. ✖ गर्व

Question Number : 85 Question Id : 99836742338 Question Type : MCQ Option Shuffling : Yes Display Question Number : Yes  
Single Line Question Option : No Option Orientation : Vertical

Correct Marks : 1 Wrong Marks : 0.25

दिए गए शब्द का विलोम ज्ञात कीजिए।

उद्यमी

Options :

1. ✖ न्यून
2. ✖ अनेक
3. ✔ आलसी
4. ✖ उधार

Question Number : 85 Question Id : 99836742338 Question Type : MCQ Option Shuffling : Yes Display Question Number : Yes  
Single Line Question Option : No Option Orientation : Vertical

Correct Marks : 1 Wrong Marks : 0.25

दिए गए शब्द का विलोम ज्ञात कीजिए।

उद्यमी

Options :

1. ✖ न्यून
2. ✖ अनेक
3. ✔ आलसी
4. ✖ उधार

Question Number : 86 Question Id : 99836742339 Question Type : MCQ Option Shuffling : Yes Display Question Number : Yes  
Single Line Question Option : No Option Orientation : Vertical

Correct Marks : 1 Wrong Marks : 0.25

दिए गए शब्दों में से शुद्ध वर्तनी ज्ञात कीजिए।

Options :

1. ✓ कवयित्री
2. ✗ कवित्री
3. ✗ कवियित्री
4. ✗ कवयीत्री

Question Number : 86 Question Id : 99836742339 Question Type : MCQ Option Shuffling : Yes Display Question Number : Yes  
Single Line Question Option : No Option Orientation : Vertical

Correct Marks : 1 Wrong Marks : 0.25

दिए गए शब्दों में से शुद्ध वर्तनी ज्ञात कीजिए।

Options :

1. ✓ कवयित्री
2. ✗ कवित्री
3. ✗ कवियित्री
4. ✗ कवयीत्री

Question Number : 87 Question Id : 99836742340 Question Type : MCQ Option Shuffling : Yes Display Question Number : Yes  
Single Line Question Option : No Option Orientation : Vertical

Correct Marks : 1 Wrong Marks : 0.25

दिए गए वाक्य में उपयुक्त शब्द का चयन कीजिए।

आसमान की \_\_\_\_\_ देखो।

Options :

1. ✓ ओर
2. ✗ और
3. ✗ अथवा
4. ✗ किंतु

Question Number : 87 Question Id : 99836742340 Question Type : MCQ Option Shuffling : Yes Display Question Number : Yes  
Single Line Question Option : No Option Orientation : Vertical

Correct Marks : 1 Wrong Marks : 0.25

दिए गए वाक्य में उपयुक्त शब्द का चयन कीजिए।

आसमान की \_\_\_\_\_ देखो।

Options :

1. ✓ ओर
2. ✗ और
3. ✗ अथवा
4. ✗ किंतु

Question Number : 88 Question Id : 99836742341 Question Type : MCQ Option Shuffling : Yes Display Question Number : Yes  
Single Line Question Option : No Option Orientation : Vertical

Correct Marks : 1 Wrong Marks : 0.25

दिए गए वाक्य में किस प्रकार का पुरुष है ज्ञात कीजिए।

इन्हें बाहर का रास्ता दिखाओ।

Options :

1. ✗ प्रथम
2. ✓ अन्य
3. ✗ मध्यम

4. ✖ उत्तम

Question Number : 88 Question Id : 99836742341 Question Type : MCQ Option Shuffling : Yes Display Question Number : Yes  
Single Line Question Option : No Option Orientation : Vertical

Correct Marks : 1 Wrong Marks : 0.25

दिए गए वाक्य में किस प्रकार का पुरुष है ज्ञात कीजिए।

इन्हें बाहर का रास्ता दिखाओ।

Options :

1. ✖ प्रथम
2. ✔ अन्य
3. ✖ मध्यम
4. ✖ उत्तम

Question Number : 89 Question Id : 99836742342 Question Type : MCQ Option Shuffling : Yes Display Question Number : Yes  
Single Line Question Option : No Option Orientation : Vertical

Correct Marks : 1 Wrong Marks : 0.25

दिए गए वाक्य का काल ज्ञात कीजिए।

गौरी खीर खा रही थी।

Options :

1. ✔ अपूर्ण भूतकाल
2. ✖ आसन्न भूतकाल
3. ✖ पूर्ण भूतकाल
4. ✖ संदिग्ध भूतकाल

Question Number : 89 Question Id : 99836742342 Question Type : MCQ Option Shuffling : Yes Display Question Number : Yes  
Single Line Question Option : No Option Orientation : Vertical

Correct Marks : 1 Wrong Marks : 0.25

दिए गए वाक्य का काल ज्ञात कीजिए।

गौरी खीर खा रही थी।

Options :

1. ✔ अपूर्ण भूतकाल
2. ✖ आसन्न भूतकाल
3. ✖ पूर्ण भूतकाल
4. ✖ संदिग्ध भूतकाल

Question Number : 90 Question Id : 99836742343 Question Type : MCQ Option Shuffling : Yes Display Question Number : Yes  
Single Line Question Option : No Option Orientation : Vertical

Correct Marks : 1 Wrong Marks : 0.25

दिए गए वाक्यों में से सरल वाक्य ज्ञात कीजिए।

Options :

1. ✖ आप नेता जी से मिलने चाहते हैं इसलिए द्वार पर प्रतीक्षा करें
2. ✖ यदि नेताजी से मिलना चाहते हैं तो द्वार पर प्रतीक्षा करें
3. ✔ आप नेताजी से मिलने के लिए द्वार पर प्रतीक्षा करें
4. ✖ नेताजी से मिलने चाहते हैं किंतु वह द्वार पर प्रतीक्षा करें

Question Number : 90 Question Id : 99836742343 Question Type : MCQ Option Shuffling : Yes Display Question Number : Yes  
Single Line Question Option : No Option Orientation : Vertical

Correct Marks : 1 Wrong Marks : 0.25

दिए गए वाक्यों में से सरल वाक्य ज्ञात कीजिए

Options :

1. ✖ आप नेता जी से मिलने चाहते हैं इसलिए द्वार पर प्रतीक्षा करें
2. ✖ यदि नेताजी से मिलना चाहते हैं तो द्वार पर प्रतीक्षा करें
3. ✔ आप नेताजी से मिलने के लिए द्वार पर प्रतीक्षा करें
4. ✖ नेताजी से मिलने चाहते हैं किंतु वह द्वार पर प्रतीक्षा करें

Question Number : 91 Question Id : 99836742344 Question Type : MCQ Option Shuffling : Yes Display Question Number : Yes  
Single Line Question Option : No Option Orientation : Vertical

Correct Marks : 1 Wrong Marks : 0.25

दिए गए शब्दों में से पुल्लिंग शब्द ज्ञात कीजिए

Options :

1. ✖ कड़वाहट
2. ✖ कावेरी
3. ✖ संतान
4. ✔ गुनाह

Question Number : 91 Question Id : 99836742344 Question Type : MCQ Option Shuffling : Yes Display Question Number : Yes  
Single Line Question Option : No Option Orientation : Vertical

Correct Marks : 1 Wrong Marks : 0.25

दिए गए शब्दों में से पुल्लिंग शब्द ज्ञात कीजिए

Options :

1. ✖ कड़वाहट
2. ✖ कावेरी
3. ✖ संतान
4. ✔ गुनाह

Question Number : 92 Question Id : 99836742345 Question Type : MCQ Option Shuffling : Yes Display Question Number : Yes  
Single Line Question Option : No Option Orientation : Vertical

Correct Marks : 1 Wrong Marks : 0.25

दिए गए वाक्य में उचित स्थान पर विराम चिह्न ज्ञात कीजिए

बच्चों ने आम नीम पीपल तथा अमरुद के पेड़ लगाए

Options :

1. ✖ ; , ।
2. ✖ ! ; ।
3. ✔ , , ।
4. ✖ !!!

Question Number : 92 Question Id : 99836742345 Question Type : MCQ Option Shuffling : Yes Display Question Number : Yes  
Single Line Question Option : No Option Orientation : Vertical

Correct Marks : 1 Wrong Marks : 0.25

दिए गए वाक्य में उचित स्थान पर विराम चिह्न ज्ञात कीजिए

बच्चों ने आम नीम पीपल तथा अमरुद के पेड़ लगाए

Options :

1. ✖ ; , ।
2. ✖ ! ; ।

3. ✓ , , ।

4. ✗ !!!

Question Number : 93 Question Id : 99836742346 Question Type : MCQ Option Shuffling : Yes Display Question Number : Yes  
Single Line Question Option : No Option Orientation : Vertical

Correct Marks : 1 Wrong Marks : 0.25

दिए गए मुहावरे का अर्थ ज्ञात कीजिए

फूलना-फलना

Options :

1. ✗ मोटे होना
2. ✓ धनवान होना
3. ✗ मतभेद पैदा करना
4. ✗ भयभीत होना

Question Number : 93 Question Id : 99836742346 Question Type : MCQ Option Shuffling : Yes Display Question Number : Yes  
Single Line Question Option : No Option Orientation : Vertical

Correct Marks : 1 Wrong Marks : 0.25

दिए गए मुहावरे का अर्थ ज्ञात कीजिए

फूलना-फलना

Options :

1. ✗ मोटे होना
2. ✓ धनवान होना
3. ✗ मतभेद पैदा करना
4. ✗ भयभीत होना

Question Number : 94 Question Id : 99836742347 Question Type : MCQ Option Shuffling : Yes Display Question Number : Yes  
Single Line Question Option : No Option Orientation : Vertical

Correct Marks : 1 Wrong Marks : 0.25

दिए गए स्थान में उचित मुहावरे का अर्थ ज्ञात कीजिए

परीक्षा में अनुत्तीर्ण होने की खबर सुनकर वह \_\_\_\_\_ लगी।

Options :

1. ✓ फूट-फूट कर रोने
2. ✗ फूला न समाना
3. ✗ फटेहाल होना
4. ✗ फंदे में फँसना

Question Number : 94 Question Id : 99836742347 Question Type : MCQ Option Shuffling : Yes Display Question Number : Yes  
Single Line Question Option : No Option Orientation : Vertical

Correct Marks : 1 Wrong Marks : 0.25

दिए गए स्थान में उचित मुहावरे का अर्थ ज्ञात कीजिए

परीक्षा में अनुत्तीर्ण होने की खबर सुनकर वह \_\_\_\_\_ लगी।

Options :

1. ✓ फूट-फूट कर रोने
2. ✗ फूला न समाना
3. ✗ फटेहाल होना
4. ✗ फंदे में फँसना

Question Number : 95 Question Id : 99836742348 Question Type : MCQ Option Shuffling : Yes Display Question Number : Yes  
Single Line Question Option : No Option Orientation : Vertical

Correct Marks : 1 Wrong Marks : 0.25

दिए गए विराम चिह्न में से अल्पविराम चिह्न ज्ञात कीजिए।

Options :

1. ✖ ;
2. ✖ ।
3. ✔ ,
4. ✖ ''

Question Number : 95 Question Id : 99836742348 Question Type : MCQ Option Shuffling : Yes Display Question Number : Yes  
Single Line Question Option : No Option Orientation : Vertical

Correct Marks : 1 Wrong Marks : 0.25

दिए गए विराम चिह्न में से अल्पविराम चिह्न ज्ञात कीजिए।

Options :

1. ✖ ;
2. ✖ ।
3. ✔ ,
4. ✖ ''

Sub-Section Number:	2
Sub-Section Id:	9983672190
Question Shuffling Allowed :	Yes

Question Id : 99836742349 Question Type : COMPREHENSION Sub Question Shuffling Allowed : Yes Group Comprehension  
Questions : No

Question Numbers : (96 to 100)

Question Label : Comprehension

गद्यांश को ध्यानपूर्वक पढ़ें तथा प्रत्येक प्रश्न के चार विकल्पों में से सही विकल्प चुनें।

जीवन में सत्य का बहुत महत्त्व है। शास्त्रों में कहा गया है कि सत्य का मार्ग धर्म का मार्ग होता है। महाभारत के युद्ध में पांडवों की जीत इसलिए हुई थी क्योंकि वे सत्य का मार्ग अपना रहे थे। सत्य के मार्ग को धर्म का मार्ग कहा जाता है। ऐसा कहा जाता है कि तीन चीजें छुपाए नहीं छुपती- सूरज, चंद्रमा और सत्या। जो लोग सत्य का, न्याय का पक्ष लेते हैं उनकी प्रशंसा सभी लोग करते हैं। सत्य का साथ देने वालों को इतिहास स्वर्णिम पन्नों पर दर्ज करता है। परंतु जो लोग झूठ, असत्य का साथ देते हैं उनकी चारों ओर आलोचना होती है। सत्य का महत्त्व तब ही है जब सत्य को जीवन में मन, वचन, कर्म से स्वीकार किया जाये तथा प्रयोग किया जाये। सत्य की महिमा का बखान करना, सत्य के विषय में उपदेश देना जितना सरल है, जीवन में सत्य का आचरण करना उतना ही कठिन है। सत्य का आचरण करने वाला व्यक्ति ही सामाजिक जीवन में प्रतिष्ठा एवं सम्मान प्राप्त करता है। सत्य के आचरण के आधार पर ही हम एक-दूसरे पर विश्वास करते हैं। परस्पर विश्वास की नींव पर ही सम्पूर्ण समाज की रचना टिकी हुई है। सत्य मानव की सबसे बड़ी शक्ति है। सत्य परेशान हो सकता है लेकिन पराजित नहीं हो सकता। हमारे देश में तो राजा हरिश्चन्द्र जैसे सत्यवादी हुए हैं, जिनकी मिसाल आज तक दी जाती है। सत्यवादी राजा हरिश्चन्द्र ने सत्य के मार्ग पर चलने की प्रतिज्ञा की थी और आजीवन उसका पालन किया। उनका कहना था, - चन्द्र टरै, सूरज टरै, टरै जगत पहली पंक्ति - व्यवहारा दूसरी पंक्ति - चन्द्र - टरै, सूरज टरै, टरै - जगत व्यवहार, पै दृढ़ हरिश्चन्द्र को टरै न सत्य विचारा।

Sub questions

Question Number : 96 Question Id : 99836742350 Question Type : MCQ Option Shuffling : Yes Display Question Number : Yes  
Single Line Question Option : No Option Orientation : Vertical

Correct Marks : 1 Wrong Marks : 0.25

जीवन में कौन से मार्ग का बहुत महत्त्व है?

Options :

1. ✖ झूठ
2. ✔ सत्य
3. ✖ विरोधी

4. ✖ असत्य

Question Number : 97 Question Id : 99836742351 Question Type : MCQ Option Shuffling : Yes Display Question Number : Yes  
Single Line Question Option : No Option Orientation : Vertical

Correct Marks : 1 Wrong Marks : 0.25

आज भी कौन-से विद्वान को सत्यवादी के नाम से जाना जाता है?

Options :

1. ✖ कालिदास

2. ✖ पांडवों

3. ✖ जयशंकर प्रसाद

4. ✔ हरिश्चन्द्र

Question Number : 98 Question Id : 99836742352 Question Type : MCQ Option Shuffling : Yes Display Question Number : Yes  
Single Line Question Option : No Option Orientation : Vertical

Correct Marks : 1 Wrong Marks : 0.25

सत्य के मार्ग को कौन-सा मार्ग कहा जाता है?

Options :

1. ✖ आलोचना का मार्ग

2. ✖ अन्याय का मार्ग

3. ✖ प्रशंसा का मार्ग

4. ✔ धर्म का मार्ग

Question Number : 99 Question Id : 99836742353 Question Type : MCQ Option Shuffling : Yes Display Question Number : Yes  
Single Line Question Option : No Option Orientation : Vertical

Correct Marks : 1 Wrong Marks : 0.25

सत्य का आचरण करने वाला व्यक्ति सामाजिक जीवन में क्या प्राप्त करता है?

Options :

1. ✖ अनादर एवं अन्याय

2. ✖ आलोचना एवं असत्य

3. ✔ प्रतिष्ठा एवं सम्मान

4. ✖ विश्वास एवं अपराध

Question Number : 100 Question Id : 99836742354 Question Type : MCQ Option Shuffling : Yes Display Question Number : Yes  
Single Line Question Option : No Option Orientation : Vertical

Correct Marks : 1 Wrong Marks : 0.25

उपर्युक्त गद्यांश का उपयुक्त शीर्षक क्या होगा?

Options :

1. ✔ सत्य का मार्ग

2. ✖ कठिनाई का मार्ग

3. ✖ असफलता का मार्ग

4. ✖ अन्याय का मार्ग

Question Id : 99836742349 Question Type : COMPREHENSION Sub Question Shuffling Allowed : Yes Group Comprehension  
Questions : No

Question Numbers : (96 to 100)

Question Label : Comprehension

गद्यांश को ध्यानपूर्वक पढ़ें तथा प्रत्येक प्रश्न के चार विकल्पों में से सही विकल्प चुनें

जीवन में सत्य का बहुत महत्त्व है। शास्त्रों में कहा गया है कि सत्य का मार्ग धर्म का मार्ग होता है। महाभारत के युद्ध में पांडवों की जीत इसलिए हुई थी क्योंकि वे सत्य का मार्ग अपना रहे थे। सत्य के मार्ग को धर्म का मार्ग कहा जाता है। ऐसा कहा जाता है कि तीन चीजें छुपाए नहीं छुपती- सूरज, चंद्रमा और सत्या जो लोग सत्य का, न्याय का पक्ष लेते हैं उनकी प्रशंसा सभी लोग करते हैं। सत्य का साथ देने वालों को इतिहास स्वर्णिम पन्नों पर दर्ज करता है। परंतु जो लोग झूठ, असत्य का साथ देते हैं उनकी चारों ओर आलोचना होती है। सत्य का महत्त्व तब ही है जब सत्य को जीवन में मन, वचन, कर्म से स्वीकार किया जायें तथा प्रयोग किया जायें। सत्य की महिमा का बखान करना, सत्य के विषय में उपदेश देना जितना सरल है, जीवन में सत्य का आचरण करना उतना ही कठिन है। सत्य का आचरण करने वाला व्यक्ति ही सामाजिक जीवन में प्रतिष्ठा एवं सम्मान प्राप्त करता है। सत्य के आचरण के आधार पर ही हम एक-दूसरे पर विश्वास करते हैं। परस्पर विश्वास की नींव पर ही सम्पूर्ण समाज की रचना टिकी हुई है। सत्य मानव की सबसे बड़ी शक्ति है। सत्य परेशान हो सकता है लेकिन पराजित नहीं हो सकता। हमारे देश में तो राजा हरिश्चन्द्र जैसे सत्यवादी हुए हैं, जिनकी मिसाल आज तक दी जाती है। सत्यवादी राजा हरिश्चन्द्र ने सत्य के मार्ग पर चलने की प्रतिज्ञा की थी और आजीवन उसका पालन किया। उनका कहना था, - चन्द्र टरै, सूरज टरै, टरै जगत पहली पंक्ति - व्यवहारा दूसरी पंक्ति - चन्द्र - टरै, सूरज टरै, टरै - जगत व्यवहार, पै दृढ़ हरिश्चन्द्र को टरै न सत्य विचारा

**Sub questions**

**Question Number : 96 Question Id : 99836742350 Question Type : MCQ Option Shuffling : Yes Display Question Number : Yes**  
**Single Line Question Option : No Option Orientation : Vertical**

**Correct Marks : 1 Wrong Marks : 0.25**

जीवन में कौन से मार्ग का बहुत महत्त्व है?

**Options :**

1. ✖ झूठ
2. ✔ सत्य
3. ✖ विरोधी
4. ✖ असत्य

**Question Number : 97 Question Id : 99836742351 Question Type : MCQ Option Shuffling : Yes Display Question Number : Yes**  
**Single Line Question Option : No Option Orientation : Vertical**

**Correct Marks : 1 Wrong Marks : 0.25**

आज भी कौन-से विद्वान को सत्यवादी के नाम से जाना जाता है?

**Options :**

1. ✖ कालिदास
2. ✖ पांडवों
3. ✖ जयशंकर प्रसाद
4. ✔ हरिश्चन्द्र

**Question Number : 98 Question Id : 99836742352 Question Type : MCQ Option Shuffling : Yes Display Question Number : Yes**  
**Single Line Question Option : No Option Orientation : Vertical**

**Correct Marks : 1 Wrong Marks : 0.25**

सत्य के मार्ग को कौन-सा मार्ग कहा जाता है?

**Options :**

1. ✖ आलोचना का मार्ग
2. ✖ अन्याय का मार्ग
3. ✖ प्रशंसा का मार्ग
4. ✔ धर्म का मार्ग

**Question Number : 99 Question Id : 99836742353 Question Type : MCQ Option Shuffling : Yes Display Question Number : Yes**  
**Single Line Question Option : No Option Orientation : Vertical**

**Correct Marks : 1 Wrong Marks : 0.25**

सत्य का आचरण करने वाला व्यक्ति सामाजिक जीवन में क्या प्राप्त करता है?

**Options :**

1. ✖ अनादर एवं अन्याय
2. ✖ आलोचना एवं असत्य



3. ✓ प्रतिष्ठा एवं सम्मान
4. ✗ विश्वास एवं अपराध

Question Number : 100 Question Id : 99836742354 Question Type : MCQ Option Shuffling : Yes Display Question Number : Yes  
Single Line Question Option : No Option Orientation : Vertical

Correct Marks : 1 Wrong Marks : 0.25

उपर्युक्त गद्यांश का उपयुक्त शीर्षक क्या होगा?

Options :

1. ✓ सत्य का मार्ग
2. ✗ कठिनाई का मार्ग
3. ✗ असफलता का मार्ग
4. ✗ अन्याय का मार्ग

#### Discipline1

Group Number :	6
Group Id :	9983671366
Group Maximum Duration :	0
Group Minimum Duration :	0
Revisit allowed for view? :	No
Revisit allowed for edit? :	No
Break time:	0
Group Marks:	20
Revisit allowed for group Instructions? :	Yes
Maximum Instruction Time:	0
Minimum Instruction Time:	0

#### Discipline1

Section Id :	9983671765
Section Number :	1
Section type :	Online
Mandatory or Optional:	Mandatory
Number of Questions:	20
Number of Questions to be attempted:	20
Section Marks:	20
Display Number Panel:	Yes
Group All Questions:	No

Sub-Section Number:	1
Sub-Section Id:	9983672191
Question Shuffling Allowed :	Yes

Question Number : 101 Question Id : 99836742355 Question Type : MCQ Option Shuffling : Yes Display Question Number : Yes  
Single Line Question Option : No Option Orientation : Vertical

Correct Marks : 1 Wrong Marks : 0.25

Which of the following is NOT a type of verbal creativity in children?

Options :

1. ✓ Using a gadget

2. ✖ Composing music
3. ✖ Narrating stories
4. ✖ Singing

Question Number : 101 Question Id : 99836742355 Question Type : MCQ Option Shuffling : Yes Display Question Number : Yes  
Single Line Question Option : No Option Orientation : Vertical

Correct Marks : 1 Wrong Marks : 0.25

निम्नलिखित में से कौन सा बच्चों में मौखिक रचनात्मकता का एक प्रकार नहीं है?

Options :

1. ✔ गैजेट का उपयोग करना
2. ✖ संगीत की रचना करना
3. ✖ कहानियों का वर्णन करना
4. ✖ गायन

Question Number : 102 Question Id : 99836742356 Question Type : MCQ Option Shuffling : Yes Display Question Number : Yes  
Single Line Question Option : No Option Orientation : Vertical

Correct Marks : 1 Wrong Marks : 0.25

Which of the following colours is assigned to focuses on feelings, intuition, emotion according to 'Six Thinking Hats'?

Options :

1. ✔ Red
2. ✖ White
3. ✖ Yellow
4. ✖ Blue

Question Number : 102 Question Id : 99836742356 Question Type : MCQ Option Shuffling : Yes Display Question Number : Yes  
Single Line Question Option : No Option Orientation : Vertical

Correct Marks : 1 Wrong Marks : 0.25

'सिक्स थिंकिंग हैट्स' के अनुसार निम्नलिखित में से कौन सा रंग भावनाओं, अंतर्ज्ञान, भावना पर केंद्रित के लिए नियुक्त है?

Options :

1. ✔ लाल
2. ✖ सफेद
3. ✖ पीला
4. ✖ नीला

Question Number : 103 Question Id : 99836742357 Question Type : MCQ Option Shuffling : Yes Display Question Number : Yes  
Single Line Question Option : No Option Orientation : Vertical

Correct Marks : 1 Wrong Marks : 0.25

Which of the following type of Passi Test for creativity has 4 questions and students are asked to write the defects and problems of a past card, chapel and the like?

Options :

1. ✔ Seeing problems uses test
2. ✖ Unusual uses test
3. ✖ Persistency test
4. ✖ Inquisitiveness test

Question Number : 103 Question Id : 99836742357 Question Type : MCQ Option Shuffling : Yes Display Question Number : Yes  
Single Line Question Option : No Option Orientation : Vertical

Correct Marks : 1 Wrong Marks : 0.25

रचनात्मकता के लिए पासी परीक्षण में निम्नलिखित में से किस परीक्षण के 4 प्रश्न होते हैं और छात्रों से पास्ट कार्ड, चैपल और इसी प्रकार के दोषों और समस्याओं को लिखने के लिए कहा जाता है?

Options :

1. ☒ सीईंग प्रॉब्लम यूज़ेस टेस्ट
2. ☐ अनयूजुअल यूज़ेस टेस्ट
3. ☐ दृढ़ता परीक्षण (पेरसिसटेंसीय टेस्ट)
4. ☐ जिज्ञासा परीक्षण (इन्किज़िटिवेनेस्स टेस्ट)

Question Number : 104 Question Id : 99836742358 Question Type : MCQ Option Shuffling : Yes Display Question Number : Yes  
Single Line Question Option : No Option Orientation : Vertical

Correct Marks : 1 Wrong Marks : 0.25

Which of the following devices can be used for improving the power of thinking?

- I. Models of teaching
- II. Remedial teaching and instruction
- III. Curriculum development
- IV. Evaluation and diagnosis

Options :

1. ☐ I, II and III
2. ☐ II, III and IV
3. ☐ I, III and IV
4. ☒ I, II, III and IV

Question Number : 104 Question Id : 99836742358 Question Type : MCQ Option Shuffling : Yes Display Question Number : Yes  
Single Line Question Option : No Option Orientation : Vertical

Correct Marks : 1 Wrong Marks : 0.25

निम्नलिखित में से किस उपकरण का उपयोग सोचने की शक्ति में सुधार के लिए किया जा सकता है?

- I. अधिगम के मॉडल
- II. उपचारात्मक शिक्षण और निर्देश
- III. पाठ्यक्रम परिवर्द्धन
- IV. मूल्यांकन और निदान

Options :

1. ☐ I, II तथा III
2. ☐ II, III तथा IV
3. ☐ I, III तथा IV
4. ☒ I, II, III तथा IV

Question Number : 105 Question Id : 99836742359 Question Type : MCQ Option Shuffling : Yes Display Question Number : Yes  
Single Line Question Option : No Option Orientation : Vertical

Correct Marks : 1 Wrong Marks : 0.25

Which of the following is NOT one of the steps involved in decision making process?

Options :

1. ☐ Make decision or choose an alternative
2. ☐ research and identify options
3. ☒ change the desired outcome
4. ☐ evaluate results

Question Number : 105 Question Id : 99836742359 Question Type : MCQ Option Shuffling : Yes Display Question Number : Yes  
Single Line Question Option : No Option Orientation : Vertical

Correct Marks : 1 Wrong Marks : 0.25

निम्नलिखित में से कौन सा निर्णय लेने की प्रक्रिया में शामिल चरणों में से एक नहीं है?

Options :

1. ✖ निर्णय लेना या एक अनुकल्पी को चुनना
2. ✖ अनुसंधान तथा विकल्पों की पहचान करना
3. ✔ वांछित परिणाम को बदलना
4. ✖ परिणामों का मूल्यांकन करना

Question Number : 106 Question Id : 99836742360 Question Type : MCQ Option Shuffling : Yes Display Question Number : Yes  
Single Line Question Option : No Option Orientation : Vertical

Correct Marks : 1 Wrong Marks : 0.25

Which of the following is NOT one of the major stages of development in children?

Options :

1. ✖ Infancy
2. ✔ Adult
3. ✖ Later childhood
4. ✖ Adolescence

Question Number : 106 Question Id : 99836742360 Question Type : MCQ Option Shuffling : Yes Display Question Number : Yes  
Single Line Question Option : No Option Orientation : Vertical

Correct Marks : 1 Wrong Marks : 0.25

निम्नलिखित में से कौन सा बच्चों में विकास के प्रमुख चरणों में से एक नहीं है?

Options :

1. ✖ शैशव
2. ✔ वयस्क
3. ✖ बाद का बचपन
4. ✖ किशोरावस्था

Question Number : 107 Question Id : 99836742361 Question Type : MCQ Option Shuffling : Yes Display Question Number : Yes  
Single Line Question Option : No Option Orientation : Vertical

Correct Marks : 1 Wrong Marks : 0.25

Which of the following types of question require the students to design and redesign which involve good deal of innovation?

Options :

1. ✔ Future problem solving questions
2. ✖ Questions challenging assumptions
3. ✖ Diverged questions
4. ✖ Questions seeking new relationships

Question Number : 107 Question Id : 99836742361 Question Type : MCQ Option Shuffling : Yes Display Question Number : Yes  
Single Line Question Option : No Option Orientation : Vertical

Correct Marks : 1 Wrong Marks : 0.25

निम्नलिखित में से किस प्रकार के प्रश्न के लिए छात्रों को डिज़ाइन करने और नया स्वरूप देने की आवश्यकता होती है, जिसमें नवाचारों का अच्छा समावेश होता है?

Options :

1. ✔ भविष्य की समस्या हल करने वाले प्रश्न
2. ✖ मान्यताओं को चुनौती देने वाले सवाल
3. ✖ उलझे हुए सवाल
4. ✖ नए रिश्तों को खोजते सवाल

Question Number : 108 Question Id : 99836742362 Question Type : MCQ Option Shuffling : Yes Display Question Number : Yes  
Single Line Question Option : No Option Orientation : Vertical

Correct Marks : 1 Wrong Marks : 0.25

Which of the following is/are guideline(s) to enhance questioning skills among children in classroom?

- I. Provide good halting times
- II. Develop sensitive listening techniques
- III. Develop silent time

Options :

- 1. ✖ Both I and II
- 2. ✖ Both II and III
- 3. ✖ Both I and III
- 4. ✔ I, II and III

Question Number : 108 Question Id : 99836742362 Question Type : MCQ Option Shuffling : Yes Display Question Number : Yes  
Single Line Question Option : No Option Orientation : Vertical

Correct Marks : 1 Wrong Marks : 0.25

निम्नलिखित में से कौन-सा/से कक्षा में बच्चों के बीच पूछने के कौशल को बढ़ाने के लिए दिशा-निर्देश है/ हैं?

- I. होल्टिंग का अच्छा समय प्रदान करना
- II. सुनने की संवेदनशील तकनीक विकसित करना
- III. मौन समय का विकास करना

Options :

- 1. ✖ I तथा II दोनों
- 2. ✖ II तथा III दोनों
- 3. ✖ I तथा III दोनों
- 4. ✔ I, II तथा III

Question Number : 109 Question Id : 99836742363 Question Type : MCQ Option Shuffling : Yes Display Question Number : Yes  
Single Line Question Option : No Option Orientation : Vertical

Correct Marks : 1 Wrong Marks : 0.25

Which of the following instructional material to foster creativity is used in which children are given impossible situations and are asked when such a thing happens what would be the consequences?

Options :

- 1. ✖ Situational instructions
- 2. ✖ Consequences trivia
- 3. ✖ Situational question technique
- 4. ✔ Consequences situation

Question Number : 109 Question Id : 99836742363 Question Type : MCQ Option Shuffling : Yes Display Question Number : Yes  
Single Line Question Option : No Option Orientation : Vertical

Correct Marks : 1 Wrong Marks : 0.25

रचनात्मकता को बढ़ावा देने के लिए निम्नलिखित में से कौन सी अनुदेशात्मक सामग्री का उपयोग किया जाता है जिसमें बच्चों को असंभव परिस्थितियां दी जाती हैं और उनसे पूछा जाता है कि जब ऐसा होता है तो इसके परिणाम क्या होंगे?

Options :

- 1. ✖ स्थिति संबंधी निर्देश
- 2. ✖ परिणाम सामान्य ज्ञान
- 3. ✖ परिस्थितिजन्य प्रश्न तकनीक
- 4. ✔ परिणाम की स्थिति

Question Number : 110 Question Id : 99836742364 Question Type : MCQ Option Shuffling : Yes Display Question Number : Yes  
Single Line Question Option : No Option Orientation : Vertical

Correct Marks : 1 Wrong Marks : 0.25

Which of the following is/are internal factor(s) on the growth and development of children?

- I. Emotional factors
- II. Intelligence
- III. Heredity factors
- IV. Biological and constitutional factors

Options :

- 1. ✖ I, II and III
- 2. ✖ II, III and IV
- 3. ✖ I, III and IV
- 4. ✔ I, II, III and IV

Question Number : 110 Question Id : 99836742364 Question Type : MCQ Option Shuffling : Yes Display Question Number : Yes  
Single Line Question Option : No Option Orientation : Vertical

Correct Marks : 1 Wrong Marks : 0.25

निम्नलिखित में से कौन सा/ से बच्चों की वृद्धि और विकास में आंतरिक कारक है?

- I. भावनात्मक कारक
- II. बुद्धिमत्ता
- III. आनुवंशिकता कारक
- IV. जैविक और संवैधानिक कारक

Options :

- 1. ✖ I, II तथा III
- 2. ✖ II, III तथा IV
- 3. ✖ I, III तथा IV
- 4. ✔ I, II, III तथा IV

Question Number : 111 Question Id : 99836742365 Question Type : MCQ Option Shuffling : Yes Display Question Number : Yes  
Single Line Question Option : No Option Orientation : Vertical

Correct Marks : 1 Wrong Marks : 0.25

\_\_\_\_\_ is a basic unit of any community and society which acts as joining institution between individual and society.

Options :

- 1. ✖ Religion
- 2. ✔ Family
- 3. ✖ Economy
- 4. ✖ Polity

Question Number : 111 Question Id : 99836742365 Question Type : MCQ Option Shuffling : Yes Display Question Number : Yes  
Single Line Question Option : No Option Orientation : Vertical

Correct Marks : 1 Wrong Marks : 0.25

\_\_\_\_\_ किसी भी समुदाय तथा समाज की एक मौलिक इकाई है जो व्यक्ति तथा समाज को जोड़ने वाली संस्था का कार्य करता है।

Options :

- 1. ✖ धर्म
- 2. ✔ परिवार
- 3. ✖ अर्थव्यवस्था
- 4. ✖ राजनीति

Question Number : 112 Question Id : 99836742366 Question Type : MCQ Option Shuffling : Yes Display Question Number : Yes  
Single Line Question Option : No Option Orientation : Vertical

Correct Marks : 1 Wrong Marks : 0.25

According to John Dewey, which of the functions are performed by education to the society?

- I. Transmission of culture
- II. Reduce inequality and disparity
- III. Social mobility and social change

Options :

- 1. ✖ I and II
- 2. ✖ II and III
- 3. ✖ I and III
- 4. ✔ I, II and III

Question Number : 112 Question Id : 99836742366 Question Type : MCQ Option Shuffling : Yes Display Question Number : Yes  
Single Line Question Option : No Option Orientation : Vertical

Correct Marks : 1 Wrong Marks : 0.25

जॉन ड्यूई के अनुसार, शिक्षा द्वारा समाज के लिए कौन से कार्य किए जाते हैं?

- I. संस्कृति का संचारण
- II. असमानता तथा विषमता को कम करना
- III. सामाजिक गतिशीलता तथा सामाजिक परिवर्तन

Options :

- 1. ✖ I तथा II
- 2. ✖ II तथा III
- 3. ✖ I तथा III
- 4. ✔ I, II तथा III

Question Number : 113 Question Id : 99836742367 Question Type : MCQ Option Shuffling : Yes Display Question Number : Yes  
Single Line Question Option : No Option Orientation : Vertical

Correct Marks : 1 Wrong Marks : 0.25

\_\_\_\_\_ corresponds to the education process normally adopted by schools and universities.

Options :

- 1. ✔ Formal education
- 2. ✖ Non-formal education
- 3. ✖ Informal education
- 4. ✖ No-form education

Question Number : 113 Question Id : 99836742367 Question Type : MCQ Option Shuffling : Yes Display Question Number : Yes  
Single Line Question Option : No Option Orientation : Vertical

Correct Marks : 1 Wrong Marks : 0.25

\_\_\_\_\_ सामान्यतः विद्यालयों तथा विश्वविद्यालयों द्वारा अपनाई जाने वाली शिक्षा प्रक्रिया के अनुरूप होती है।

Options :

- 1. ✔ औपचारिक शिक्षा
- 2. ✖ गैर-औपचारिक शिक्षा
- 3. ✖ अनौपचारिक शिक्षा
- 4. ✖ नो-फॉर्म शिक्षा

Question Number : 114 Question Id : 99836742368 Question Type : MCQ Option Shuffling : Yes Display Question Number : Yes  
Single Line Question Option : No Option Orientation : Vertical

Correct Marks : 1 Wrong Marks : 0.25

Which of the following can be a way for including community in the education process?

- I. Parent meetings at school.
- II. Involvement through the contribution of money, material and labour.

Options :

- 1. ✖ Only I
- 2. ✖ Only II
- 3. ✔ Both I and II
- 4. ✖ Neither I nor II

Question Number : 114 Question Id : 99836742368 Question Type : MCQ Option Shuffling : Yes Display Question Number : Yes  
Single Line Question Option : No Option Orientation : Vertical

Correct Marks : 1 Wrong Marks : 0.25

निम्नलिखित में से कौन सा शिक्षा प्रक्रिया में समुदाय को शामिल करने का एक तरीका हो सकता है?

- I. स्कूल में अभिभावक की बैठकें
- II. धन, सामग्री और श्रम के योगदान के माध्यम से भागीदारी

Options :

- 1. ✖ केवल I
- 2. ✖ केवल II
- 3. ✔ I तथा II दोनों
- 4. ✖ न तो I और न ही II

Question Number : 115 Question Id : 99836742369 Question Type : MCQ Option Shuffling : Yes Display Question Number : Yes  
Single Line Question Option : No Option Orientation : Vertical

Correct Marks : 1 Wrong Marks : 0.25

Which of the following is true for number of teachers for classes sixth to eight?

- I. Atleast one teacher for every thirty-five children.
- II. If admission is above 100, then a full-time head teacher is required.

Options :

- 1. ✖ Only I
- 2. ✖ Only II
- 3. ✔ Both I and II
- 4. ✖ Neither I nor II

Question Number : 115 Question Id : 99836742369 Question Type : MCQ Option Shuffling : Yes Display Question Number : Yes  
Single Line Question Option : No Option Orientation : Vertical

Correct Marks : 1 Wrong Marks : 0.25

छठी से आठवीं कक्षा के लिए शिक्षकों की संख्या के लिए निम्नलिखित में से कौन सी सही है?

- I. प्रत्येक पैंतीस बच्चों के लिए कम से कम एक शिक्षिका
- II. यदि प्रवेश 100 से ऊपर है, तो मुख्य शिक्षक की आवश्यकता है

Options :

- 1. ✖ केवल I
- 2. ✖ केवल II
- 3. ✔ I तथा II दोनों
- 4. ✖ न तो I और न ही II

Question Number : 116 Question Id : 99836742370 Question Type : MCQ Option Shuffling : Yes Display Question Number : Yes  
Single Line Question Option : No Option Orientation : Vertical



Correct Marks : 1 Wrong Marks : 0.25

Which of the following is NOT true about duties of local authority according to Right to Education Act, 2009?

- I. Provide school building, teaching staff and learning material
- II. Decide the academic calendar

Options :

- 1. ✖ Only I
- 2. ✖ Only II
- 3. ✖ Both I and II
- 4. ✔ Neither I nor II

Question Number : 116 Question Id : 99836742370 Question Type : MCQ Option Shuffling : Yes Display Question Number : Yes  
Single Line Question Option : No Option Orientation : Vertical

Correct Marks : 1 Wrong Marks : 0.25

शिक्षा का अधिकार अधिनियम, 2009 के अनुसार स्थानीय प्राधिकरण के कर्तव्यों के बारे में निम्नलिखित में से कौन सा सही नहीं है?

- I. स्कूल भवन, शिक्षण स्टाफ और शिक्षण सामग्री प्रदान करें
- II. शैक्षणिक कैलेंडर तय करें

Options :

- 1. ✖ केवल I
- 2. ✖ केवल II
- 3. ✖ I तथा II दोनों
- 4. ✔ न तो I और न ही II

Question Number : 117 Question Id : 99836742371 Question Type : MCQ Option Shuffling : Yes Display Question Number : Yes  
Single Line Question Option : No Option Orientation : Vertical

Correct Marks : 1 Wrong Marks : 0.25

Which of the following is NOT a type of learning?

Options :

- 1. ✖ Cognitive
- 2. ✖ Psychomotor
- 3. ✔ Effective
- 4. ✖ Discrimination

Question Number : 117 Question Id : 99836742371 Question Type : MCQ Option Shuffling : Yes Display Question Number : Yes  
Single Line Question Option : No Option Orientation : Vertical

Correct Marks : 1 Wrong Marks : 0.25

निम्नलिखित में से कौन सा अधिगम का एक प्रकार नहीं है?

Options :

- 1. ✖ संज्ञानात्मक
- 2. ✖ मनोप्रेरणा
- 3. ✔ प्रभावी
- 4. ✖ पक्षपात

Question Number : 118 Question Id : 99836742372 Question Type : MCQ Option Shuffling : Yes Display Question Number : Yes  
Single Line Question Option : No Option Orientation : Vertical

Correct Marks : 1 Wrong Marks : 0.25

Which of the following is true according to Gandhi Ji?

- I. Teacher who use textbooks doesn't impart originality
- II. Textbooks if used as vehicle of education, provide value to teaching

Options :

- 1. ✓ Only I
- 2. ✗ Only II
- 3. ✗ Both I and II
- 4. ✗ Neither I nor II

Question Number : 118 Question Id : 99836742372 Question Type : MCQ Option Shuffling : Yes Display Question Number : Yes  
Single Line Question Option : No Option Orientation : Vertical

Correct Marks : 1 Wrong Marks : 0.25

गांधी जी के अनुसार निम्नलिखित में से कौन सा सही है?

- I. शिक्षक जो पाठ्यपुस्तकों का उपयोग करते हैं, वे मौलिकता प्रदान नहीं करते हैं
- II. पाठ्यपुस्तक यदि शिक्षा के वाहन के रूप में उपयोग की जाती है, तो शिक्षण को मूल्य प्रदान करती है

Options :

- 1. ✓ केवल I
- 2. ✗ केवल II
- 3. ✗ I तथा II दोनों
- 4. ✗ न तो I और न ही II

Question Number : 119 Question Id : 99836742373 Question Type : MCQ Option Shuffling : Yes Display Question Number : Yes  
Single Line Question Option : No Option Orientation : Vertical

Correct Marks : 1 Wrong Marks : 0.25

According to \_\_\_\_\_, polity is mainly concern with division of power and authority in society.

Options :

- 1. ✓ T.B. Bottomore
- 2. ✗ Karl Marx
- 3. ✗ Emile Durkhiem
- 4. ✗ Talcott Parsons

Question Number : 119 Question Id : 99836742373 Question Type : MCQ Option Shuffling : Yes Display Question Number : Yes  
Single Line Question Option : No Option Orientation : Vertical

Correct Marks : 1 Wrong Marks : 0.25

\_\_\_\_\_ के अनुसार, राजनीति मुख्यतः समाज में शक्ति तथा सत्ता के विभाजन से संबंधित है।

Options :

- 1. ✓ टी. बी. बोटोमोर
- 2. ✗ कार्ल मार्क्स
- 3. ✗ इमार्डिल दुर्खीम
- 4. ✗ टैल्कोट पार्सन्स

Question Number : 120 Question Id : 99836742374 Question Type : MCQ Option Shuffling : Yes Display Question Number : Yes  
Single Line Question Option : No Option Orientation : Vertical

Correct Marks : 1 Wrong Marks : 0.25

Which of the following is true about the right kind of education?

Options :

- 1. ✗ It encloses child into a framework.
- 2. ✗ It classifies child into various types.

3. ✖ It is based on a particular method.
4. ✔ It understands the child as he is

Question Number : 120 Question Id : 99836742374 Question Type : MCQ Option Shuffling : Yes Display Question Number : Yes  
Single Line Question Option : No Option Orientation : Vertical

Correct Marks : 1 Wrong Marks : 0.25

निम्नलिखित में से कौन सा उचित प्रकार की शिक्षा के सन्दर्भ में सही है?

Options :

1. ✖ यह बच्चे को एक रूपरेखा में बांधता है।
2. ✖ यह बच्चे को विभिन्न प्रकारों में वर्गीकृत करता है।
3. ✖ यह एक विशेष विधि पर आधारित है।
4. ✔ जैसे वह है उसी तरह यह बच्चे को समझता है।

Discipline2

Group Number :	7
Group Id :	9983671367
Group Maximum Duration :	0
Group Minimum Duration :	0
Revisit allowed for view? :	No
Revisit allowed for edit? :	No
Break time:	0
Group Marks:	20
Revisit allowed for group Instructions? :	Yes
Maximum Instruction Time:	0
Minimum Instruction Time:	0

Discipline2

Section Id :	9983671766
Section Number :	1
Section type :	Online
Mandatory or Optional:	Mandatory
Number of Questions:	20
Number of Questions to be attempted:	20
Section Marks:	20
Display Number Panel:	Yes
Group All Questions:	No

Sub-Section Number:	1
Sub-Section Id:	9983672192
Question Shuffling Allowed :	Yes

Question Number : 121 Question Id : 99836742375 Question Type : MCQ Option Shuffling : Yes Display Question Number : Yes  
Single Line Question Option : No Option Orientation : Vertical

Correct Marks : 1 Wrong Marks : 0.25

Which of the following statements is/are true?

- I. Learning a technique may provide us a job.
- II. Learning a technique may provide us with creativity.

Options :

1. ☒ Only I
2. ☐ Only II
3. ☐ Both I and II
4. ☐ Neither I nor II

Question Number : 121 Question Id : 99836742375 Question Type : MCQ Option Shuffling : Yes Display Question Number : Yes  
Single Line Question Option : No Option Orientation : Vertical

Correct Marks : 1 Wrong Marks : 0.25

निम्नलिखित में से कौन सा/से कथन सही है/हैं?

- I. एक शिल्प-कला अधिगम नौकरी प्रदान करवा सकता है।
- II. एक शिल्प-कला अधिगम रचनात्मकता प्रदान करवा सकता है।

Options :

1. ☒ केवल I
2. ☐ केवल II
3. ☐ I तथा II दोनों
4. ☐ न तो I और न ही II

Question Number : 122 Question Id : 99836742376 Question Type : MCQ Option Shuffling : Yes Display Question Number : Yes  
Single Line Question Option : No Option Orientation : Vertical

Correct Marks : 1 Wrong Marks : 0.25

Which of the following statements regarding motivation is correct?

- I. Extrinsic motivation refers to the performance of an activity in order to attain an outcome and comes from outside of the individual.
- II. Intrinsic motivation refers to motivation that is driven by an interest or enjoyment in the task itself and exists within individual.

Options :

1. ☐ Only I
2. ☐ Only II
3. ☒ Both I and II
4. ☐ Neither I nor II

Question Number : 122 Question Id : 99836742376 Question Type : MCQ Option Shuffling : Yes Display Question Number : Yes  
Single Line Question Option : No Option Orientation : Vertical

Correct Marks : 1 Wrong Marks : 0.25

प्रेरणा के संबंध में निम्नलिखित में से कौन सा कथन सही है?

- I. बाहरी प्रेरणा एक परिणाम प्राप्त करने के लिए एक गतिविधि के प्रदर्शन को संदर्भित करती है और व्यक्ति के बाहर से आती है।
- II. आंतरिक प्रेरणा कार्य में रुचि व आनंद से उत्पन्न होने वाली प्रेरणा को संदर्भित करती है तथा व्यक्ति में स्वतः उत्पन्न होती है।

Options :

1. ☐ केवल I
2. ☐ केवल II
3. ☒ I तथा II दोनों
4. ☐ न तो I और न ही II

Question Number : 123 Question Id : 99836742377 Question Type : MCQ Option Shuffling : Yes Display Question Number : Yes  
Single Line Question Option : No Option Orientation : Vertical

Correct Marks : 1 Wrong Marks : 0.25

Which of the following statement regarding Observational learning is correct?

- I. It is a key learning method for children when acquiring basic tasks such as language and cultural norms.
- II. In Observational learning, students think and judge and learn not only how to do certain things but also what the consequences of their action are likely to be.

Options :

- 1. ✖ Only I
- 2. ✖ Only II
- 3. ✔ Both I and II
- 4. ✖ Neither I nor II

Question Number : 123 Question Id : 99836742377 Question Type : MCQ Option Shuffling : Yes Display Question Number : Yes  
Single Line Question Option : No Option Orientation : Vertical

Correct Marks : 1 Wrong Marks : 0.25

अवलोकनात्मक अधिगम के संबंध में निम्नलिखित में से कौन सा कथन सही है?

- I. यह बच्चों के लिए भाषा तथा सांस्कृतिक सिद्धांतों को ग्रहण करने जैसे मौलिक क्रियाकलाप के लिए एक महत्वपूर्ण अधिगम विधि है।
- II. अवलोकनात्मक अधिगम में, छात्र सोचते तथा निर्णय करते हैं तथा न केवल कुछ चीजें करने का तरीका सीखते हैं, बल्कि यह भी सीखते हैं कि उनके कार्यों के परिणाम क्या होने की संभावना है।

Options :

- 1. ✖ केवल I
- 2. ✖ केवल II
- 3. ✔ I तथा II दोनों
- 4. ✖ न तो I और न ही II

Question Number : 124 Question Id : 99836742378 Question Type : MCQ Option Shuffling : Yes Display Question Number : Yes  
Single Line Question Option : No Option Orientation : Vertical

Correct Marks : 1 Wrong Marks : 0.25

Who is credited with originating Discovery Learning?

Options :

- 1. ✖ Paulo Friere
- 2. ✖ E.L. Thorndike
- 3. ✔ Jerome Bruner
- 4. ✖ Ivan Pavlov

Question Number : 124 Question Id : 99836742378 Question Type : MCQ Option Shuffling : Yes Display Question Number : Yes  
Single Line Question Option : No Option Orientation : Vertical

Correct Marks : 1 Wrong Marks : 0.25

खोज अधिगम की उत्पत्ति का श्रेय किसे दिया जाता है?

Options :

- 1. ✖ पाउलो फ्रेयर
- 2. ✖ ई. एल. थॉर्नडाइक
- 3. ✔ जेरोम ब्रूनर
- 4. ✖ इवान पावलोव

Question Number : 125 Question Id : 99836742379 Question Type : MCQ Option Shuffling : Yes Display Question Number : Yes  
Single Line Question Option : No Option Orientation : Vertical

Correct Marks : 1 Wrong Marks : 0.25

What is your role as a teacher to facilitate meaning making learning?

I. You need to create a congenial environment in the classroom and school.

II. You should record each student's perception of the issue on the blackboard so that all the statements are visible to all students.

Options :

1. ✖ Only I
2. ✖ Only II
3. ✔ Both I and II
4. ✖ Neither I nor II

Question Number : 125 Question Id : 99836742379 Question Type : MCQ Option Shuffling : Yes Display Question Number : Yes  
Single Line Question Option : No Option Orientation : Vertical

Correct Marks : 1 Wrong Marks : 0.25

अर्थ निर्माण के रूप में अधिगम को बढ़ावा देने के लिए एक शिक्षक के रूप में आपकी क्या भूमिका है?

I. आपको कक्षा तथा विद्यालय में एक सौहार्दपूर्ण वातावरण का सृजन करने की आवश्यकता है।

II. आपको विषय पर प्रत्येक बच्चे की धारणा को ब्लैक बोर्ड पर रिकॉर्ड करना चाहिए ताकि सभी बच्चे सभी कथनों को देखें।

Options :

1. ✖ केवल I
2. ✖ केवल II
3. ✔ I तथा II दोनों
4. ✖ न तो I और न ही II

Question Number : 126 Question Id : 99836742380 Question Type : MCQ Option Shuffling : Yes Display Question Number : Yes  
Single Line Question Option : No Option Orientation : Vertical

Correct Marks : 1 Wrong Marks : 0.25

\_\_\_\_\_ provides a comprehensive picture of cognitive development from birth to the age of 14 or 15 years when cognitive development attains the peak.

Options :

1. ✖ Pavlov Theory
2. ✔ Piaget's Theory
3. ✖ B. F. Skinner Theory
4. ✖ Bandura Theory

Question Number : 126 Question Id : 99836742380 Question Type : MCQ Option Shuffling : Yes Display Question Number : Yes  
Single Line Question Option : No Option Orientation : Vertical

Correct Marks : 1 Wrong Marks : 0.25

\_\_\_\_\_ संज्ञानात्मक विकास की जन्म से लेकर 14 से 15 वर्ष की आयु तक की विस्तृत तस्वीर प्रदान करता है जब संज्ञानात्मक विकास चर्म सीमा पर होता है।

Options :

1. ✖ पावलोव का सिद्धांत
2. ✔ प्याजे का सिद्धांत
3. ✖ बी. एफ. स्किनर का सिद्धांत
4. ✖ बंडुरा का सिद्धांत

Question Number : 127 Question Id : 99836742381 Question Type : MCQ Option Shuffling : Yes Display Question Number : Yes  
Single Line Question Option : No Option Orientation : Vertical

Correct Marks : 1 Wrong Marks : 0.25

What may be the reason behind you choosing teacher centred approach of teaching students in the classroom?

- I. When the size of classroom is large with a large number of students, it is the only feasible method of teaching
- II. There are quite a large number of new, unfamiliar or abstract concepts for the learner which cannot be learnt easily when left to the students themselves

Options :

- 1. ✖ Only I
- 2. ✖ Only II
- 3. ✔ Both I and II
- 4. ✖ Neither I nor II

Question Number : 127 Question Id : 99836742381 Question Type : MCQ Option Shuffling : Yes Display Question Number : Yes  
Single Line Question Option : No Option Orientation : Vertical

Correct Marks : 1 Wrong Marks : 0.25

कक्षा में छात्रों को पढ़ाने के लिए अध्यापक केंद्रित उपागम चुनने के पीछे क्या कारण हो सकता है?

- I. जब बड़ी संख्या में छात्रों के साथ कक्षा का आकार बड़ा होता है, तो यह शिक्षण की एकमात्र व्यवहार्य विधि बन जाती है
- II. बच्चों के लिए पर्याप्त संख्या में नई, अपरिचित या अमूर्त अवधारणाएं हैं जिनको यदि छात्रों के लिए छोड़ दिया जाए तो उन्हें आसानी से सीखा नहीं जा सकता है

Options :

- 1. ✖ केवल I
- 2. ✖ केवल II
- 3. ✔ I तथा II दोनों
- 4. ✖ न तो I और न ही II

Question Number : 128 Question Id : 99836742382 Question Type : MCQ Option Shuffling : Yes Display Question Number : Yes  
Single Line Question Option : No Option Orientation : Vertical

Correct Marks : 1 Wrong Marks : 0.25

Which of the following statement regarding constructivist approach for teaching-learning process is/are correct?

- I. Students work primarily in groups where learning and teaching are interactive and dynamic
- II. Activities are based on debate, intellectual participation and drawing conclusion.

Options :

- 1. ✖ Only I
- 2. ✖ Only II
- 3. ✔ Both I and II
- 4. ✖ Neither I nor II

Question Number : 128 Question Id : 99836742382 Question Type : MCQ Option Shuffling : Yes Display Question Number : Yes  
Single Line Question Option : No Option Orientation : Vertical

Correct Marks : 1 Wrong Marks : 0.25

शिक्षण-अधिगम प्रक्रिया के लिए संरचनात्मक उपागम के संबंध में निम्नलिखित में से कौन सा/से कथन सही है?

- I. विद्यार्थी मूलरूप से समूहों में काम करते हैं जिनमें शिक्षण तथा अधिगम अंतर्क्रियात्मक तथा गतिज होता है
- II. क्रियाकलाप वाद-विवाद, बौद्धिक सहभागिता तथा निष्कर्ष निकालने पर आधारित होते हैं

Options :

- 1. ✖ केवल I
- 2. ✖ केवल II
- 3. ✔ I तथा II दोनों
- 4. ✖ न तो I और न ही II

Question Number : 129 Question Id : 99836742383 Question Type : MCQ Option Shuffling : Yes Display Question Number : Yes  
Single Line Question Option : No Option Orientation : Vertical

Correct Marks : 1 Wrong Marks : 0.25

Which of the following is/are elements of a game in "Play-way method" of teaching?

- I. Cooperation and Collaboration
- II. Intrinsic Motivation
- III. Working without fear
- IV. Self - imposed discipline

Options :

- 1. ✖ I, II and III
- 2. ✖ I, II and IV
- 3. ✖ I, III and IV
- 4. ✔ I, II, III and IV

Question Number : 129 Question Id : 99836742383 Question Type : MCQ Option Shuffling : Yes Display Question Number : Yes  
Single Line Question Option : No Option Orientation : Vertical

Correct Marks : 1 Wrong Marks : 0.25

निम्नलिखित में से कौन सा/से शिक्षण के "क्रीड़ा-प्रणाली" विधि में खेल के तत्व हैं?

- I. सहयोग तथा सहभागिता
- II. आंतरिक प्रेरणा
- III. निर्भीक होकर कार्य करना
- IV. स्व-निर्धारित अनुशासन

Options :

- 1. ✖ I, II तथा III
- 2. ✖ I, II तथा IV
- 3. ✖ I, III तथा IV
- 4. ✔ I, II, III तथा IV

Question Number : 130 Question Id : 99836742384 Question Type : MCQ Option Shuffling : Yes Display Question Number : Yes  
Single Line Question Option : No Option Orientation : Vertical

Correct Marks : 1 Wrong Marks : 0.25

Who introduced Heuristic method for teaching science?

Options :

- 1. ✔ Prof. Henry Edward Armstrong
- 2. ✖ Ballord
- 3. ✖ John Alford Stevenson
- 4. ✖ Dr. William Head Kilpatrick

Question Number : 130 Question Id : 99836742384 Question Type : MCQ Option Shuffling : Yes Display Question Number : Yes  
Single Line Question Option : No Option Orientation : Vertical

Correct Marks : 1 Wrong Marks : 0.25

विज्ञान पढ़ाने के लिए ह्यूरिस्टिक विधि की शुरुआत किसने की थी?

Options :

- 1. ✔ प्रो. हेनरी एडवर्ड आर्मस्ट्रांग
- 2. ✖ बैलॉर्ड
- 3. ✖ जॉन अल्फोर्ड स्टीवेन्सन
- 4. ✖ डॉ. विलियम हेड किलपैट्रिक



Question Number : 131 Question Id : 99836742385 Question Type : MCQ Option Shuffling : Yes Display Question Number : Yes  
Single Line Question Option : No Option Orientation : Vertical

Correct Marks : 1 Wrong Marks : 0.25

According to Kolb's model, in \_\_\_\_\_ learning style, students prefer readings, lectures, exploring analytical models and having time to think things through.

Options :

1. ✖ diverging
2. ✔ assimilating
3. ✖ converging
4. ✖ accomodating

Question Number : 131 Question Id : 99836742385 Question Type : MCQ Option Shuffling : Yes Display Question Number : Yes  
Single Line Question Option : No Option Orientation : Vertical

Correct Marks : 1 Wrong Marks : 0.25

कोल्ब के मॉडल के अनुसार, \_\_\_\_\_ अधिगम शैली में, विद्यार्थी पढ़ना, व्याख्यान, विश्लेषणात्मक मॉडल का अन्वेषण तथा चीजों के बारे में सोचने का समय पसंद करते हैं।

Options :

1. ✖ अपसारी
2. ✔ आत्मसात्करण
3. ✖ अभिसारी
4. ✖ सामंजस्यीकरण

Question Number : 132 Question Id : 99836742386 Question Type : MCQ Option Shuffling : Yes Display Question Number : Yes  
Single Line Question Option : No Option Orientation : Vertical

Correct Marks : 1 Wrong Marks : 0.25

According to Weimer, what is the role of a teacher in learning centred teaching?

- I. Creating an environment that fosters students' learning
- II. Creating an environment that motivates students to accept responsibility for learning

Options :

1. ✖ Only I
2. ✖ Only II
3. ✔ Both I and II
4. ✖ Neither I nor II

Question Number : 132 Question Id : 99836742386 Question Type : MCQ Option Shuffling : Yes Display Question Number : Yes  
Single Line Question Option : No Option Orientation : Vertical

Correct Marks : 1 Wrong Marks : 0.25

वेइमर के अनुसार, अधिगम केंद्रित शिक्षण में शिक्षक की क्या भूमिका होती है?

- I. एक ऐसे वातावरण का सृजन करना जो विद्यार्थियों के अधिगम को बढ़ावा देता है
- II. एक ऐसे वातावरण का सृजन करना जो विद्यार्थियों को सीखने के लिए जिम्मेदारी स्वीकार करने के लिए प्रेरित करता है

Options :

1. ✖ केवल I
2. ✖ केवल II
3. ✔ I तथा II दोनों
4. ✖ न तो I और न ही II

Question Number : 133 Question Id : 99836742387 Question Type : MCQ Option Shuffling : Yes Display Question Number : Yes  
Single Line Question Option : No Option Orientation : Vertical

Correct Marks : 1 Wrong Marks : 0.25

Which of the following guidelines must a teacher follow for using Cooperative learning method in the classroom?

- I. Groups' composition should be heterogeneous by mixing students considering their academic achievement, sex and race
- II. Grade individual students's contributions
- III. Collaborative social skills must be taught, modelled and reinforced regularly

Options :

- 1. ✖ I and II
- 2. ✖ II and III
- 3. ✖ Only III
- 4. ✔ I, II and III

Question Number : 133 Question Id : 99836742387 Question Type : MCQ Option Shuffling : Yes Display Question Number : Yes  
Single Line Question Option : No Option Orientation : Vertical

Correct Marks : 1 Wrong Marks : 0.25

कक्षा में सहकारी अधिगम विधि का उपयोग करने के लिए अध्यापक को निम्नलिखित में से किन दिशा-निर्देशों का पालन करना चाहिए?

- I. विद्यार्थियों की शैक्षणिक योग्यताओं, लिंग तथा जाति को ध्यान में रखते हुए समूह की संरचना सम्मिश्र होनी चाहिए
- II. प्रत्येक विद्यार्थी के योगदान का श्रेणीकरण करना चाहिए
- III सहयोगात्मक सामाजिक कौशल को नियमित रूप से पढ़ाया, प्रतिमानित (मॉडल्ड) तथा प्रबलित किया जाना चाहिए

Options :

- 1. ✖ I तथा II
- 2. ✖ II तथा III
- 3. ✖ केवल III
- 4. ✔ I, II तथा III

Question Number : 134 Question Id : 99836742388 Question Type : MCQ Option Shuffling : Yes Display Question Number : Yes  
Single Line Question Option : No Option Orientation : Vertical

Correct Marks : 1 Wrong Marks : 0.25

When a teacher enters into activity based classroom, which of the following aspects convinces the teacher that the activity is going on properly?

- I. Children are totally involved in doing work without being distracted by the teacher's presence
- II. If students are asked about what they are doing they could clearly state the objectives and cause of doing that activity

Options :

- 1. ✖ Only I
- 2. ✖ Only II
- 3. ✔ Both I and II
- 4. ✖ Neither I nor II

Question Number : 134 Question Id : 99836742388 Question Type : MCQ Option Shuffling : Yes Display Question Number : Yes  
Single Line Question Option : No Option Orientation : Vertical

Correct Marks : 1 Wrong Marks : 0.25

जब एक अध्यापक क्रियाकलाप आधारित कक्षा में प्रवेश करता है, तो निम्नलिखित में से कौन सा पहलू अध्यापक को आश्चस्त करता है कि क्रियाकलाप उचित ढंग से चल रहा है?

- I. बच्चे अध्यापक की उपस्थिति से विचलित हुए बिना अपने कार्य में पूर्ण रूप से संलग्न रहते हैं
- II. यदि विद्यार्थियों से पूछा जाता है कि वे क्या कर रहे हैं तो वे स्पष्ट रूप से वर्णन कर सकें कि इस क्रियाकलाप को करने के क्या कारण हैं तथा इसका उद्देश्य क्या है

Options :

- 1. ✖ केवल I

2. ✖ केवल II
3. ✔ I तथा II दोनों
4. ✖ न तो I और न ही II

Question Number : 135 Question Id : 99836742389 Question Type : MCQ Option Shuffling : Yes Display Question Number : Yes  
Single Line Question Option : No Option Orientation : Vertical

Correct Marks : 1 Wrong Marks : 0.25

Which of the following is/are the features of group learning approach in teaching-learning process?

- I. Variety of ideas can be generated through brainstorming in the groups
- II. Wide range of skills can be acquired through sharing knowledge and experience
- III. Participation increases commitment of the students to the activity

Options :

1. ✖ I and II
2. ✖ II and III
3. ✖ I and III
4. ✔ I, II and III

Question Number : 135 Question Id : 99836742389 Question Type : MCQ Option Shuffling : Yes Display Question Number : Yes  
Single Line Question Option : No Option Orientation : Vertical

Correct Marks : 1 Wrong Marks : 0.25

निम्नलिखित में से क्या शिक्षण-अधिगम प्रक्रिया में समूह अधिगम उपागम की विशेषता/एं हैं?

- I. समूह में विचार-मंथन से विभिन्न प्रकार के विचारों का सृजन किया जा सकता है
- II. ज्ञान तथा अनुभव साझा करने से विस्तृत कौशल प्राप्त किए जा सकते हैं
- III. सहभागिता से विद्यार्थियों की क्रियाकलाप के प्रति प्रतिबद्धता बढ़ती है

Options :

1. ✖ I तथा II
2. ✖ II तथा III
3. ✖ I तथा III
4. ✔ I, II तथा III

Question Number : 136 Question Id : 99836742390 Question Type : MCQ Option Shuffling : Yes Display Question Number : Yes  
Single Line Question Option : No Option Orientation : Vertical

Correct Marks : 1 Wrong Marks : 0.25

Which of the following teaching aid is not a visual aid?

Options :

1. ✔ Films
2. ✖ Charts
3. ✖ Slides
4. ✖ Black board

Question Number : 136 Question Id : 99836742390 Question Type : MCQ Option Shuffling : Yes Display Question Number : Yes  
Single Line Question Option : No Option Orientation : Vertical

Correct Marks : 1 Wrong Marks : 0.25

निम्नलिखित में से कौन सी शिक्षण सहायक सामग्री दृश्य सहायक सामग्री नहीं है?

Options :

1. ✔ फिल्म
2. ✖ चार्ट
3. ✖ स्लाइड

#### 4. ✖ ब्लैक बोर्ड

Question Number : 137 Question Id : 99836742391 Question Type : MCQ Option Shuffling : Yes Display Question Number : Yes  
Single Line Question Option : No Option Orientation : Vertical

Correct Marks : 1 Wrong Marks : 0.25

Speech community consists of \_\_\_\_\_.

- I. people who speak a given language
- II. people who create political speeches for social cause
- III. people who give shape to the language they speak

Options :

- 1. ✖ II and III
- 2. ✔ I and III
- 3. ✖ I and II
- 4. ✖ I, II and III

Question Number : 137 Question Id : 99836742391 Question Type : MCQ Option Shuffling : Yes Display Question Number : Yes  
Single Line Question Option : No Option Orientation : Vertical

Correct Marks : 1 Wrong Marks : 0.25

वाक् समुदाय में \_\_\_\_\_ होते हैं।

- I. वे लोग जो एक दी गई भाषा बोलते हैं
- II. सामाजिक कारण के लिए राजनीतिक भाषण देने वाले लोग
- III. वे लोग जो अपनी भाषा को आकार देते हैं

Options :

- 1. ✖ II तथा III
- 2. ✔ I तथा III
- 3. ✖ I तथा II
- 4. ✖ I, II तथा III

Question Number : 138 Question Id : 99836742392 Question Type : MCQ Option Shuffling : Yes Display Question Number : Yes  
Single Line Question Option : No Option Orientation : Vertical

Correct Marks : 1 Wrong Marks : 0.25

Which of the following can be considered as the positive features of multilingualism in India?

- I. It encourages the acceptance of many languages in Indian communities
- II. Multilingualism tends to influence a person towards only "Hindi"
- III. It encourages children to avoid various different regional languages and focus on English

Options :

- 1. ✔ Only I
- 2. ✖ I and III
- 3. ✖ II and III
- 4. ✖ Only III

Question Number : 138 Question Id : 99836742392 Question Type : MCQ Option Shuffling : Yes Display Question Number : Yes  
Single Line Question Option : No Option Orientation : Vertical

Correct Marks : 1 Wrong Marks : 0.25

निम्नलिखित में से किसको भारत में बहुभाषावाद की सकारात्मक विशेषता/ओं के रूप में माना जा सकता है?

- I. यह भारतीय समुदायों में कई भाषाओं की स्वीकृति को प्रोत्साहित करता है
- II. बहुभाषावाद किसी व्यक्ति को केवल "हिंदी" की ओर प्रेरित करता है
- III. यह बच्चों को विभिन्न क्षेत्रीय भाषाओं से बचने तथा अंग्रेजी पर ध्यान केंद्रित करने के लिए प्रोत्साहित करता है

Options :

1. ☒ केवल I
2. ☐ I तथा III
3. ☐ II तथा III
4. ☐ केवल III

Question Number : 139 Question Id : 99836742393 Question Type : MCQ Option Shuffling : Yes Display Question Number : Yes  
Single Line Question Option : No Option Orientation : Vertical

Correct Marks : 1 Wrong Marks : 0.25

According to the constitution of India \_\_\_\_\_.

Options :

1. ☐ Hindi is the national language of India
2. ☐ English is the national language of India
3. ☒ Hindi written in Devnagri script is the official language of India
4. ☐ Hindi written in Devnagri script is the official language of all the states of India

Question Number : 139 Question Id : 99836742393 Question Type : MCQ Option Shuffling : Yes Display Question Number : Yes  
Single Line Question Option : No Option Orientation : Vertical

Correct Marks : 1 Wrong Marks : 0.25

भारत के संविधान के अनुसार \_\_\_\_\_।

Options :

1. ☐ हिंदी भारत की राष्ट्रीय भाषा है
2. ☐ अंग्रेजी भारत की राष्ट्रीय भाषा है
3. ☒ देवनागरी लिपि में लिखी गई हिंदी भारत की राजभाषा है
4. ☐ देवनागरी लिपि में लिखी गई हिंदी भारत के सभी राज्यों की राजभाषा है

Question Number : 140 Question Id : 99836742394 Question Type : MCQ Option Shuffling : Yes Display Question Number : Yes  
Single Line Question Option : No Option Orientation : Vertical

Correct Marks : 1 Wrong Marks : 0.25

\_\_\_\_\_ is the measure of space occupied by the body and it is the product of length, breadth and height.

Options :

1. ☐ Surface area of a cuboid
2. ☐ Lateral surface area of a cube
3. ☐ Diagonal of a cuboid
4. ☒ Volume of a cuboid

Question Number : 140 Question Id : 99836742394 Question Type : MCQ Option Shuffling : Yes Display Question Number : Yes  
Single Line Question Option : No Option Orientation : Vertical

Correct Marks : 1 Wrong Marks : 0.25

\_\_\_\_\_ वस्तु द्वारा घेरी गई जगह का माप है तथा लंबाई, चौड़ाई तथा ऊंचाई का गुणनफल होता है।

Options :

1. ☐ एक घनाभ का पृष्ठीय क्षेत्रफल
2. ☐ एक घन का पार्श्व पृष्ठीय क्षेत्रफल
3. ☐ एक घनाभ का विकर्ण
4. ☒ एक घनाभ का आयतन

### Discipline3

Group Number :	8
Group Id :	9983671368
Group Maximum Duration :	0
Group Minimum Duration :	0
Revisit allowed for view? :	No
Revisit allowed for edit? :	No
Break time:	0
Group Marks:	20
Revisit allowed for group Instructions? :	Yes
Maximum Instruction Time:	0
Minimum Instruction Time:	0

### Discipline3

Section Id :	9983671767
Section Number :	1
Section type :	Online
Mandatory or Optional:	Mandatory
Number of Questions:	20
Number of Questions to be attempted:	20
Section Marks:	20
Display Number Panel:	Yes
Group All Questions:	No

Sub-Section Number:	1
Sub-Section Id:	9983672193
Question Shuffling Allowed :	Yes

Question Number : 141 Question Id : 99836742395 Question Type : MCQ Option Shuffling : Yes Display Question Number : Yes  
 Single Line Question Option : No Option Orientation : Vertical  
 Correct Marks : 1 Wrong Marks : 0.25

\_\_\_\_\_ is equal to the area of top and bottom surfaces + area of left and right surfaces + area of front and back surfaces.

Options :

- ✗ Diagonal of a cube
- ✗ Volume of a cube
- ✗ Volume of a cuboid
- ✓ Surface area of a cuboid

Question Number : 141 Question Id : 99836742395 Question Type : MCQ Option Shuffling : Yes Display Question Number : Yes  
 Single Line Question Option : No Option Orientation : Vertical  
 Correct Marks : 1 Wrong Marks : 0.25

\_\_\_\_\_ ऊपरी तथा निचले पृष्ठ के क्षेत्रफल + बाएं तथा दाएं पृष्ठ के क्षेत्रफल + सामने तथा पीछे के पृष्ठ के क्षेत्रफल के बराबर होता है।

Options :

- ✗ एक घन का विकर्ण
- ✗ एक घन का आयतन
- ✗ एक घनाभ का आयतन
- ✓ एक घनाभ का पृष्ठीय क्षेत्रफल

Question Number : 142 Question Id : 99836742396 Question Type : MCQ Option Shuffling : Yes Display Question Number : Yes  
Single Line Question Option : No Option Orientation : Vertical

Correct Marks : 1 Wrong Marks : 0.25

In which of the following situations, the application of percentage is not used?

Options :

- ✗ In a business, profit and loss is expressed as a percentage of the cost price
- ✓ Average of 36 natural numbers is X
- ✗ Interest is paid as a percentage of principal
- ✗ Profit is X% means profit is X% of cost price

Question Number : 142 Question Id : 99836742396 Question Type : MCQ Option Shuffling : Yes Display Question Number : Yes  
Single Line Question Option : No Option Orientation : Vertical

Correct Marks : 1 Wrong Marks : 0.25

निम्नलिखित में से किस स्थिति में, प्रतिशत के अनुप्रयोग का उपयोग नहीं किया जाता है?

Options :

- ✗ व्यवसाय में, लाभ तथा हानि क्रय मूल्य के प्रतिशत के रूप में व्यक्त की जाती है
- ✓ 36 प्राकृतिक संख्याओं का औसत X है
- ✗ ब्याज का भुगतान मूलधन के प्रतिशत के रूप में किया जाता है
- ✗ लाभ X% है अर्थात् लाभ क्रय मूल्य का X% है

Question Number : 143 Question Id : 99836742397 Question Type : MCQ Option Shuffling : Yes Display Question Number : Yes  
Single Line Question Option : No Option Orientation : Vertical

Correct Marks : 1 Wrong Marks : 0.25

If L and M are natural or whole numbers, then  $L \times M$  is also a natural or whole number. The above statement indicates which property of multiplication?

Options :

- ✗ Identity of multiplication
- ✗ Commutative property
- ✗ Distributive property of multiplication over addition.
- ✓ Closure property

Question Number : 143 Question Id : 99836742397 Question Type : MCQ Option Shuffling : Yes Display Question Number : Yes  
Single Line Question Option : No Option Orientation : Vertical

Correct Marks : 1 Wrong Marks : 0.25

यदि L तथा M प्राकृतिक या पूर्ण संख्याएं हैं, तो  $L \times M$  भी एक प्राकृतिक या पूर्ण संख्या होती है। उपरोक्त कथन गुणन के किस गुण को दर्शाता है?

Options :

- ✗ गुणन तत्समक
- ✗ क्रम विनिमेय गुण
- ✗ गुणन का योग पर वितरण गुण
- ✓ संवृतता का गुण

Question Number : 144 Question Id : 99836742398 Question Type : MCQ Option Shuffling : Yes Display Question Number : Yes  
Single Line Question Option : No Option Orientation : Vertical

Correct Marks : 1 Wrong Marks : 0.25

If we have to find the place value of any digit present at the tens place of a number, then by which number we have to multiply this digit?

Options :

- ✗ 1
- ✗ 100

3. ✓ 10

4. ✗ 1000

Question Number : 144 Question Id : 99836742398 Question Type : MCQ Option Shuffling : Yes Display Question Number : Yes  
Single Line Question Option : No Option Orientation : Vertical

Correct Marks : 1 Wrong Marks : 0.25

यदि हमें किसी संख्या के दसवीं स्थान पर मौजूद किसी अंक का स्थानिक मान ज्ञात करना है, तो हमें इस अंक को किस संख्या से गुणा करना होगा?

Options :

1. ✗ 1

2. ✗ 100

3. ✓ 10

4. ✗ 1000

Question Number : 145 Question Id : 99836742399 Question Type : MCQ Option Shuffling : Yes Display Question Number : Yes  
Single Line Question Option : No Option Orientation : Vertical

Correct Marks : 1 Wrong Marks : 0.25

Which of the following is/are the basic axioms of geometry?

I. There exists only one plane containing three points not lying in a line

II. Through two different points one and only one straight line can be drawn

Options :

1. ✗ Only I

2. ✗ Only II

3. ✓ Both I and II

4. ✗ Neither I nor II

Question Number : 145 Question Id : 99836742399 Question Type : MCQ Option Shuffling : Yes Display Question Number : Yes  
Single Line Question Option : No Option Orientation : Vertical

Correct Marks : 1 Wrong Marks : 0.25

निम्नलिखित में से कौन सा/से ज्यामिति के मूल अभिगृहीत हैं?

I. केवल एक ऐसा समतल अस्तित्व में है जिसमें तीन बिंदु एक रेखा पर नहीं होते हैं

II. दो अलग-अलग बिंदुओं के माध्यम से एक और केवल एक सीधी रेखा खींची जा सकती है

Options :

1. ✗ केवल I

2. ✗ केवल II

3. ✓ I तथा II दोनों

4. ✗ न तो I और न ही II

Question Number : 146 Question Id : 99836742400 Question Type : MCQ Option Shuffling : Yes Display Question Number : Yes  
Single Line Question Option : No Option Orientation : Vertical

Correct Marks : 1 Wrong Marks : 0.25

Which of the following geometrical figures can be drawn with the help of ruler and compasses?

I. Bisector of a given angle

II. Perpendicular bisector of a given line-segment

III. Triangles, quadrilaterals and circles of the given measure

Options :

1. ✗ Only III

2. ✗ II and III



3. ✖ I and II
4. ✔ I, II and III

Question Number : 146 Question Id : 99836742400 Question Type : MCQ Option Shuffling : Yes Display Question Number : Yes  
Single Line Question Option : No Option Orientation : Vertical

Correct Marks : 1 Wrong Marks : 0.25

रूलर तथा परकार की मदद से निम्नलिखित में से कौन सी ज्यामितीय आकृति बनाई जा सकती है?

- I. दिए गए कोण का द्विभाजक  
II. दिए गए रेखाखण्ड का लंबवत द्विभाजक  
III. दिए गए माप के त्रिभुज, चतुर्भुज तथा वृत्त

Options :

1. ✖ केवल III
2. ✖ II तथा III
3. ✖ I तथा II
4. ✔ I, II तथा III

Question Number : 147 Question Id : 99836742401 Question Type : MCQ Option Shuffling : Yes Display Question Number : Yes  
Single Line Question Option : No Option Orientation : Vertical

Correct Marks : 1 Wrong Marks : 0.25

How many lines of symmetry does a rectangle have?

Options :

1. ✖ 1
2. ✔ 2
3. ✖ 3
4. ✖ 0

Question Number : 147 Question Id : 99836742401 Question Type : MCQ Option Shuffling : Yes Display Question Number : Yes  
Single Line Question Option : No Option Orientation : Vertical

Correct Marks : 1 Wrong Marks : 0.25

एक आयत में सममित की कितनी रेखाएं होती हैं?

Options :

1. ✖ 1
2. ✔ 2
3. ✖ 3
4. ✖ 0

Question Number : 148 Question Id : 99836742402 Question Type : MCQ Option Shuffling : Yes Display Question Number : Yes  
Single Line Question Option : No Option Orientation : Vertical

Correct Marks : 1 Wrong Marks : 0.25

Which of the following rule do we apply while adding the rational numbers i.e.  $1/m + t/s$ ?

Options :

1. ✖  $(1s + tm)/ml$
2. ✔  $(1s + tm)/ms$
3. ✖  $(1m + tm)/ms$
4. ✖  $(1s + tm)/st$

Question Number : 148 Question Id : 99836742402 Question Type : MCQ Option Shuffling : Yes Display Question Number : Yes  
Single Line Question Option : No Option Orientation : Vertical

Correct Marks : 1 Wrong Marks : 0.25

हम परिमेय संख्याओं यानी  $l/m + t/s$  को जोड़ते समय निम्नलिखित में से कौन सा नियम लागू करते हैं?

Options :

- ✗  $(ls + tm)/ml$
- ✓  $(ls + tm)/ms$
- ✗  $(lm + tm)/ms$
- ✗  $(ls + tm)/st$

Question Number : 149 Question Id : 99836742403 Question Type : MCQ Option Shuffling : Yes Display Question Number : Yes  
Single Line Question Option : No Option Orientation : Vertical

Correct Marks : 1 Wrong Marks : 0.25

Fractions with equal denominators are known as \_\_\_\_\_.

Options :

- ✗ Unit fractions
- ✗ Equivalent fractions
- ✓ Like fractions
- ✗ Duplicate fractions

Question Number : 149 Question Id : 99836742403 Question Type : MCQ Option Shuffling : Yes Display Question Number : Yes  
Single Line Question Option : No Option Orientation : Vertical

Correct Marks : 1 Wrong Marks : 0.25

समान भाजक वाले अंशों को \_\_\_\_\_ के रूप में जाना जाता है।

Options :

- ✗ इकाई भिन्न
- ✗ तुल्य भिन्न
- ✓ समान भिन्न
- ✗ डुप्लीकेट भिन्न

Question Number : 150 Question Id : 99836742404 Question Type : MCQ Option Shuffling : Yes Display Question Number : Yes  
Single Line Question Option : No Option Orientation : Vertical

Correct Marks : 1 Wrong Marks : 0.25

Find the part of the given sentence that has an error in it. If there is no error, choose 'No error'.

It was exciting (1)/ to see the snake dancing (2)/ to the tune of the flute (3)/ No error (4)

Options :

- ✗ It was exciting
- ✓ to see the snake dancing
- ✗ to the tune of the flute
- ✗ No error

Question Number : 150 Question Id : 99836742404 Question Type : MCQ Option Shuffling : Yes Display Question Number : Yes  
Single Line Question Option : No Option Orientation : Vertical

Correct Marks : 1 Wrong Marks : 0.25

Find the part of the given sentence that has an error in it. If there is no error, choose 'No error'.

It was exciting (1)/ to see the snake dancing (2)/ to the tune of the flute (3)/ No error (4)

Options :

- ✗ It was exciting
- ✓ to see the snake dancing
- ✗ to the tune of the flute

4. ✖ No error

Question Number : 151 Question Id : 99836742405 Question Type : MCQ Option Shuffling : Yes Display Question Number : Yes  
Single Line Question Option : No Option Orientation : Vertical

Correct Marks : 1 Wrong Marks : 0.25

Choose the word that is opposite in meaning to the given word.

Prosperity

Options :

1. ✖ durable
2. ✔ adversity
3. ✖ humble
4. ✖ shocked

Question Number : 151 Question Id : 99836742405 Question Type : MCQ Option Shuffling : Yes Display Question Number : Yes  
Single Line Question Option : No Option Orientation : Vertical

Correct Marks : 1 Wrong Marks : 0.25

Choose the word that is opposite in meaning to the given word.

Prosperity

Options :

1. ✖ durable
2. ✔ adversity
3. ✖ humble
4. ✖ shocked

Question Number : 152 Question Id : 99836742406 Question Type : MCQ Option Shuffling : Yes Display Question Number : Yes  
Single Line Question Option : No Option Orientation : Vertical

Correct Marks : 1 Wrong Marks : 0.25

Choose the word that is opposite in meaning to the given word.

Amend

Options :

1. ✖ suppress
2. ✖ prevent
3. ✔ worsen
4. ✖ deep

Question Number : 152 Question Id : 99836742406 Question Type : MCQ Option Shuffling : Yes Display Question Number : Yes  
Single Line Question Option : No Option Orientation : Vertical

Correct Marks : 1 Wrong Marks : 0.25

Choose the word that is opposite in meaning to the given word.

Amend

Options :

1. ✖ suppress
2. ✖ prevent
3. ✔ worsen
4. ✖ deep

Question Number : 153 Question Id : 99836742407 Question Type : MCQ Option Shuffling : Yes Display Question Number : Yes  
Single Line Question Option : No Option Orientation : Vertical

Correct Marks : 1 Wrong Marks : 0.25

Choose the word that means the same as the given word.

Huge

Options :

1. ✓ gigantic
2. ✗ free
3. ✗ humane
4. ✗ minute

Question Number : 153 Question Id : 99836742407 Question Type : MCQ Option Shuffling : Yes Display Question Number : Yes  
Single Line Question Option : No Option Orientation : Vertical

Correct Marks : 1 Wrong Marks : 0.25

Choose the word that means the same as the given word.

Huge

Options :

1. ✓ gigantic
2. ✗ free
3. ✗ humane
4. ✗ minute

Question Number : 154 Question Id : 99836742408 Question Type : MCQ Option Shuffling : Yes Display Question Number : Yes  
Single Line Question Option : No Option Orientation : Vertical

Correct Marks : 1 Wrong Marks : 0.25

Choose the word that can substitute the given sentence.

Killing of people at large

Options :

1. ✗ embalm
2. ✓ genocide
3. ✗ soliloquy
4. ✗ manifesto

Question Number : 154 Question Id : 99836742408 Question Type : MCQ Option Shuffling : Yes Display Question Number : Yes  
Single Line Question Option : No Option Orientation : Vertical

Correct Marks : 1 Wrong Marks : 0.25

Choose the word that can substitute the given sentence.

Killing of people at large

Options :

1. ✗ embalm
2. ✓ genocide
3. ✗ soliloquy
4. ✗ manifesto

Question Number : 155 Question Id : 99836742409 Question Type : MCQ Option Shuffling : Yes Display Question Number : Yes  
Single Line Question Option : No Option Orientation : Vertical

Correct Marks : 1 Wrong Marks : 0.25

In the following question, out of the given four alternatives, select the alternative which best expresses the meaning of the Idiom/Phrase.

To let the cat out the bag

Options :

1. ✖ write as fully as possible
2. ✖ hand over to the police
3. ✖ come to an end
4. ✔ to reveal a secret

Question Number : 155 Question Id : 99836742409 Question Type : MCQ Option Shuffling : Yes Display Question Number : Yes  
Single Line Question Option : No Option Orientation : Vertical

Correct Marks : 1 Wrong Marks : 0.25

In the following question, out of the given four alternatives, select the alternative which best expresses the meaning of the Idiom/Phrase.

To let the cat out the bag

Options :

1. ✖ write as fully as possible
2. ✖ hand over to the police
3. ✖ come to an end
4. ✔ to reveal a secret

Question Number : 156 Question Id : 99836742410 Question Type : MCQ Option Shuffling : Yes Display Question Number : Yes  
Single Line Question Option : No Option Orientation : Vertical

Correct Marks : 1 Wrong Marks : 0.25

In the following question, out of the given four alternatives, select the alternative which best expresses the meaning of the Idiom/Phrase.

Born with a silver spoon in one's mouth

Options :

1. ✖ selfish secret purpose
2. ✔ born in a rich family
3. ✖ imagine impossible things
4. ✖ In a state of disorder

Question Number : 156 Question Id : 99836742410 Question Type : MCQ Option Shuffling : Yes Display Question Number : Yes  
Single Line Question Option : No Option Orientation : Vertical

Correct Marks : 1 Wrong Marks : 0.25

In the following question, out of the given four alternatives, select the alternative which best expresses the meaning of the Idiom/Phrase.

Born with a silver spoon in one's mouth

Options :

1. ✖ selfish secret purpose
2. ✔ born in a rich family
3. ✖ imagine impossible things
4. ✖ In a state of disorder

Question Number : 157 Question Id : 99836742411 Question Type : MCQ Option Shuffling : Yes Display Question Number : Yes  
Single Line Question Option : No Option Orientation : Vertical

**Correct Marks : 1 Wrong Marks : 0.25**

A sentence has been given with a blank to be filled with an appropriate word. Choose the correct alternative.

Plenty of information is available \_\_\_\_\_ the subject.

**Options :**

1. ✖ of
2. ✔ on
3. ✖ in
4. ✖ to

**Question Number : 157 Question Id : 99836742411 Question Type : MCQ Option Shuffling : Yes Display Question Number : Yes**  
**Single Line Question Option : No Option Orientation : Vertical**

**Correct Marks : 1 Wrong Marks : 0.25**

A sentence has been given with a blank to be filled with an appropriate word. Choose the correct alternative.

Plenty of information is available \_\_\_\_\_ the subject.

**Options :**

1. ✖ of
2. ✔ on
3. ✖ in
4. ✖ to

**Question Number : 158 Question Id : 99836742412 Question Type : MCQ Option Shuffling : Yes Display Question Number : Yes**  
**Single Line Question Option : No Option Orientation : Vertical**

**Correct Marks : 1 Wrong Marks : 0.25**

Who was the father of Modern Learning Theory?

**Options :**

1. ✔ Ivan Petrovich Pavlov
2. ✖ Jean Piaget
3. ✖ Lev Vygotsky
4. ✖ John B. Watson

**Question Number : 158 Question Id : 99836742412 Question Type : MCQ Option Shuffling : Yes Display Question Number : Yes**  
**Single Line Question Option : No Option Orientation : Vertical**

**Correct Marks : 1 Wrong Marks : 0.25**

आधुनिक अधिगम सिद्धांत के जनक कौन थे?

**Options :**

1. ✔ इवान पेद्रोविच पावलोव
2. ✖ जॉन प्याज़े
3. ✖ लेव वायगोत्स्की
4. ✖ जॉन बी. वॉटसन

**Question Number : 159 Question Id : 99836742413 Question Type : MCQ Option Shuffling : Yes Display Question Number : Yes**  
**Single Line Question Option : No Option Orientation : Vertical**

**Correct Marks : 1 Wrong Marks : 0.25**

A third issue dividing skinner and development theorists is the most important of all. This issue concerns on which of the following?

- I. Different ways of thinking
- II. Source of behavioural change

Options :

1. ✖ Only I
2. ✔ Only II
3. ✖ Both I and II
4. ✖ Neither I nor II

Question Number : 159 Question Id : 99836742413 Question Type : MCQ Option Shuffling : Yes Display Question Number : Yes  
Single Line Question Option : No Option Orientation : Vertical

Correct Marks : 1 Wrong Marks : 0.25

एक तीसरा मुद्दा स्किनर तथा विकास सिद्धांतकारों को विभाजित करना सबसे महत्वपूर्ण है। यह मुद्दा निम्नलिखित में से किस प्रसंग पर है?

- I. सोचने के विभिन्न तरीके
- II. व्यवहार परिवर्तन का साधन

Options :

1. ✖ केवल I
2. ✔ केवल II
3. ✖ I तथा II दोनों
4. ✖ न तो I और न ही II

Question Number : 160 Question Id : 99836742414 Question Type : MCQ Option Shuffling : Yes Display Question Number : Yes  
Single Line Question Option : No Option Orientation : Vertical

Correct Marks : 1 Wrong Marks : 0.25

According to Bandura self-efficacy appraisals are based on which of the following sources of information?

- I. Self-efficacy appraisals are also influenced by vicarious experiences
- II. the most influential source of knowledge is actual performance

Options :

1. ✖ Only I
2. ✖ Only II
3. ✔ Both I and II
4. ✖ Neither I nor II

Question Number : 160 Question Id : 99836742414 Question Type : MCQ Option Shuffling : Yes Display Question Number : Yes  
Single Line Question Option : No Option Orientation : Vertical

Correct Marks : 1 Wrong Marks : 0.25

बंडुरा के अनुसार आत्म-प्रभावकारिता मूल्यांकन सूचना के निम्नलिखित स्रोतों में से किस पर आधारित है?

- I. स्व-प्रभावकारिता मूल्यांकन भी विचित्र अनुभवों से प्रभावित होते हैं
- II. ज्ञान का सबसे प्रभावशाली स्रोत वास्तविक प्रदर्शन है

Options :

1. ✖ केवल I
2. ✖ केवल II
3. ✔ I तथा II दोनों
4. ✖ न तो I और न ही II

Discipline4

Group Number :

9

Group Id :

9983671369

Group Maximum Duration :

0

Group Minimum Duration :	0
Revisit allowed for view? :	No
Revisit allowed for edit? :	No
Break time:	0
Group Marks:	20
Revisit allowed for group Instructions? :	Yes
Maximum Instruction Time:	0
Minimum Instruction Time:	0

#### Discipline4

Section Id :	9983671768
Section Number :	1
Section type :	Online
Mandatory or Optional:	Mandatory
Number of Questions:	20
Number of Questions to be attempted:	20
Section Marks:	20
Display Number Panel:	Yes
Group All Questions:	No

Sub-Section Number:	1
Sub-Section Id:	9983672194
Question Shuffling Allowed :	Yes

Question Number : 161 Question Id : 99836742415 Question Type : MCQ Option Shuffling : Yes Display Question Number : Yes  
Single Line Question Option : No Option Orientation : Vertical

Correct Marks : 1 Wrong Marks : 0.25

Who among the following proposed that the people have also created 'psychological tools' to master their own behaviour?

Options :

1. ✖ Friedrich Engels
2. ✔ Vygotsky
3. ✖ Jean Piaget
4. ✖ Albert Bandura

Question Number : 161 Question Id : 99836742415 Question Type : MCQ Option Shuffling : Yes Display Question Number : Yes  
Single Line Question Option : No Option Orientation : Vertical

Correct Marks : 1 Wrong Marks : 0.25

निम्नलिखित में से किसने प्रस्तावित किया कि लोगों ने अपने स्वयं के व्यवहार में महारत हासिल करने के लिए 'मनोवैज्ञानिक उपकरण' बनाए हैं?

Options :

1. ✖ फ्रेडरिक एंगेल्स
2. ✔ व्यगोत्स्की
3. ✖ जॉन प्याज़े
4. ✖ अल्बर्ट बंदुरा

Question Number : 162 Question Id : 99836742416 Question Type : MCQ Option Shuffling : Yes Display Question Number : Yes  
Single Line Question Option : No Option Orientation : Vertical

Correct Marks : 1 Wrong Marks : 0.25

Which of the following is an example of using observation method in EVS?



Options :

- ✖ Asking the students to copy important points on various topics in EVS
- ✔ Asking the students to observe different birds and write down their external features
- ✖ Asking the students to make projects on the issue of environmental pollution
- ✖ Asking the students to debate on any topic chosen by the teacher in the class

Question Number : 162 Question Id : 99836742416 Question Type : MCQ Option Shuffling : Yes Display Question Number : Yes  
Single Line Question Option : No Option Orientation : Vertical

Correct Marks : 1 Wrong Marks : 0.25

पर्यावरण अध्ययन में अवलोकन विधि का उपयोग करने के लिए निम्नलिखित में से कौन सा उदाहरण है?

Options :

- ✖ छात्रों को पर्यावरण अध्ययन में विभिन्न विषयों पर महत्वपूर्ण बातों को कॉपी करने के लिए कहना
- ✔ छात्रों को विभिन्न पक्षियों का अवलोकन करने तथा उनकी बाहरी विशेषताओं को लिखने के लिए कहना
- ✖ छात्रों से पर्यावरण प्रदूषण की समस्या के विषय पर परियोजनाएं बनाने के लिए कहना
- ✖ कक्षा में शिक्षक द्वारा चुने गए किसी भी विषय पर छात्रों से बहस करने के लिए कहना

Question Number : 163 Question Id : 99836742417 Question Type : MCQ Option Shuffling : Yes Display Question Number : Yes  
Single Line Question Option : No Option Orientation : Vertical

Correct Marks : 1 Wrong Marks : 0.25

Which of the following is NOT an advantage of 'management technique' in planning teaching and learning in EVS?

Options :

- ✖ Planning reduces necessary time and effort of achieving the goal
- ✖ Planning tells the teacher the progress he/she has made toward the goal
- ✖ Planning tells the teacher how far he/she is from his/her goals
- ✔ Planning helps in having a better understanding of children's knowledge

Question Number : 163 Question Id : 99836742417 Question Type : MCQ Option Shuffling : Yes Display Question Number : Yes  
Single Line Question Option : No Option Orientation : Vertical

Correct Marks : 1 Wrong Marks : 0.25

पर्यावरण अध्ययन में अधिगम तथा शिक्षण की योजना में निम्नलिखित में से कौन सा 'प्रबंधन तकनीक' का लाभ नहीं है?

Options :

- ✖ योजना आवश्यक समय तथा लक्ष्य प्राप्त करने के प्रयास को कम करती है
- ✖ योजना शिक्षक को यह व्यक्त करता/करती है जो उसने लक्ष्य की ओर उन्नति की है
- ✖ योजना शिक्षक को यह व्यक्त करती है कि वह अपने लक्ष्यों से कितनी दूर है
- ✔ योजना बच्चों के ज्ञान को बेहतर समझने में मदद करती है

Question Number : 164 Question Id : 99836742418 Question Type : MCQ Option Shuffling : Yes Display Question Number : Yes  
Single Line Question Option : No Option Orientation : Vertical

Correct Marks : 1 Wrong Marks : 0.25

Which of the following is NOT a teaching - learning method in EVS?

Options :

- ✖ Field Visit
- ✖ Project Method
- ✖ Observation
- ✔ Scientific Method

Question Number : 164 Question Id : 99836742418 Question Type : MCQ Option Shuffling : Yes Display Question Number : Yes  
Single Line Question Option : No Option Orientation : Vertical

Correct Marks : 1 Wrong Marks : 0.25

पर्यावरण अध्ययन में निम्नलिखित में से कौन सी शिक्षण - अधिगम विधि नहीं है?

Options :

1. ✖ क्षेत्र का दौरा
2. ✖ परियोजना विधि
3. ✖ अवलोकन
4. ✔ वैज्ञानिक विधि

Question Number : 165 Question Id : 99836742419 Question Type : MCQ Option Shuffling : Yes Display Question Number : Yes  
Single Line Question Option : No Option Orientation : Vertical

Correct Marks : 1 Wrong Marks : 0.25

Which of the following is NOT a scope of EVS?

Options :

1. ✖ Generating positive and proactive actions in improving the quality of the environment
2. ✔ Developing positive values for non-living things
3. ✖ Promoting a conservation ethic
4. ✖ Adoption of environment friendly practices and habits

Question Number : 165 Question Id : 99836742419 Question Type : MCQ Option Shuffling : Yes Display Question Number : Yes  
Single Line Question Option : No Option Orientation : Vertical

Correct Marks : 1 Wrong Marks : 0.25

निम्नलिखित में से क्या पर्यावरण अध्ययन का दायरा नहीं है?

Options :

1. ✖ पर्यावरण की गुणवत्ता में सुधार के लिए सकारात्मक तथा अग्रसक्रिय चाल उत्पन्न करना
2. ✔ निर्जीव वस्तु के लिए सकारात्मक महत्वों का विकास करना
3. ✖ संरक्षण नैतिकता को बढ़ावा देना
4. ✖ पर्यावरण के अनुकूल अभ्यास तथा व्यवहार को अभिग्रहण करना

Question Number : 166 Question Id : 99836742420 Question Type : MCQ Option Shuffling : Yes Display Question Number : Yes  
Single Line Question Option : No Option Orientation : Vertical

Correct Marks : 1 Wrong Marks : 0.25

Which of the following aspects can be added in a report card to assess the children on EVS?

- I. Identifies people who help in producing food. e.g. fisherman, farmers etc.
- II. Recognises the need for human beings to live in a house.
- III. Classifies differed food items and nutritional value.

Options :

1. ✖ Both I and II
2. ✖ Both II and III
3. ✖ Both I and III
4. ✔ I, II and III

Question Number : 166 Question Id : 99836742420 Question Type : MCQ Option Shuffling : Yes Display Question Number : Yes  
Single Line Question Option : No Option Orientation : Vertical

Correct Marks : 1 Wrong Marks : 0.25

पर्यावरण अध्ययन पर बच्चों का आकलन करने के लिए रिपोर्ट कार्ड में निम्नलिखित में से कौन सा पहलू जोड़ा जा सकता है?

- I. उन लोगों की पहचान करता है जो भोजन बनाने में मदद करते हैं। जैसे मछुआरे, किसान आदि।
- II. एक घर में रहने के लिए मनुष्य की आवश्यकता की पहचान करना।
- III. विभिन्न खाद्य पदार्थों तथा पोषण के महत्त्व को वर्गीकृत करना।

Options :

1. ✖ I तथा II दोनों
2. ✖ II तथा III दोनों
3. ✖ I तथा III दोनों
4. ✔ I, II तथा III

Question Number : 167 Question Id : 99836742421 Question Type : MCQ Option Shuffling : Yes Display Question Number : Yes  
Single Line Question Option : No Option Orientation : Vertical

Correct Marks : 1 Wrong Marks : 0.25

A \_\_\_\_\_ is a large piece of paper or a board which is made into a poster or a picture by sticking on illustrations.

Options :

1. ✔ Collage
2. ✖ Word stars
3. ✖ Dialogues
4. ✖ Vocabulary charts

Question Number : 167 Question Id : 99836742421 Question Type : MCQ Option Shuffling : Yes Display Question Number : Yes  
Single Line Question Option : No Option Orientation : Vertical

Correct Marks : 1 Wrong Marks : 0.25

\_\_\_\_\_ एक कागज या एक बोर्ड का एक बड़ा टुकड़ा है जिसे चित्र पर चिपकाकर पोस्टर या चित्र बनाया जाता है।

Options :

1. ✔ कोलाज़
2. ✖ वर्ड स्टार्स
3. ✖ डायलॉग्स
4. ✖ शब्दावली चार्ट

Question Number : 168 Question Id : 99836742422 Question Type : MCQ Option Shuffling : Yes Display Question Number : Yes  
Single Line Question Option : No Option Orientation : Vertical

Correct Marks : 1 Wrong Marks : 0.25

Which of the following is a characteristic not expected out of a teacher of young children?

Options :

1. ✖ Good sense of humour
2. ✖ Adaptable
3. ✖ Patient
4. ✔ Orthodox

Question Number : 168 Question Id : 99836742422 Question Type : MCQ Option Shuffling : Yes Display Question Number : Yes  
Single Line Question Option : No Option Orientation : Vertical

Correct Marks : 1 Wrong Marks : 0.25

निम्नलिखित में से कौन सी विशेषता छोटे बच्चों के अध्यापक से अपेक्षित नहीं है?

Options :

1. ✖ अच्छा मजाकिया
2. ✖ अनुकूलनीय
3. ✖ धैर्यवान
4. ✔ धर्मनिष्ठ

Question Number : 169 Question Id : 99836742423 Question Type : MCQ Option Shuffling : Yes Display Question Number : Yes  
Single Line Question Option : No Option Orientation : Vertical

Correct Marks : 1 Wrong Marks : 0.25

'Check word order' would come under which heading?

Options :

1. ✓ Grammar
2. ✗ Story length
3. ✗ Organisation of ideas
4. ✗ Vocabulary and general meaning

Question Number : 169 Question Id : 99836742423 Question Type : MCQ Option Shuffling : Yes Display Question Number : Yes  
Single Line Question Option : No Option Orientation : Vertical

Correct Marks : 1 Wrong Marks : 0.25

किस शीर्षक के तहत 'वर्ड के अनुक्रम की जाँच करना' आएगा?

Options :

1. ✓ व्याकरण
2. ✗ कहानी की लंबाई
3. ✗ विचारों की व्यवस्था
4. ✗ शब्दावली और सामान्य अर्थ

Question Number : 170 Question Id : 99836742424 Question Type : MCQ Option Shuffling : Yes Display Question Number : Yes  
Single Line Question Option : No Option Orientation : Vertical

Correct Marks : 1 Wrong Marks : 0.25

"An informal chat aimed at building up and maintaining rapport with your pupils" is a definition of \_\_\_\_\_.

Options :

1. ✓ Warm up
2. ✗ Plan
3. ✗ Review
4. ✗ Inform

Question Number : 170 Question Id : 99836742424 Question Type : MCQ Option Shuffling : Yes Display Question Number : Yes  
Single Line Question Option : No Option Orientation : Vertical

Correct Marks : 1 Wrong Marks : 0.25

'अपने विद्यार्थियों के साथ तालमेल बनाने और बनाए रखने के उद्देश्य से एक अनौपचारिक चैट \_\_\_\_\_ की परिभाषा है।

Options :

1. ✓ वार्म अप
2. ✗ प्लान
3. ✗ रिव्यू
4. ✗ इन्फॉर्म

Question Number : 171 Question Id : 99836742425 Question Type : MCQ Option Shuffling : Yes Display Question Number : Yes  
Single Line Question Option : No Option Orientation : Vertical

Correct Marks : 1 Wrong Marks : 0.25

What could be the reason to ask questions from listeners in story-based lessons?

- I. To check pupil's understanding and learning.
- II. To encourage pupil's to think about and express their reactions to a story or character.

Options :

1. ✗ Only I
2. ✗ Only II
3. ✓ Both I and II

4. ✖ Neither I nor II

Question Number : 171 Question Id : 99836742425 Question Type : MCQ Option Shuffling : Yes Display Question Number : Yes  
Single Line Question Option : No Option Orientation : Vertical

Correct Marks : 1 Wrong Marks : 0.25

कहानी-आधारित पाठों में श्रोताओं से प्रश्न पूछने का क्या कारण हो सकता है?

I. विद्यार्थियों की समझ और अधिगम की जाँच करना

II. विद्यार्थियों को किसी कहानी या चरित्र के बारे में सोचने और अपनी प्रतिक्रिया व्यक्त करने के लिए प्रोत्साहित करना

Options :

1. ✖ केवल I

2. ✖ केवल II

3. ✔ I तथा II दोनों

4. ✖ न तो I और न ही II

Question Number : 172 Question Id : 99836742426 Question Type : MCQ Option Shuffling : Yes Display Question Number : Yes  
Single Line Question Option : No Option Orientation : Vertical

Correct Marks : 1 Wrong Marks : 0.25

How can a teacher develop 'students' listening skills?

I. By giving them confidence

II. By setting a specific listening task

Options :

1. ✖ Only I

2. ✖ Only II

3. ✔ Both I and II

4. ✖ Neither I nor II

Question Number : 172 Question Id : 99836742426 Question Type : MCQ Option Shuffling : Yes Display Question Number : Yes  
Single Line Question Option : No Option Orientation : Vertical

Correct Marks : 1 Wrong Marks : 0.25

एक अध्यापक 'छात्रों के सुनने के कौशल' को कैसे विकसित कर सकता है?

I. उन्हें आत्मविश्वास दिलाकर

II. एक विशिष्ट सुनने का कार्य निर्धारित करके

Options :

1. ✖ केवल I

2. ✖ केवल II

3. ✔ I तथा II दोनों

4. ✖ न तो I और न ही II

Question Number : 173 Question Id : 99836742427 Question Type : MCQ Option Shuffling : Yes Display Question Number : Yes  
Single Line Question Option : No Option Orientation : Vertical

Correct Marks : 1 Wrong Marks : 0.25

Which of the following speaking activities is used for free communication?

I. Retelling a story

II. Reading silently

Options :

1. ✔ Only I

2. ✖ Only II

3. ✖ Both I and II
4. ✖ Neither I nor II

Question Number : 173 Question Id : 99836742427 Question Type : MCQ Option Shuffling : Yes Display Question Number : Yes  
Single Line Question Option : No Option Orientation : Vertical

Correct Marks : 1 Wrong Marks : 0.25

निम्नलिखित में से कौन सी बोलने वाली गतिविधियों का उपयोग मुक्त संप्रेषण के लिए किया जाता है?

- I. एक कहानी को दोबारा बताना
- II. शांत होकर पढ़ना

Options :

1. ✔ केवल I
2. ✖ केवल II
3. ✖ I तथा II दोनों
4. ✖ न तो I और न ही II

Question Number : 174 Question Id : 99836742428 Question Type : MCQ Option Shuffling : Yes Display Question Number : Yes  
Single Line Question Option : No Option Orientation : Vertical

Correct Marks : 1 Wrong Marks : 0.25

What comes under 'writing at sentence level' writing activity?

- I. Speech bubbles for characters.
- II. Writing simple questions for other pupils to answer.

Options :

1. ✖ Only I
2. ✖ Only II
3. ✔ Both I and II
4. ✖ Neither I nor II

Question Number : 174 Question Id : 99836742428 Question Type : MCQ Option Shuffling : Yes Display Question Number : Yes  
Single Line Question Option : No Option Orientation : Vertical

Correct Marks : 1 Wrong Marks : 0.25

लेखन गतिविधि में 'वाक्य स्तर पर लेखन' के अंतर्गत क्या आता है?

- I. वर्णों के लिए स्पिच बबल्स
- II. अन्य विद्यार्थियों को उत्तर देने के लिए सरल प्रश्न लिखना

Options :

1. ✖ केवल I
2. ✖ केवल II
3. ✔ I तथा II दोनों
4. ✖ न तो I और न ही II

Question Number : 175 Question Id : 99836742429 Question Type : MCQ Option Shuffling : Yes Display Question Number : Yes  
Single Line Question Option : No Option Orientation : Vertical

Correct Marks : 1 Wrong Marks : 0.25

Provide opportunities for pupils to check their own work either individually or in pairs is termed as \_\_\_\_\_.

Options :

1. ✔ self-correction
2. ✖ planning learning
3. ✖ self-assessment

4. ✖ selecting activities

Question Number : 175 Question Id : 99836742429 Question Type : MCQ Option Shuffling : Yes Display Question Number : Yes  
Single Line Question Option : No Option Orientation : Vertical

Correct Marks : 1 Wrong Marks : 0.25

विद्यार्थियों को व्यक्तिगत रूप से या जोड़े में उनके स्वयं के कार्य की जांच करने के अवसर प्रदान करने को, \_\_\_\_\_ कहा जाता है।

Options :

1. ✔ स्वयं सुधार
2. ✖ अधिगम योजना
3. ✖ स्वतः निर्धारण
4. ✖ गतिविधियों का चयन

Question Number : 176 Question Id : 99836742430 Question Type : MCQ Option Shuffling : Yes Display Question Number : Yes  
Single Line Question Option : No Option Orientation : Vertical

Correct Marks : 1 Wrong Marks : 0.25

Which of the following categories is included in cultural information that is presented through the storybooks?

- I. Linguistic
- II. Geographical

Options :

1. ✖ Only I
2. ✖ Only II
3. ✔ Both I and II
4. ✖ Neither I nor II

Question Number : 176 Question Id : 99836742430 Question Type : MCQ Option Shuffling : Yes Display Question Number : Yes  
Single Line Question Option : No Option Orientation : Vertical

Correct Marks : 1 Wrong Marks : 0.25

निम्नलिखित में से कौन सी श्रेणियों को सांस्कृतिक जानकारी में शामिल किया गया है जो कि स्टोरीबुक के माध्यम से प्रस्तुत की गई है?

- I. भाषा-संबंधी
- II. भौगोलिक

Options :

1. ✖ केवल I
2. ✖ केवल II
3. ✔ I तथा II दोनों
4. ✖ न तो I और न ही II

Question Number : 177 Question Id : 99836742431 Question Type : MCQ Option Shuffling : Yes Display Question Number : Yes  
Single Line Question Option : No Option Orientation : Vertical

Correct Marks : 1 Wrong Marks : 0.25

What is included in stage 1 of productive computer session?

- I. Pre-teach vocabulary and structures.
- II. Encourage pupils to focus on the topic.

Options :

1. ✖ Only I
2. ✖ Only II
3. ✔ Both I and II
4. ✖ Neither I nor II

Question Number : 177 Question Id : 99836742431 Question Type : MCQ Option Shuffling : Yes Display Question Number : Yes  
Single Line Question Option : No Option Orientation : Vertical

Correct Marks : 1 Wrong Marks : 0.25

एक उपयोगी कंप्यूटर सत्र के चरण 1 में क्या शामिल है?

- I. पहले से पढ़ाई गयी शब्दावली तथा संरचनाएं
- II. विषय पर ध्यान केंद्रित करने के लिए विद्यार्थियों को प्रोत्साहित करना

Options :

- 1. ✖ केवल I
- 2. ✖ केवल II
- 3. ✔ I तथा II दोनों
- 4. ✖ न तो I और न ही II

Question Number : 178 Question Id : 99836742432 Question Type : MCQ Option Shuffling : Yes Display Question Number : Yes  
Single Line Question Option : No Option Orientation : Vertical

Correct Marks : 1 Wrong Marks : 0.25

What are the points that a teacher should keep in mind while displaying children's work?

- I. Link or co-ordinate work through colours.
- II. Castle used as a background.

Options :

- 1. ✔ Only I
- 2. ✖ Only II
- 3. ✖ Both I and II
- 4. ✖ Neither I nor II

Question Number : 178 Question Id : 99836742432 Question Type : MCQ Option Shuffling : Yes Display Question Number : Yes  
Single Line Question Option : No Option Orientation : Vertical

Correct Marks : 1 Wrong Marks : 0.25

बच्चों के कार्य को प्रदर्शित करते समय एक शिक्षक को किन बातों को ध्यान में रखना चाहिए?

- I. रंगों के माध्यम से कार्य को जोड़ना या समन्वय करना
- II. कैसल का इस्तेमाल एक बैकग्राउंड के रूप में करना

Options :

- 1. ✔ केवल I
- 2. ✖ केवल II
- 3. ✖ I तथा II दोनों
- 4. ✖ न तो I और न ही II

Question Number : 179 Question Id : 99836742433 Question Type : MCQ Option Shuffling : Yes Display Question Number : Yes  
Single Line Question Option : No Option Orientation : Vertical

Correct Marks : 1 Wrong Marks : 0.25

Which of the following is not true in context of productive computer session?

- I. 'Preparing pupil's linguistically and conceptually' falls under stage 2.
- II. 'Check that children carry out the task' falls under stage 2.

Options :

- 1. ✔ Only I
- 2. ✖ Only II
- 3. ✖ Both I and II



4. ✖ Neither I nor II

Question Number : 179 Question Id : 99836742433 Question Type : MCQ Option Shuffling : Yes Display Question Number : Yes  
Single Line Question Option : No Option Orientation : Vertical

Correct Marks : 1 Wrong Marks : 0.25

निम्नलिखित में से कौन सा उपयोगी कंप्यूटर सत्र के संदर्भ में सही नहीं है?

- I. विद्यार्थियों को भाषा संबंधी तथा संकल्पना से संबंधी तैयार करना चरण 2 के अंतर्गत आता है
- II. 'बच्चे कार्य को कर रहे हैं इसकी जाँच करना' चरण 2 के अंतर्गत आता है

Options :

- 1. ✔ केवल I
- 2. ✖ केवल II
- 3. ✖ I तथा II दोनों
- 4. ✖ न तो I और न ही II

Question Number : 180 Question Id : 99836742434 Question Type : MCQ Option Shuffling : Yes Display Question Number : Yes  
Single Line Question Option : No Option Orientation : Vertical

Correct Marks : 1 Wrong Marks : 0.25

What falls under 'writing at text-level' writing activity?

- I. Posters
- II. Poems

Options :

- 1. ✖ Only I
- 2. ✖ Only II
- 3. ✔ Both I and II
- 4. ✖ Neither I nor II

Question Number : 180 Question Id : 99836742434 Question Type : MCQ Option Shuffling : Yes Display Question Number : Yes  
Single Line Question Option : No Option Orientation : Vertical

Correct Marks : 1 Wrong Marks : 0.25

लेखन गतिविधि के 'पाठ-स्तर की लेखन' के अंतर्गत क्या आता है?

- I. पोस्टर
- II. कविताएं

Options :

- 1. ✖ केवल I
- 2. ✖ केवल II
- 3. ✔ I तथा II दोनों
- 4. ✖ न तो I और न ही II

Discipline5

Group Number :	10
Group Id :	9983671370
Group Maximum Duration :	0
Group Minimum Duration :	120
Revisit allowed for view? :	No
Revisit allowed for edit? :	No
Break time:	0
Group Marks:	20

Revisit allowed for group Instructions? :	Yes
Maximum Instruction Time:	0
Minimum Instruction Time:	0

Discipline5

Section Id :	9983671769
Section Number :	1
Section type :	Online
Mandatory or Optional:	Mandatory
Number of Questions:	20
Number of Questions to be attempted:	20
Section Marks:	20
Display Number Panel:	Yes
Group All Questions:	No

Sub-Section Number:	1
Sub-Section Id:	9983672195
Question Shuffling Allowed :	Yes

Question Number : 181 Question Id : 99836742435 Question Type : MCQ Option Shuffling : Yes Display Question Number : Yes  
Single Line Question Option : No Option Orientation : Vertical

Correct Marks : 1 Wrong Marks : 0.25

Which of the following steps can be followed while using techniques to introduce new vocabulary?

- I. Present the word by illustrating its meaning in one of the above ways.
- II. If a child knows the word, ask her to say it and use it as your model, if correct.

Options :

1. ✖ Only I
2. ✖ Only II
3. ✔ Both I and II
4. ✖ Neither I nor II

Question Number : 181 Question Id : 99836742435 Question Type : MCQ Option Shuffling : Yes Display Question Number : Yes  
Single Line Question Option : No Option Orientation : Vertical

Correct Marks : 1 Wrong Marks : 0.25

निम्नलिखित में से किस चरण का पालन नई शब्दावली को पेश करने के लिए तकनीकों का उपयोग करते समय किया जा सकता है?

- I. उपरोक्त तरीकों में से एक में उसके अर्थ को दर्शाते हुए शब्द को प्रस्तुत करना
- II. यदि कोई बच्चा शब्द को जानता है, तो उसे इस शब्द को बोलने तथा मॉडल के रूप में उपयोग करने के लिए पूछना, यदि सही हो।

Options :

1. ✖ केवल I
2. ✖ केवल II
3. ✔ I तथा II दोनों
4. ✖ न तो I और न ही II

Question Number : 182 Question Id : 99836742436 Question Type : MCQ Option Shuffling : Yes Display Question Number : Yes  
Single Line Question Option : No Option Orientation : Vertical

Correct Marks : 1 Wrong Marks : 0.25

Which of the following activity /activities teacher can give to the students while teaching about map skills?

- I. The teacher can ask the students to locate different places on a map.
- II. The teacher can ask the students to identify the scale of a given map and ask them to calculate the distance between any two places.
- III. The teacher can ask the students to identify directions through a map.

Options :

- 1. ✖ Only I
- 2. ✖ Both II and III
- 3. ✔ I, II and III
- 4. ✖ Both I and III

Question Number : 182 Question Id : 99836742436 Question Type : MCQ Option Shuffling : Yes Display Question Number : Yes  
Single Line Question Option : No Option Orientation : Vertical

Correct Marks : 1 Wrong Marks : 0.25

मानचित्र कौशल के बारे में पढ़ाते समय शिक्षक निम्नलिखित में से कौन सी गतिविधि / गतिविधियाँ छात्रों को दे सकता है?

- I. शिक्षक विद्यार्थियों से मानचित्र पर विभिन्न स्थानों का पता लगाने के लिए पूछ सकते हैं।
- II. शिक्षक छात्रों को दिए गए नक्शे के पैमाने की पहचान करने के लिए कह सकता है तथा उन्हें किसी भी दो स्थानों के बीच की दूरी की गणना करने के लिए कह सकता है।
- III. शिक्षक विद्यार्थियों को मानचित्र के माध्यम से दिशाओं की पहचान करने के लिए कह सकता है।

Options :

- 1. ✖ केवल I
- 2. ✖ II तथा III दोनों
- 3. ✔ I, II तथा III
- 4. ✖ I तथा III दोनों

Question Number : 183 Question Id : 99836742437 Question Type : MCQ Option Shuffling : Yes Display Question Number : Yes  
Single Line Question Option : No Option Orientation : Vertical

Correct Marks : 1 Wrong Marks : 0.25

Which of the following is NOT a modern approach adopted by social scientist in understanding political science?

Options :

- 1. ✖ More analytic in nature
- 2. ✖ See politics as an activity or a process service
- 3. ✖ Define political science as an objective, scientific and process oriented task
- 4. ✔ Prescriptive and normative. Aim at the achievement of good society

Question Number : 183 Question Id : 99836742437 Question Type : MCQ Option Shuffling : Yes Display Question Number : Yes  
Single Line Question Option : No Option Orientation : Vertical

Correct Marks : 1 Wrong Marks : 0.25

निम्नलिखित में से कौन सा राजनीतिक विज्ञान को समझने में समाजिक वैज्ञानिक द्वारा अपनाया गया आधुनिक उपागम नहीं है?

Options :

- 1. ✖ प्रकृति में अधिक विश्लेषणात्मक
- 2. ✖ राजनीति को एक गतिविधि या कार्यविधि सेवा के रूप में देखें
- 3. ✖ राजनीति विज्ञान को एक उद्देश्य, वैज्ञानिक तथा प्रक्रिया उन्मुख कार्य के रूप में परिभाषित करें
- 4. ✔ निर्देशात्मक तथा मानदंड संबंधी I अच्छे समाज की उपलब्धि के उद्देश्य

Question Number : 184 Question Id : 99836742438 Question Type : MCQ Option Shuffling : Yes Display Question Number : Yes  
Single Line Question Option : No Option Orientation : Vertical

Correct Marks : 1 Wrong Marks : 0.25

Which of the following is/are the objective(s) of teaching Social science at the upper primary stage according to the National Focus Group on Teaching Social Sciences (2006)?

- I. To initiate the learner into a study of her/his own region, state and country in the global context.
- II. To introduce the learner to the functioning and dynamics of social and political institution and processes of the country.
- III. To develop the democratic citizenship qualities among students.

Options :

- 1. ✓ Both I and II
- 2. ✗ Both II and III
- 3. ✗ Both I and III
- 4. ✗ I, II and III

Question Number : 184 Question Id : 99836742438 Question Type : MCQ Option Shuffling : Yes Display Question Number : Yes  
Single Line Question Option : No Option Orientation : Vertical

Correct Marks : 1 Wrong Marks : 0.25

समाजिक विज्ञान के शिक्षण पर नेशनल फोकस ग्रुप (2006) के अनुसार निम्नलिखित में से कौन सा/से उच्च प्राथमिक स्तर पर समाजिक विज्ञान को पढ़ाने का उद्देश्य है/हैं?

- I. वैश्विक संदर्भ में शिक्षार्थियों को उसके स्वयं के क्षेत्र, राज्य तथा देश के अध्ययन की ओर ले जाना
- II. सामाजिक तथा राजनीतिक संस्थानों के कार्य तथा गतिशीलता और देश की प्रक्रिया से शिक्षार्थी का परिचय करना
- III. विद्यार्थियों के बीच लोकतांत्रिक नागरिकता के गुणों को विकसित करना

Options :

- 1. ✓ I तथा II दोनों
- 2. ✗ II तथा III दोनों
- 3. ✗ I तथा III दोनों
- 4. ✗ I, II तथा III

Question Number : 185 Question Id : 99836742439 Question Type : MCQ Option Shuffling : Yes Display Question Number : Yes  
Single Line Question Option : No Option Orientation : Vertical

Correct Marks : 1 Wrong Marks : 0.25

Which of the following is a partially 3D, full size replica or scale model of a landscape typically showing historical events, nature scenes etc. for purposes of education or entertainment?

Options :

- 1. ✓ Diorama
- 2. ✗ Artifacts
- 3. ✗ Globe
- 4. ✗ Realia

Question Number : 185 Question Id : 99836742439 Question Type : MCQ Option Shuffling : Yes Display Question Number : Yes  
Single Line Question Option : No Option Orientation : Vertical

Correct Marks : 1 Wrong Marks : 0.25

निम्नलिखित में से कौन सा आंशिक रूप से 3 डी, पूर्ण आकार की प्रतिकृति या परिदृश्य का एक मॉडल है जो आमतौर पर शिक्षा या मनोरंजन के उद्देश्यों के लिए ऐतिहासिक घटनाओं, प्रकृति के दृश्यों आदि को दर्शाता है?

Options :

- 1. ✓ चित्रावली
- 2. ✗ शिल्पकृति
- 3. ✗ पृथ्वी
- 4. ✗ रेलिया

Question Number : 186 Question Id : 99836742440 Question Type : MCQ Option Shuffling : Yes Display Question Number : Yes  
Single Line Question Option : No Option Orientation : Vertical

Correct Marks : 1 Wrong Marks : 0.25

Which of the following is/are type(s) of charts used as learning resource in social science?

- I. Relationship charts
- II. Tabulation charts
- III. Flow charts
- IV. Organisation charts
- V. Pedigree charts

Options :

- 1. ✖ I, II and III
- 2. ✖ I, II, III and IV
- 3. ✖ I, II, III and V
- 4. ✔ I, II, III, IV and V

Question Number : 186 Question Id : 99836742440 Question Type : MCQ Option Shuffling : Yes Display Question Number : Yes  
Single Line Question Option : No Option Orientation : Vertical

Correct Marks : 1 Wrong Marks : 0.25

सामाजिक विज्ञान में निम्नलिखित में से कौन सा अधिगम साधन के रूप में उपयोग किए जाने वाले चार्ट के प्रकार है?

- I. संबंध मूलक चार्ट
- II. सारणीकरण चार्ट
- III. प्रवाही (फ्लो) चार्ट
- IV. संगठनात्मक चार्ट
- V. वंशानुक्रम चार्ट

Options :

- 1. ✖ I, II तथा III
- 2. ✖ I, II, III तथा IV
- 3. ✖ I, II, III तथा V
- 4. ✔ I, II, III, IV तथा V

Question Number : 187 Question Id : 99836742441 Question Type : MCQ Option Shuffling : Yes Display Question Number : Yes  
Single Line Question Option : No Option Orientation : Vertical

Correct Marks : 1 Wrong Marks : 0.25

If diameter of a circle is 21 cm, then what will be the circumference of circle?

Options :

- 1. ✖ 128 cm
- 2. ✖ 264 cm
- 3. ✖ 132 cm
- 4. ✔ 66 cm

Question Number : 187 Question Id : 99836742441 Question Type : MCQ Option Shuffling : Yes Display Question Number : Yes  
Single Line Question Option : No Option Orientation : Vertical

Correct Marks : 1 Wrong Marks : 0.25

यदि एक वृत्त का व्यास 21 से.मी. है, तो वृत्त की परिधि क्या होगी?

Options :

- 1. ✖ 128 से.मी.
- 2. ✖ 264 से.मी.
- 3. ✖ 132 से.मी.
- 4. ✔ 66 से.मी.

Question Number : 188 Question Id : 99836742442 Question Type : MCQ Option Shuffling : Yes Display Question Number : Yes  
Single Line Question Option : No Option Orientation : Vertical

Correct Marks : 1 Wrong Marks : 0.25

What will be the compound interest on a sum of Rs 1000 at the annual rate of 10% for 2 years?

Options :

1. ✖ Rs 190
2. ✔ Rs 210
3. ✖ Rs 220
4. ✖ Rs 200

Question Number : 188 Question Id : 99836742442 Question Type : MCQ Option Shuffling : Yes Display Question Number : Yes  
Single Line Question Option : No Option Orientation : Vertical

Correct Marks : 1 Wrong Marks : 0.25

1000 रुपये की एक राशि पर 10% की वार्षिक दर से 2 वर्षों का चक्रवृद्धि ब्याज क्या होगा?

Options :

1. ✖ 190 रुपये
2. ✔ 210 रुपये
3. ✖ 220 रुपये
4. ✖ 200 रुपये

Question Number : 189 Question Id : 99836742443 Question Type : MCQ Option Shuffling : Yes Display Question Number : Yes  
Single Line Question Option : No Option Orientation : Vertical

Correct Marks : 1 Wrong Marks : 0.25

In which of the following inverse variation is represented?

- I. If one person can make a wall in 36 days, then 3 person will make the same wall in  $(36/3)$  i.e 12 days.  
II. If a car moving at the speed of  $y$  km/hr covers a distance of ' $z$ ' km in time ' $t$ ', then it will cover ' $2z$ ' km distance in time ' $t$ ' by moving at the speed of  $2y$  km/hr.

Options :

1. ✔ Only I
2. ✖ Only II
3. ✖ Both I and II
4. ✖ Neither I nor II

Question Number : 189 Question Id : 99836742443 Question Type : MCQ Option Shuffling : Yes Display Question Number : Yes  
Single Line Question Option : No Option Orientation : Vertical

Correct Marks : 1 Wrong Marks : 0.25

निम्नलिखित में से किसमें व्युत्क्रमानुपाती को निरूपित किया गया है?

- I. यदि एक व्यक्ति एक दीवार को 36 दिन में बना सकता है, तो 3 व्यक्ति समान दीवार को  $(36/3)$  यानी 12 दिन में बना सकते हैं।  
II. यदि  $y$  किमी / घंटा की गति से चलने वाली एक कार ' $z$ ' किमी की दूरी को ' $t$ ' समय में तय करती है, तो वह ' $2z$ ' किमी की दूरी को  $2y$  किमी/घंटा की गति से ' $t$ ' समय में तय करेगी।

Options :

1. ✔ केवल I
2. ✖ केवल II
3. ✖ I तथा II दोनों
4. ✖ न तो I और न ही II

Question Number : 190 Question Id : 99836742444 Question Type : MCQ Option Shuffling : Yes Display Question Number : Yes  
Single Line Question Option : No Option Orientation : Vertical

Correct Marks : 1 Wrong Marks : 0.25

Which of the following statement is correct about the AAS congruence of triangles?

Options :

- ✗ If three sides of one triangle are congruent to the corresponding sides of the other triangle, then two triangles are congruent
- ✓ If two angles of one triangle are congruent to the corresponding angles of the other triangle and the sides included between them are congruent, then two triangles are congruent
- ✗ If two sides of one triangle are congruent to the corresponding sides of other triangle and the angles include between them are congruent, then two triangle are congruent
- ✗ If the hypotenuse and one side of one triangle are respectively congruent to the hypotenuse and the corresponding side of the other triangle, then two right angled triangles are congruent

Question Number : 190 Question Id : 99836742444 Question Type : MCQ Option Shuffling : Yes Display Question Number : Yes  
Single Line Question Option : No Option Orientation : Vertical

Correct Marks : 1 Wrong Marks : 0.25

त्रिभुजों के AAS सर्वांगसम के सन्दर्भ में निम्नलिखित में से कौन सा कथन सही है?

Options :

- ✗ यदि एक त्रिभुज की तीन भुजाएँ दूसरे त्रिभुज की संगत भुजाओं के सर्वांगसम हैं, तो दोनों त्रिभुज सर्वांगसम हैं
- ✓ यदि एक त्रिभुज के दो कोण दूसरे त्रिभुज के संगत कोणों के सर्वांगसम हैं तथा उनके बीच सम्मिलित भुजाएं सर्वांगसम हैं, तो दोनों त्रिभुज सर्वांगसम हैं
- ✗ यदि एक त्रिभुज की दो भुजाएँ दूसरे त्रिभुज की संगत भुजाओं के सर्वांगसम हैं तथा उनके बीच सम्मिलित कोण सर्वांगसम हैं, तो दोनों त्रिभुज सर्वांगसम हैं
- ✗ यदि एक त्रिभुज का कर्ण तथा एक भुजा दूसरे त्रिभुज के क्रमशः कर्ण तथा संगत भुजा के सर्वांगसम हैं, तो दोनों समकोण त्रिभुज सर्वांगसम हैं

Question Number : 191 Question Id : 99836742445 Question Type : MCQ Option Shuffling : Yes Display Question Number : Yes  
Single Line Question Option : No Option Orientation : Vertical

Correct Marks : 1 Wrong Marks : 0.25

The middle value of the data when arranged in ascending or descending order is called as \_\_\_\_\_.

Options :

- ✓ Median
- ✗ Mean
- ✗ Mode
- ✗ Product of the observations

Question Number : 191 Question Id : 99836742445 Question Type : MCQ Option Shuffling : Yes Display Question Number : Yes  
Single Line Question Option : No Option Orientation : Vertical

Correct Marks : 1 Wrong Marks : 0.25

आरोही या अवरोही क्रम में व्यवस्थित किये जाने पर आंकड़ों का मध्य मान \_\_\_\_\_ कहलाता है।

Options :

- ✓ मध्यिका
- ✗ माध्य
- ✗ बहुलक
- ✗ अवलोकनों का गुणनफल

Question Number : 192 Question Id : 99836742446 Question Type : MCQ Option Shuffling : Yes Display Question Number : Yes  
Single Line Question Option : No Option Orientation : Vertical

Correct Marks : 1 Wrong Marks : 0.25

While collecting the assessment information regarding the child, which of the following points we should keep in our mind?

- I. What are the sources to collect information while assessing the child?
- II. In what way the information can be collected?
- III. What kind of information should be collected?

Options :

- 1. ✖ I and III
- 2. ✖ Only II
- 3. ✔ I, II and III
- 4. ✖ II and III

Question Number : 192 Question Id : 99836742446 Question Type : MCQ Option Shuffling : Yes Display Question Number : Yes  
Single Line Question Option : No Option Orientation : Vertical

Correct Marks : 1 Wrong Marks : 0.25

बच्चे के बारे में मूल्यांकन की सुचना संग्रहित करते समय, निम्नलिखित में से किन बातों को हमें ध्यान में रखना चाहिए?

- I. बच्चे का मूल्यांकन करते समय सुचना संग्रहित करने के स्रोत क्या होते हैं?
- II. सुचना किस तरीके से संग्रहित की जा सकती है?
- III. किस प्रकार की सुचना संग्रहित की जानी चाहिए?

Options :

- 1. ✖ I तथा III
- 2. ✖ केवल II
- 3. ✔ I, II तथा III
- 4. ✖ II तथा III

Question Number : 193 Question Id : 99836742447 Question Type : MCQ Option Shuffling : Yes Display Question Number : Yes  
Single Line Question Option : No Option Orientation : Vertical

Correct Marks : 1 Wrong Marks : 0.25

Which of the following statements regarding deductive reference method of teaching science in teaching-learning process is/are correct?

- I. Students get ready-made material.
- II. It is a speedy process and syllabi can be covered easily.
- III. The teacher's work is simplified here by giving rules and asking you to verify it by application to several concrete examples.

Options :

- 1. ✖ I and II
- 2. ✖ II and III
- 3. ✖ I and III
- 4. ✔ I, II and III

Question Number : 193 Question Id : 99836742447 Question Type : MCQ Option Shuffling : Yes Display Question Number : Yes  
Single Line Question Option : No Option Orientation : Vertical

Correct Marks : 1 Wrong Marks : 0.25

शिक्षण-अधिगम प्रक्रिया में विज्ञान शिक्षण की निगमनात्मक संदर्भ विधि के बारे में निम्नलिखित में से कौन सा/से कथन सही है?

- I. विद्यार्थी को तैयार सामग्री मिलती है
- II. यह एक त्वरित प्रक्रिया है तथा पाठ्यक्रम को आसानी से पूरा किया जा सकता है
- III. शिक्षक का काम यहाँ नियमों को देकर तथा आपको कई मूर्त उदाहरणों पर अनुप्रयोग करके सत्यापित करने के लिए कहकर आसान हो जाता है

Options :

- 1. ✖ I तथा II



2. ✖ II तथा III
3. ✖ I तथा III
4. ✔ I, II तथा III

Question Number : 194 Question Id : 99836742448 Question Type : MCQ Option Shuffling : Yes Display Question Number : Yes  
Single Line Question Option : No Option Orientation : Vertical

Correct Marks : 1 Wrong Marks : 0.25

Which of the following statement regarding inquiry approach to teaching science in the classroom is/are correct?

- I. Teaching learning process is totally controlled by the students.
- II. The teacher will ask the students questions to collect the data.

Options :

1. ✔ Only I
2. ✖ Only II
3. ✖ Both I and II
4. ✖ Neither I nor II

Question Number : 194 Question Id : 99836742448 Question Type : MCQ Option Shuffling : Yes Display Question Number : Yes  
Single Line Question Option : No Option Orientation : Vertical

Correct Marks : 1 Wrong Marks : 0.25

विज्ञान शिक्षण के जांच उपागम के बारे में निम्नलिखित में से कौन सा/से कथन सही है/हैं?

- I. शिक्षण-अधिगम प्रक्रिया को पूरी तरह से विद्यार्थियों द्वारा नियंत्रित किया जाता है
- II. अध्यापक डेटा एकत्र करने के लिए विद्यार्थियों से सवाल पूछेगा

Options :

1. ✔ केवल I
2. ✖ केवल II
3. ✖ I तथा II दोनों
4. ✖ न तो I और न ही II

Question Number : 195 Question Id : 99836742449 Question Type : MCQ Option Shuffling : Yes Display Question Number : Yes  
Single Line Question Option : No Option Orientation : Vertical

Correct Marks : 1 Wrong Marks : 0.25

Which of the following is/are the limitations of using discovery approach to teaching science?

- I. Frustration may be there with low ability students because they may not discover any relationship.
- II. Costly method in terms of time and other resources.

Options :

1. ✖ Only I
2. ✖ Only II
3. ✔ Both I and II
4. ✖ Neither I nor II

Question Number : 195 Question Id : 99836742449 Question Type : MCQ Option Shuffling : Yes Display Question Number : Yes  
Single Line Question Option : No Option Orientation : Vertical

Correct Marks : 1 Wrong Marks : 0.25

निम्नलिखित में से कौन सा/से विज्ञान शिक्षण के लिए खोज दृष्टिकोण का उपयोग करने की सीमाएं हैं?

- I. कम क्षमता वाले छात्रों में निराशा हो सकती है क्योंकि वे किसी संबंध की खोज नहीं कर सकते हैं।
- II. समय और अन्य संसाधनों के संदर्भ में महंगा तरीका।

Options :

1. ✖ केवल I
2. ✖ केवल II
3. ✔ I तथा II दोनों
4. ✖ न तो I और न ही II

Question Number : 196 Question Id : 99836742450 Question Type : MCQ Option Shuffling : Yes Display Question Number : Yes  
Single Line Question Option : No Option Orientation : Vertical

Correct Marks : 1 Wrong Marks : 0.25

\_\_\_\_\_ is a very detailed and specific plan consisting of intended learning outcomes, description of teaching - learning strategies and activities and actual tool for assessment of learning outcome

Options :

1. ✔ Lesson plan
2. ✖ Unit plan
3. ✖ Yearly plan
4. ✖ Five year plan

Question Number : 196 Question Id : 99836742450 Question Type : MCQ Option Shuffling : Yes Display Question Number : Yes  
Single Line Question Option : No Option Orientation : Vertical

Correct Marks : 1 Wrong Marks : 0.25

\_\_\_\_\_ एक बहुत विस्तृत और विशिष्ट योजना है जिसमें इच्छित सीखने के परिणाम, शिक्षण-अधिगम की रणनीतियों और गतिविधियों और सीखने के परिणामों के मूल्यांकन के लिए वास्तविक उपकरण शामिल हैं।

Options :

1. ✔ पाठ योजना
2. ✖ यूनिट योजना
3. ✖ वार्षिक योजना
4. ✖ पंचवर्षीय योजना

Question Number : 197 Question Id : 99836742451 Question Type : MCQ Option Shuffling : Yes Display Question Number : Yes  
Single Line Question Option : No Option Orientation : Vertical

Correct Marks : 1 Wrong Marks : 0.25

Which of the following educational resources are available at the school level?

- I. Library
- II. Laboratory
- III. Garden
- IV. Playground

Options :

1. ✖ I, II and III
2. ✖ II, III and IV
3. ✖ I, III and IV
4. ✔ I, II, III and IV

Question Number : 197 Question Id : 99836742451 Question Type : MCQ Option Shuffling : Yes Display Question Number : Yes  
Single Line Question Option : No Option Orientation : Vertical

Correct Marks : 1 Wrong Marks : 0.25

निम्नलिखित शैक्षिक संसाधनों में से कौन सा विद्यालय स्तर पर उपलब्ध होता है?

- I. पुस्तकालय
- II. प्रयोगशाला
- III. उद्यान
- IV. खेल का मैदान

Options :

- 1. ✖ I, II तथा III
- 2. ✖ II, III तथा IV
- 3. ✖ I, III तथा IV
- 4. ✔ I, II, III तथा IV

Question Number : 198 Question Id : 99836742452 Question Type : MCQ Option Shuffling : Yes Display Question Number : Yes  
Single Line Question Option : No Option Orientation : Vertical

Correct Marks : 1 Wrong Marks : 0.25

\_\_\_\_\_ refers to information or knowledge that helps students to do something specific to a discipline, subject and area of study.

Options :

- 1. ✖ Factual knowledge
- 2. ✖ Conceptual knowledge
- 3. ✔ Procedural knowledge
- 4. ✖ Metacognitive knowledge

Question Number : 198 Question Id : 99836742452 Question Type : MCQ Option Shuffling : Yes Display Question Number : Yes  
Single Line Question Option : No Option Orientation : Vertical

Correct Marks : 1 Wrong Marks : 0.25

\_\_\_\_\_ सूचना या ज्ञान को संदर्भित करता है जो छात्रों को एक शिक्षण, विषय और अध्ययन के क्षेत्र के लिए कुछ करने में मदद करता है।

Options :

- 1. ✖ तथ्यात्मक ज्ञान
- 2. ✖ वैचारिक ज्ञान
- 3. ✔ प्रक्रियात्मक ज्ञान
- 4. ✖ मेटाकोग्निटिव ज्ञान

Question Number : 199 Question Id : 99836742453 Question Type : MCQ Option Shuffling : Yes Display Question Number : Yes  
Single Line Question Option : No Option Orientation : Vertical

Correct Marks : 1 Wrong Marks : 0.25

In developing countries, large number of children are excluded from schools due to \_\_\_\_\_ factors.

- I. Social
- II. Economic

Options :

- 1. ✖ Only I
- 2. ✖ Only II
- 3. ✔ Both I and II
- 4. ✖ Neither I nor II

Question Number : 199 Question Id : 99836742453 Question Type : MCQ Option Shuffling : Yes Display Question Number : Yes  
Single Line Question Option : No Option Orientation : Vertical

Correct Marks : 1 Wrong Marks : 0.25

विकासशील देशों में \_\_\_\_\_ कारकों के कारण बच्चों को विद्यालय से निकाल दिया जाता है।

- I. सामाजिक
- II. आर्थिक

Options :

- 1. ✖ केवल I
- 2. ✖ केवल II
- 3. ✔ I तथा II दोनों
- 4. ✖ न तो I और न ही II

Question Number : 200 Question Id : 99836742454 Question Type : MCQ Option Shuffling : Yes Display Question Number : Yes  
Single Line Question Option : No Option Orientation : Vertical

Correct Marks : 1 Wrong Marks : 0.25

Which of the following pair of assessment approach - feature is NOT correct?

Options :

- 1. ✖ Traditional - One about assessment procedure
- 2. ✖ Collaborative - assessment procedure related to curriculum
- 3. ✔ Collaborative - Based on medical model
- 4. ✖ Traditional - student viewed as passive recipient of assessment

Question Number : 200 Question Id : 99836742454 Question Type : MCQ Option Shuffling : Yes Display Question Number : Yes  
Single Line Question Option : No Option Orientation : Vertical

Correct Marks : 1 Wrong Marks : 0.25

निम्नलिखित में से कौन सा आंकलन-उपागम का युग्म सही नहीं है?

Options :

- 1. ✖ पारंपरिक - आंकलन प्रक्रिया के बारे में एक
- 2. ✖ सहयोगात्मक - पाठ्यक्रम से संबंधित आंकलन प्रक्रिया
- 3. ✔ सहयोगात्मक - मैडिकल मॉडल पर आधारित
- 4. ✖ पारंपरिक - छात्र को आंकलन के निष्क्रिय प्राप्तकर्ता के रूप में देखा जाता है